

173F

173

F

نام:
نام خانوادگی:
محل امضا:



«اگر دانشگاه اصلاح شود مملکت اصلاح می شود.»
امام خمینی (ره)

صبح جمعه
۱۳۹۵/۱۲/۶
دفترچه شماره (۱)

جمهوری اسلامی ایران
وزارت علوم، تحقیقات و فناوری
سازمان سنجش آموزش کشور

آزمون ورودی
دوره دکتری (نیمه متمرکز) داخل - سال ۱۳۹۶

رشته امتحانی مدیریت منابع خاک (کد - ۲۴۲۱)

تعداد سؤال: ۸۰
مدت پاسخگویی: ۱۲۰ دقیقه

عنوان مواد امتحانی، تعداد و شماره سؤالات

ردیف	مواد امتحانی	تعداد سؤال	از شماره	تا شماره
۱	مجموعه دروس تخصصی (شیمی و حاصلخیزی خاک - فیزیک و حفاظت خاک - رده بندی و ارزیابی خاک - فیزیک و حفاظت خاک پیشرفته - پیدایش و رده بندی خاک پیشرفته - ارزیابی تناسب اراضی)	۸۰	۱	۸۰

این آزمون نمره منفی دارد.

استفاده از ماشین حساب مجاز نیست.

اسفندماه - سال ۱۳۹۵

حق چاپ، تکثیر و انتشار سؤالات به هر روش (الکترونیکی و ...) پس از برگزاری آزمون، برای تمامی اشخاص حقیقی و حقوقی تنها با مجوز این سازمان مجاز می باشد و با متخلفین برابر مقررات رفتار می شود.

شیمی و حاصلخیزی خاک:

۱- غلظت یون‌های کلسیم، منیزیم و سدیم در عصاره اشباع یک خاک به ترتیب 16° ، 12° و 115 میلی‌گرم بر لیتر

است. SAR این محلول چند $\frac{\text{mmol}}{\text{L}}$ است؟ ($\text{Na} = 23, \text{Mg} = 24, \text{Ca} = 40$)

(۱) $1/42$

(۲) $1/66$

(۳) $1/80$

(۴) $2/35$

۲- اگر غلظت سدیم و پتاسیم در یک محلول در تعادل با رس برابر باشد، چند درصد از مکان‌های تبادلی این رس را

سدیم اشغال کرده است؟ ($\frac{\text{K Na}}{\text{K}} = 0/2$)

(۱) 10

(۲) $16/7$

(۳) 20

(۴) $20/8$

۳- اگر در یک لیتر هوای خاکی که دارای تهویه مطلوب می‌باشد، 10 میلی‌لیتر گاز CO_2 وجود داشته باشد، غلظت

CO_2 محلول در آب تقریباً چند $\frac{\text{mol}}{\text{l}}$ است؟

(ضریب هنری برای گاز CO_2 در دمای 25°C برابر با $10^{-3} \text{ atm}^{-1} \text{ mol}^{-1} \text{ m}^{-3}$ بوده و فرض می‌گردد بین فاز مایع و گاز تعادل برقرار بوده و دمای محلول 25°C باشد.)

(۱) $2/176 \times 10^{-3}$

(۲) $3/4 \times 10^{-4}$

(۳) $4/79 \times 10^{-3}$

(۴) $6/1 \times 10^{-3}$

۴- قدرت یونی محلول سولفات سدیم $0/15$ مولار است. غلظت یون سولفات در این محلول چند میلی‌مول بر لیتر است؟

(۱) 30

(۲) 50

(۳) 100

(۴) 150

۵- کدام مورد درست است؟

- (۱) در کانی‌ها فارغ از عدد کوئوردینیشن (هم‌آرایی) یک یون، با افزایش ظرفیت آن، شعاع یون کاهش می‌یابد.
- (۲) در کانی‌ها شعاع کریستالی کاتیون با افزایش عدد کوئوردینیشن (هم‌آرایی) یون در ظرفیت ثابت کاهش می‌یابد.
- (۳) در کانی‌ها شعاع کریستالی کاتیون با افزایش عدد کوئوردینیشن (هم‌آرایی) یون در ظرفیت ثابت افزایش می‌یابد.
- (۴) در کانی‌ها شعاع کریستالی کاتیون با افزایش عدد کوئوردینیشن (هم‌آرایی) یون در ظرفیت ثابت تغییری نمی‌کند.

- ۶- ضریب فعالیت یون در یک محلول به ترتیب با قدرت یونی محلول و بار یون چه رابطه‌ای دارد؟
 (۱) مستقیم - مستقیم
 (۲) معکوس - مستقیم
 (۳) مستقیم - معکوس
 (۴) معکوس - معکوس
- ۷- براساس مدل لایه دوگانه پخشیده (DDL)، ضخامت این لایه با کدام عامل رابطه مستقیم دارد؟
 (۱) ثابت دی‌الکتریک محلول خاک
 (۲) غظت الکترولیت‌ها در محلول خاک
 (۳) ظرفیت کاتیون تبدلی
 (۴) شعاع هیدراته کاتیون
- ۸- کدام کاتیون در مرکز واحد هشت وجهی کانی قرار می‌گیرد؟
 (۱) لیتیم
 (۲) پتاسیم
 (۳) سدیم
 (۴) کلسیم
- ۹- کدام مورد، نام عمومی کانی زیر است؟

$$\text{Na} \times [(\text{Al}_{\frac{1}{2}}^{+3} \text{Fe}_{\frac{1}{4}}^{+3} \text{Mg}_{\frac{1}{4}}) (\text{Si}_{\frac{1}{2}} \text{Al}_{\frac{1}{2}}) \text{O}_{10} (\text{OH})_2]$$
 (۱) ایلات
 (۲) هالوسایت
 (۳) اسمکتایت
 (۴) ورمیکولایت
- ۱۰- در کانی رس زیر اگر ۲۰ درصد جانشینی هم‌شکل Fe^{3+} به جای Mg^{2+} انجام شده باشد، x چقدر است؟

$$\text{Mg}_x [(\text{Si}_3 \text{Al})(\text{Mg}_{3-y} \text{Fe}_y^{3+})_2 \text{O}_{10} (\text{OH})_2]$$
 (۱) ۰٫۲
 (۲) ۰٫۳
 (۳) ۰٫۴
 (۴) ۰٫۶
- ۱۱- ترتیب اهمیت رقابت بین ریشه‌های برای سه عنصر نیتروژن، فسفر و پتاسیم چگونه است؟
 (۱) $\text{N} > \text{P} > \text{K}$
 (۲) $\text{P} > \text{K} > \text{N}$
 (۳) $\text{K} > \text{N} > \text{P}$
 (۴) $\text{N} > \text{K} > \text{P}$
- ۱۲- هرچه ضریب تأثیر (the efficiency factor) در معادله میچرلیخ کمتر باشد، کدام مورد بیشتر است؟
 (۱) بازیافت کود مصرفی در خاک
 (۲) سرعت دستیابی به بیشینه عملکرد
 (۳) قدرت تثبیت کود مصرفی توسط ذرات جامد خاک
 (۴) تأثیر یک مقدار مشخص کود بر افزایش عملکرد محصول
- ۱۳- مصرف نیکل به بهبود متابولیسم کدام ترکیب کمک می‌کند؟
 (۱) آمونیوم
 (۲) اوره
 (۳) نترات
 (۴) اسیدهای آمینه
- ۱۴- در لگوم‌های همزیست باریزوبیوم‌ها در مراحل آغازین کمبود گوگرد، نشانه‌های تشخیص از نشانه‌های کمبود کدام عنصر به راحتی قابل تفکیک نیست؟
 (۱) نیتروژن
 (۲) آهن
 (۳) منیزیم
 (۴) روی
- ۱۵- کدام مورد می‌تواند در خصوص بیشترین محدودیت تجزیه ماده آلی درست باشد؟
 (۱) در خاک‌های رسی حاوی آلومینیوم، آهن و سلنیوم
 (۲) در خاک‌های شنی حاوی آلومینیوم، آهن و سلنیوم
 (۳) در خاک‌های رسی حاوی مقادیر زیاد نمک‌های محلول و یا مقادیر سمی بور
 (۴) در خاک‌های شنی حاوی مقادیر زیاد نمک‌های محلول و یا مقادیر سمی بور

۱۶- افزودن ۵۰ تن گوگرد به یک هکتار (وزن خاک ۴ میلیون کیلوگرم در هکتار) چند درصد کربنات کلسیم را می‌تواند در خاک خنثی کند؟

(Ca = ۴۰, S = ۳۲, C = ۱۲, O = ۱۶)

(۱) ۳/۹

(۲) ۵

(۳) ۷/۸

(۴) ۱۰

۱۷- نیروی اکسیداسیونی برنج در شالیزار به فراهمی کدام عنصر بستگی دارد؟

(۱) آهن و روی

(۲) مس و منگنز

(۳) نیتروژن و فسفر

(۴) پتاسیم

۱۸- کدام دسته از کودها، زمانی که به سطح خاک آهکی اضافه شوند، بیشترین هدررفت نیتروژن را خواهند داشت؟

(۱) سولفات آمونیوم - نیترات آمونیوم

(۲) سولفات آمونیوم - فسفات آمونیوم

(۳) نیترات آمونیوم - فسفات آمونیوم

(۴) کلرید آمونیوم - سولفات آمونیوم

فیزیک و حفاظت خاک:

۱۹- اثر بافت خاک بر نگهداشت آب در کدام بخش منحنی مشخصه آب خاک بیشتر است؟

(۱) محدوده رطوبت اشباع تا مکش ورود هوا

(۲) محدوده مکش ورود هوا تا رطوبت ظرفیت مزرعهای

(۳) محدوده رطوبت از مکش یک بار تا نقطه پژمردگی دائم

(۴) محدوده رطوبت ظرفیت مزرعهای تا مکش یک بار

۲۰- شدت جریان غیرماندگار آب به‌داخل لایه‌ای از خاک به ضخامت ۳ سانتی‌متر برابر ۵ سانتی‌متر در ساعت و شدت

جریان خروجی از آن ۳ سانتی‌متر در ساعت است. مقدار تقریبی تغییر رطوبت در لایه خاک چند h^{-1} است؟

(۱) ۰/۶۵

(۲) ۰/۶۷

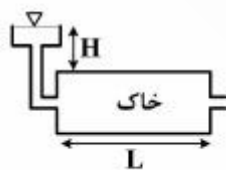
(۳) ۰/۷

(۴) ۱/۵

۲۱- دو ستون خاک همگن و اشباع با طول برابر و هدایت هیدرولیکی $۲ \frac{cm}{min}$ مطابق شکل‌های زیر در نظر بگیرید.

شدت جریان (q) در ستون افقی $۵ \frac{cm}{min}$ است. مقدار q در ستون عمودی چند $\frac{cm}{min}$ است؟ (بار آبی H در هر دو

ستون ثابت و یکسان است.)



(۱) ۳

(۲) ۵

(۳) ۷

(۴) ۱۰

۲۲- اگر گرمای ویژه جرمی خاک خشکی برابر 0.5 کالری بر گرم و گرمای ویژه حجمی آن 0.75 کالری بر سانتی‌متر مکعب باشد و جرم مخصوص حقیقی آن 2.5 گرم بر سانتی‌متر مکعب گردد، درصد تخلخل کل خاک چقدر است؟

(۱) ۳۰

(۲) ۴۰

(۳) ۶۰

(۴) ۷۰

۲۳- اگر نقطه A در بالای سطح ایستابی که به‌عنوان سطح مقایسه دلخواه هم فرض شده است، 5 سانتی‌متر فاصله داشته باشد، پتانسیل هیدرولیکی آن در حالت تعادل آبی چقدر است؟

(۱) $+100$ سانتی‌متر(۲) $+50$ سانتی‌متر(۳) -50 سانتی‌متر

(۴) صفر

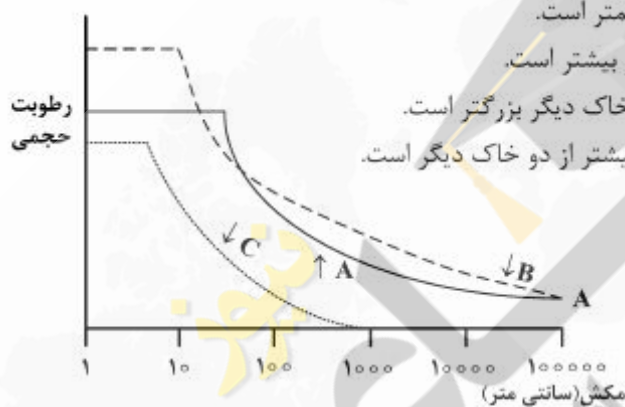
۲۴- منحنی رطوبتی سه خاک مطابق شکل داده شده است. کدام مورد درباره این سه خاک درست است؟

(۱) تنوع اندازه منافذ در خاک B از دو خاک دیگر کمتر است.

(۲) جرم مخصوص ظاهری خاک C از دو خاک دیگر بیشتر است.

(۳) بزرگ‌ترین منفذ خاک A از بزرگ‌ترین منافذ دو خاک دیگر بزرگتر است.

(۴) مکش ماتریک در نقطه پژمردگی دائم خاک B بیشتر از دو خاک دیگر است.



۲۵- طبق قانون استوکس در آزمایش رسوب‌سنجی، اگر شعاع ذره در حال سقوط دو برابر و گرانشی مایع نصف گردد، زمان سقوط ذره چند برابر می‌شود؟

(۱) $\frac{1}{2}$ (۲) $\frac{1}{4}$ (۳) $\frac{1}{6}$ (۴) $\frac{1}{8}$

۲۶- استوانه‌ای از خاک به طول 10 cm ، سطح مقطع 5 cm^2 و تخلخل 50% درصد داریم. اگر رطوبت وزنی خاک 20% درصد و جرم مخصوص حقیقی آن $\frac{2.6}{\text{cm}^3}\text{g}$ باشد، جرم خاک مرطوب چند گرم خواهد بود؟

(۱) ۶۵۰

(۲) ۷۸۰

(۳) ۱۳۰۰

(۴) ۱۵۶۰

۲۷- منحنی رطوبتی کمپل $h = h_e \left(\frac{\theta}{\theta_s}\right)^{-b}$ در کدام دامنه از مکش (کمیت مثبت برحسب kPa) معتبر است؟ (مکش ورودی هوای خاک 15 kPa است).

(۱) $h \geq h_e$ (۲) $h \leq 10$ (۳) $h < h_e$ (۴) $0 \leq h \leq 1500$

۲۸- کدام مورد درباره تغییر ویژگی‌های گرمایی با رطوبت خاک درست است؟

(۱) با افزایش رطوبت خاک، هدایت گرمایی در ابتدا کاهش و سپس افزایش می‌یابد.

(۲) با افزایش رطوبت خاک، پخشیدگی گرمایی در ابتدا افزایش و سپس کاهش می‌یابد.

(۳) با افزایش رطوبت خاک، گنجایش گرمایی خاک در ابتدا افزایش و سپس کاهش می‌یابد.

(۴) با کاهش رطوبت خاک، کاهش پخشیدگی گرمایی شدیدتر از کاهش هدایت گرمایی است.

۲۹- کدام ویژگی خاک به عنوان یک شاخص معمول در برآورد فرسایش پذیری بادی محسوب می‌شود؟

(۱) GMD

(۲) MWD

(۳) فراوانی خاکدانه‌های با قطر 0.1 تا 0.05 میلی‌متر در الک خشک(۴) فراوانی خاکدانه‌های با قطر کمتر از 0.075 میلی‌متر در الک خشک

۳۰- در شرایطی که سرعت باد غالب منطقه برابر با سرعت آستانه فرسایش بادی باشد، کدام مورد درست است؟

(۱) فاصله بادشکن مستقیماً براساس ارتفاع بادشکن محاسبه می‌شود.

(۲) فاصله بادشکن‌ها باید بیشتر در نظر گرفته شود.

(۳) تراکم بادشکن‌ها می‌تواند کاهش پیدا کند.

(۴) نیاز اضطراری به احداث بادشکن نیست.

۳۱- در کدام مقدار بارندگی متوسط سالانه برحسب میلی‌متر، بیشترین میزان تولید رسوب رخ می‌دهد؟

(۱) ۱۲۰

(۲) ۲۵۰

(۳) ۵۰۰

(۴) ۱۲۰۰

۳۲- حساس‌ترین ذرات خاک به فرسایش آبی خاک، کدام گروه از ذرات می‌باشند؟

(۱) ۲ تا ۵۰ میکرون

(۲) ۲ تا ۱۰۰ میکرون

(۳) ۲۰ تا ۲۵۰ میکرون

(۴) ۲۰ تا ۳۰۰ میکرون

۳۳- مهم‌ترین ویژگی بارندگی که سایر ویژگی‌های باران وابسته به آن بوده و بیشترین تأثیر را بر شدت فرسایش خاک دارد، کدام است؟

(۱) شدت بارندگی

(۲) مدت بارندگی

(۳) سرعت سقوط نهایی

(۴) قطر قطرات

- ۳۴- اگر مقادیر W_d و W_l (درصد وزنی رطوبت خاک) برای یک خاک به ترتیب ۲۰ و ۱۵ درصد باشد، با توجه به شاخص پایداری (Consistency Index) وضعیت خاک از نظر حساسیت به تشکیل اندوده سطحی چگونه است؟
- (۱) خاکی پایدار است.
 (۲) بینابینی است.
 (۳) با این اطلاعات نمی توان محاسبه کرد.
 (۴) دارای حساسیت به تشکیل اندوده سطحی است.

- ۳۵- دیمانسیون (واحد) ضریب زبری مانینگ کدام است؟

(۱) $m.s^{-1}$ (۲) $m^2.s^{-1/2}$ (۳) $s.m^{-1/2}$ (۴) $m.s^{-1/2}$

- ۳۶- در یک سیستم تراس بندی که در آن طول و فاصله تراس های آبراهه ای (بانکت) به ترتیب ۲۰۰ و ۵۰ متر است، با فرض اینکه حداکثر شدت بارش محتمل برابر با $72 \frac{mm}{h}$ باشد، حداکثر دبی رواناب ممکن برای هر تراس چند

$\frac{m^3}{s}$ خواهد بود؟

- (۱) ۰/۰۲
 (۲) ۰/۰۵
 (۳) ۰/۲
 (۴) ۰/۵

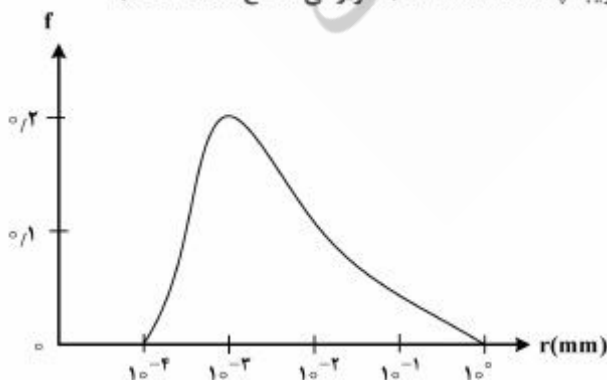
رده بندی و ارزیابی خاک:

- ۳۷- در شرایط فاقد لایه محدودکننده ریشه بخش کنترل فامیل خاک برای کدام ویژگی ها مشابه است؟
- (۱) کلاس کانی شناسی و دمای خاک
 (۲) کلاس کانی شناسی و آهکی بودن خاک
 (۳) کلاس اندازه ذرات و آهکی بودن خاک
 (۴) کلاس اندازه ذرات و کانی شناسی خاک
- ۳۸- طی فرایند فرالیتی شدن، امکان تشکیل کدام کانی بیشتر است؟
- (۱) اوپال
 (۲) کائولینیت
 (۳) مونتموریلونیت
 (۴) جالی گورسکیت
- ۳۹- در مورد منشأ کائولینیت موجود در خاک های مناطق خشک و مناطق استوایی به ترتیب کدام مورد درست است؟
- (۱) موروثی - تغییر شکل
 (۲) نوتشکیلی - موروثی
 (۳) تغییر شکل - موروثی
 (۴) نوتشکیلی - تغییر شکل
- ۴۰- کدام گروه مرجع، در طیف وسیع تری از اقلیم و pH گسترش دارد؟
- (۱) Podzols (۲) Gypsisols (۳) Cambisols (۴) Ferralsols
- ۴۱- کدام مورد، ویژگی های خاک های "Lixisols" را بهتر معرفی می کند؟
- (۱) $CEC < 24, BS > 50$
 (۲) $CEC < 24, BS < 50$
 (۳) $CEC > 24, BS > 50$
 (۴) $CEC > 24, BS < 50$
- ۴۲- کدام عوامل، در رسوب کربنات کلسیم ثانویه (پدوژنیک) مؤثر هستند؟
- (۱) افزایش فشار گاز CO_2 و افزایش رطوبت
 (۲) کاهش فشار گاز CO_2 و کاهش رطوبت
 (۳) افزایش فشار گاز CO_2 و کاهش رطوبت
 (۴) کاهش فشار گاز CO_2 و افزایش رطوبت

- ۴۳- خاک‌های Durisols براساس سیستم WRB در چه اقلیمی دیده می‌شوند؟
 (۱) استپ (۲) حاره (۳) معتدله مرطوب (۴) خشک و نیمه‌خشک
- ۴۴- کانی‌های Imogolite و Allophane در کدام راسته دیده می‌شوند؟
 (۱) Ferralsols (۲) Histosols (۳) Andosols (۴) Vertisols
- ۴۵- حد هدایت الکتریکی لازم برای اینکه خاکی دارای افق salic و در سیستم WRB در گروه مرجع Solonchaks طبقه‌بندی شود، چند dSm^{-1} است؟
 (۱) ۱۵ (۲) ۲۰ (۳) ۳۰ (۴) ۹۰۰
- ۴۶- نسبت C/N در سه افق A به ترتیب حدود ۱۲، ۳۵ و ۲۰ می‌باشد. در کدام نسبت (C/N)، ساختمان خاک تکامل یافته‌تری انتظار می‌رود؟
 (۱) ۱۲ (۲) ۲۰ (۳) ۳۵ (۴) ۱۲ تا ۳۵

فیزیک و حفاظت خاک پیشرفته:

- ۴۷- تأثیرگذاری ساختمان خاک روی نفوذپذیری ذاتی خاک (k) برای آب عمدتاً از کدام طریق صورت می‌گیرد؟
 (۱) تخلخل کل خاک (Total porosity) (۲) پیوستگی مجاری خاک (pore continuity) (۳) توزیع اندازه منافذ (pore size distribution) (۴) کج و معوجی مجاری خاک (pore tortuosity)
- ۴۸- کدام مورد درباره دیگرام بافت خاک (پورسما و شیرازی) درست است؟
 (۱) خاک‌هایی که در بالای دیگرام بافت خاک قرار دارند، از نظر توزیع ذرات یکنواخت هستند.
 (۲) وقتی درصد شن در خاک ۱۰۰ درصد باشد، انحراف معیار هندسی قطر ذرات بیشترین است.
 (۳) وقتی درصد رس در خاک ۱۰۰ درصد باشد، انحراف معیار هندسی قطر ذرات بیشترین است.
 (۴) انحراف معیار هندسی اندازه ذرات (σ_g) با افزایش گستردگی توزیع اندازه ذرات خاک، افزایش می‌یابد.
- ۴۹- در شرایط رطوبت یکسان در ستون خاک، اگر در هر ثانیه ۰/۱۲ متر مکعب آب از واحد سطح مقطع ستون خاک که نقطه انتهایی آن در ارتفاع ۲ متری از سطح مبنا (مقایسه) قرار دارد عبور کند، هدایت هیدرولیکی اشباع خاک چند متر بر ثانیه خواهد بود؟
 (۱) ۰/۱۲ (۲) ۰/۲۴ (۳) ۲/۱۲ (۴) ۲/۲۴
- ۵۰- با توجه به شکل زیر مکش ورود هوای (he) خاک تقریباً چند kPa است؟ (f فراوانی شعاع منافذ خاک)
 (۱) ۰/۱۵ (۲) ۱/۵ (۳) ۱۵ (۴) ۱۵۰



۵۱- حداکثر گرمای ویژه حجمی در یک خاک با تخلخل ۶۰٪ حدوداً چند $\text{cal cm}^{-3} \text{e}^{-1}$ است و در خاکی با مکش برابر با چند kPa اتفاق می‌افتد؟ (ماده آلی خاک ناچیز است و گرمای ویژه حجمی بخش جامد خاک برابر ۰/۳ کالری بر سانتی‌متر مکعب درجه سانتی‌گراد است.)

(۱) $he - 0.50$ (مکش ورود هوا)

(۲) 0.72 - صفر (اشباع)

(۳) $1.00 - 33$

(۴) $1.25 - 10$

۵۲- اگر ماده شیمیایی اختلاط ناپذیری را با غلظت ۱/۲ مول در لیتر به خاکی که شدت جریان آب در آن ۱/۵ متر در سال و رطوبت آن ۱۰ درصد حجمی است و سطح ایستابی در عمق ۱۵ متری قرار گرفته اضافه کنیم، چند سال طول می‌کشد تا این ماده به آب زیرزمینی برسد؟

(۱) ۱/۵

(۲) ۱۰

(۳) ۱۵

(۴) ۱۰۰

۵۳- منطقه رطوبتی غیرمتحرک (Immobile water) در یک خاک رسی مشخص در کدام حالت بیشتر است؟

(۱) خاک دارای ساختمان و کانال‌های حاصل از فعالیت کرم‌ها و پوسیدن ریشه‌ها

(۲) خاک دارای ساختمان و کانال‌های حاصل از فعالیت کرم‌ها

(۳) خاک دارای ساختمان

(۴) خاک فاقد ساختمان

۵۴- مدل بروکس و کوری - بردین برای هدایت هیدرولیکی نسبی دو خاک به ترتیب به صورت

$$K_r(h) = \left(\frac{h}{\phi}\right)^{-2/5}, K_r(h) = \left(\frac{h}{\phi}\right)^{-8}$$

کدام مورد درست است؟

(۱) خاک اول متراکم و خاک دوم ساختمان‌دار است.

(۲) خاک اول سنگین‌بافت و خاک دوم سبک‌بافت است.

(۳) خاک اول سبک‌بافت و خاک دوم سنگین‌بافت است.

(۴) خاک اول ریزبافت و خاک دوم درشت‌بافت است.

۵۵- نتایج تحقیقات انجام شده مؤید این است که فرایندهای جدا شدن و انتقال ذرات از یکدیگر مجزا هستند و میزان تحویل رسوب به فرآیندی وابسته است که مقدار آن باشد.

(۱) کمتر

(۲) بیشتر

(۳) برابر

(۴) کمتر یا بیشتر (بستگی به نوع فرسایش)

۵۶- اگر ذره‌ای که قبلاً کنده شده و رسوب کرده باشد مجدداً توسط رواناب کنده شود، چه فرآیندی نام دارد؟

(۱) Detachment

(۲) Entrainment

(۳) Re-detachment

(۴) Re-entrainment

۵۷- احداث تراس‌های آبراه‌های و بندهای کنترل خندق باید به ترتیب از کدام سمت شروع شوند؟

(۱) پایین‌دست - بالادست

(۲) پایین‌دست - پایین‌دست

(۳) بالادست - پایین‌دست

(۴) بالادست - بالادست

۵۸- در کنترل یک خندق اگر طول آن نصف و ارتفاع بندها دو برابر شود، تعداد بندها چند درصد کاهش می‌یابد؟

(۱) ۲۵٪ (۲) ۵۰٪

(۳) ۷۵٪ (۴) تعداد بندها ثابت می‌ماند.

۵۹- در فرسایش بین شیاری، به ترتیب کدام مورد عامل اصلی کندن و انتقال ذرات خاک هستند؟

(۱) رواناب - رواناب (۲) قطرات باران - رواناب

(۳) هر دو (قطرات باران و رواناب) - رواناب (۴) قطرات باران - هر دو (قطرات باران و رواناب)

۶۰- اگر متوسط غلظت رسوب و دبی جریان روزانه رودخانه‌ای به ترتیب $9 \frac{m^3}{s}$ ، $100 \frac{mg}{L}$ باشد، با فرض اینکه مساحت

حوضه ۱۰,۰۰۰ هکتار و نسبت تحویل رسوب ۳۳/۱ درصد باشد، میزان فرسایش خاک روزانه حوضه چند تن در هکتار است؟

(۱) ۰,۰۰۰۲۷

(۲) ۰,۰۰۰۲۵

(۳) ۰,۰۰۰۲۳

(۴) ۰,۰۰۰۲۵۴

۶۱- روش استدلالی برآورد رواناب (Q = CIA) برای چه هدفی و در چه حوضه‌هایی به کار می‌رود؟

(۱) حداکثر حجم رواناب سالانه - حوضه‌های کوچکتر از ۱۰۰۰ هکتار

(۲) حداکثر حجم رواناب ۲۴ ساعته - حوضه‌های کوچکتر از ۵۰۰۰ هکتار

(۳) دبی اوج رواناب با دوره بازگشت مشخص - حوضه‌های کوچکتر از ۱۰۰۰ هکتار

(۴) دبی اوج رواناب با دوره بازگشت مشخص - حوضه‌های کوچکتر از ۵۰۰۰ هکتار

۶۲- برخورد قطرات باران با جریان رواناب، شدت جدا شدن ذرات توسط رواناب و توان حمل آن را به ترتیب چگونه

تغییر می‌دهد؟

(۱) افزایش - افزایش (۲) کاهش - افزایش

(۳) افزایش - کاهش (۴) کاهش - کاهش

پیدا/پیش و رده بندی خاک پیشرفته:

۶۳- نسبت Al/Si در کدام کانی بزرگتر است؟

(۱) میکا (۲) آلفان

(۳) اسمکتایت (۴) ورمی کولیت

۶۴- وجود رس‌های با فعالیت پایین، صفت مشترک کدام مجموعه گروه‌های مرجع خاک (به‌طور کامل) می‌باشد؟

(۱) Ferralsols, Lixisols, Acrisols (۲) Luvisols, Nitisols, Alisols

(۳) Ferralsols, Nitisols, Luvisols (۴) Calcisols, Umbrisols, Luvisols

۶۵- خاکی دارای رژیم رطوبتی اریدیک و افق جیپسیک در عمق ۶۰ سانتی‌متری و افق پتروکلسیک در عمق ۶۰

سانتی‌متری می‌باشد. رده‌بندی خاک تا سطح گروه بزرگ کدام است؟

(۱) Calcigypsid (۲) Petrocalcids

(۳) Gypsicalcids (۴) Petrogypsid

۶۶- خاکی با افق Salic در عمق ۷۵cm از سطح خاک و یک افق سولفوریک در زیر آن است. این خاک در بیشتر سال‌ها به مدت یک‌ماه در عمق ۱۰۰cm از آب اشباع است. رده‌بندی درست آن در سطح گروه بزرگ کدام است؟

- (۱) Sulfaquepts
(۲) Aquisalids
(۳) Halaquepts
(۴) Haplosalids

۶۷- خاکی دارای افق مشخصه سطحی Mollic و افق‌های مشخصه عمقی Argillic و Calcic در ۱۰۰cm از سطح خاک می‌باشد. از سطح خاک تا بالای افق کلسیک واکنش خاک به HCl نرمال مثبت است. اگر رژیم رطوبتی منطقه زیر یک باشد، رده‌بندی خاک تا سطح گروه بزرگ کدام است؟

- (۱) Haploxeralfs
(۲) Argixerolls
(۳) Calcixerolls
(۴) Calcixerpts

۶۸- در یک منطقه خاکی با Ochric Epipedon و افق‌های تحت‌الارضی Calcic و Argillic با مرز بالایی در داخل ۱۰۰cm از سطح خاک می‌باشد، اگر رژیم‌های رطوبتی و حرارتی آن به ترتیب Thermic و Aridic باشد، کدام مورد رده‌بندی این خاک در سطح گروه بزرگ است؟

- (۱) Argicalcids
(۲) Calciargids
(۳) Haploargids
(۴) Haplocalcids

۶۹- یک خاک Gelisol یا Mollic Epipedon و شواهدی از Cryoturbation به صورت شکسته یا تدریجی در یک یا بیشتر افق‌ها و تجمع مواد آلی روی Permafrost در کدام گروه بزرگ قرار می‌گیرد؟

- (۱) Histoturbels
(۲) Mollihistels
(۳) Molliarthels
(۴) Molliturbels

۷۰- اگر در موقع بررسی کلاس اندازه ذرات، بخش کنترل فامیل، دارای $\geq 35\%$ درصد حجمی قطعات سنگی و مصنوعات بشری با قطر بزرگ‌تر از ۲ میلی‌متر و $< 35\%$ درصد وزنی رس باشد، کلاس اندازه ذرات آن کدام است؟

- (۱) Loamy-skeletal
(۲) Clayey-skeletal
(۳) Sandy-skeletal
(۴) Silty-skeletal

۷۱- کدام افق، نشان دهنده یک افق ترکیبی یا Combination می‌باشد؟

- (۱) A/B
(۲) \hat{A}
(۳) AB
(۴) \hat{B}

ارزیابی تناسب اراضی:

۷۲- در ارزیابی تناسب اراضی، کدام نوع مطالعات قابل توصیه نیست؟

- (۱) Semi-detailed
(۲) Detailed
(۳) Exploratory
(۴) Very detailed

۷۳- در ارزیابی کیفی تناسب اراضی برای گندم آبی، میانگین دمای سیکل رشد 15.3°C گزارش گردیده که در کلاس S_0 با محدوده $15-20^{\circ}\text{C}$ قرار می‌گیرد. براساس روش پارامتریک، Rating آن برابر کدام مورد است؟

- (۱) ۷۶٫۵
(۲) ۸۶٫۵
(۳) ۹۵٫۳
(۴) ۹۶٫۵

- ۷۴- در سامانه ارزیابی تناسب اراضی برای یک نبات خاص (روش فائو)، کدام مورد تعیین‌کننده زیر کلاس تناسب اراضی است؟
- (۱) نوع عوامل محدود کننده تولید
 - (۲) سود و زیان حاصل از زیر کشت بردن زمین
 - (۳) میزان شدت محدودیت عوامل محدود کننده تولید
 - (۴) میزان عملیات اصلاحی مورد نیاز جهت رفع محدودیت زمین
- ۷۵- برای محاسبه پتانسیل ژنتیکی محصول به روش فائو، کدام فاکتور یا فاکتورها استفاده می‌شود؟
- (۱) اقلیم
 - (۲) اقلیم و خاک
 - (۳) توپوگرافی و مدیریت
 - (۴) اقلیم - خاک و توپوگرافی
- ۷۶- در طبقه‌بندی اراضی به روش فائو، علامت S_{2f-1} چه سطحی از طبقه‌بندی تناسب اراضی را نشان می‌دهد؟
- (۱) تناسب مشروط
 - (۲) کلاس تناسب اراضی
 - (۳) تحت کلاس تناسب اراضی
 - (۴) واحدهای تناسب اراضی
- ۷۷- اگر در یک واحد اراضی، محدودیت اراضی در روش فائو باعث کاهش 30% درصدی تولید پتانسیل گردد، این واحد اراضی در چه کلاسی از تناسب اراضی قرار می‌گیرد؟
- (۱) N_1
 - (۲) S_1
 - (۳) S_2
 - (۴) S_3
- ۷۸- در منطقه‌ای اگر در تمامی فصل رشد میزان بارندگی از نصف تبخیر و تعرق پتانسیل کمتر باشد، دوره رشد رطوبتی این منطقه از چه نوعی است؟
- (۱) نرمال
 - (۲) بینابین
 - (۳) مرطوب
 - (۴) خشک
- ۷۹- کدام مورد، بیانگر ساختار Land Suitability در سیستم FAO می‌باشد؟
- (۱) Order - class - subclass - phase
 - (۲) Order - class - subclass - unit
 - (۳) Order - subclass - class - unit
 - (۴) Order - subclass - class - subclass
- ۸۰- براساس روش FAO یک دوره رشد (Growing cycle) از نظر رطوبت شامل کدام ویژگی است؟
- (۱) $R > PET$ بوده و در طول آن 100mm آب ذخیره می‌شود.
 - (۲) $R < PET$ بوده و در طول آن 100mm از آب ذخیره تبخیر می‌شود.
 - (۳) $R > PET$ بوده و در طول آن بیش از 100mm از آب ذخیره تبخیر می‌شود.
 - (۴) $R > PET$ بوده و در طول آن 100mm از آب ذخیره شده تبخیر می‌شود.