








نام:	«به نام دانای هستی بخش»	سال تحصیلی:
نام خانوادگی:	پیش دبستان و دبستان هوشمند غیر دولتی	تاریخ:
پایه: دوم ابتدایی	پیشگامان فردا	نوبت: سطح <input type="checkbox"/> کلاسی <input type="checkbox"/> اول <input type="checkbox"/> دوم <input type="checkbox"/>
نام درس: ریاضی	نام آموزگار: نرگس اکبرنژاد	زمان: ۴۵ دقیقه

آزمون فصل اول ریاضی

ردیف	سوال				
۱	<p>عددهای زیر را به رقم یا حروف بنویس.</p> <p>شصت و پنج  ۴۱</p> <p>هفتاد و سه  ۸۰</p>				
۲	<p>عدد ۳۲ چند رقم دارد؟</p> <p>رقم های آن را نام ببر.و.....</p> <p>با رقم های آن چند عدد دو رقمی دیگر می توانی بنویسی.</p>				
۳	<p>حاصل عبارت رو به رو را با استفاده از محور به دست بیاور.</p> <p>$9 + 5 - 3 =$</p> 				
۴	<p>با رقم های « ۳ و ۶ و ۰ » چند عدد دو رقمی می توانی بسازی بنویس.</p> <p>.....</p>				
۵	<p>با دو کارت  و  چند عدد دو رقمی می توانی بسازی بنویس.</p> <p>.....</p>				
۶	<p>عبارت های زیر را به صورت ذهنی انجام بده.</p> <p>$5 + 10 + 5 + 10 =$</p> <p>$3 + 2 + 20 + 10 + 20 =$</p>				
۷	<p>عدد مربوط به هر شکل را در جدول بنویس و جای خالی را کامل کن.</p> <p>با عدد:</p> <p>با حروف:</p>  <table border="1" data-bbox="486 1803 662 1937"> <tr> <td>یکی</td> <td>ده تایی</td> </tr> <tr> <td> </td> <td> </td> </tr> </table>	یکی	ده تایی		
یکی	ده تایی				
۸	<p>الگوها را ادامه بده.</p> <p>۱۵ - ۲۰ - - - -</p> <p>۶۷ - ۷۰ - ۷۳ - - - -</p>				

۹	پدر علی ماهیگیر است . او دیروز ۲۵ ماهی و امروز ۲۰ ماهی صید کرده است . پدر علی چند ماهی صید کرده است ؟
۱۰	مریم ۶ گل قرمز و ۹ گل زرد داشت . ۱۲ تا از گل ها را به دوستانش داد و بقیه را در گلدان گذاشت . مریم چند گل در گلدان گذاشته است ؟ « از شکل برای حل مساله استفاده کن »

بازخورد آموزگار :



خسته نباشی دلبندم