

به نام خدا

نوبت دوم

دبستان خیریه ابوظافل (ع)

نام و نام خانوادگی :

تاریخ :

کلاس دوم ب

نام پدر :

۱- عدد های زیر را به حروف و رقم بنویسید .

۴۰۴ .....

دویست و پنجاه و شش .....

۲- جاهای خالی را پر کنید .

۸۶۴ برابر است با ..... یکی و ..... ده تایی و ..... صدتایی.

کوچک ترین عدد یک رقمی ..... و بزرگ ترین عدد یک رقمی ..... است .

۳- دنباله ی عدد های زیر را بنویسید .

۰ - ۲ - ۴ -

۳۰۰ - ۳۰۱ -

۴- دور عدد های زوج خط بکشید .

۱۴ - ۵ - ۱۰ - ۷ - ۲ - ۶ - ۲۳ - ۳۰

۵- زیر عدد های فرد خط بکشید .

۷ - ۴ - ۱۳ - ۵ - ۲۴ - ۱۱ - ۲۰ - ۱۹

۶- جمع و تفریق های زیر را انجام بدهید .

$۵+۲=$

$۱۲-۵=$

$(۳+۲)+۱=$

$۹+۷=$

$۱۵ - ۷=$

$۲+(۴+۳)=$

۷- جاهای خالی را پر کنید .

$۳ + = ۵$

$- ۷ = ۳$

$+ ۲ = ۱۰$

$۲ - = ۰$

۸- با استفاده از محور حاصل تفریق را پیدا کنید .



$$14 - 8 =$$

۹- در جاهای خالی علامت  $< = >$  قرار دهید .


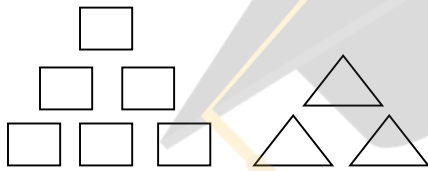
$$4 + 2 \square 9 - 3$$

$$100 \square 99$$

$$16 \square 61$$


$$549 \square 803$$

۱۰- برای هر شکل دو جمع و دو تفریق بنویسید .



۱۱- علی ۱۱ مداد داشت. ۴ تای آن را به خواهرش داد. حالا او چند مداد دارد؟

۱۲- ساعت زیر را کامل کنید و ۴:۲۵ را نشان دهید



.... : ....