

کد کنترل

344

E



344E

دفترچه شماره (1)

صبح جمعه

۹۸/۱۲/۹



جمهوری اسلامی ایران
وزارت علوم، تحقیقات و فناوری
سازمان سنجش آموزش کشور

«اگر دانشگاه اصلاح شود مملکت اصلاح می‌شود.»
امام خمینی (ره)

آزمون ورودی دوره دکتری (نیمه‌متمرکز) - سال ۱۳۹۹

رشته مهندسی سیستم‌های انرژی - کد (۲۳۷۲)

مدت پاسخ‌گویی: ۱۵۰ دقیقه

تعداد سؤال: ۴۵

عنوان مواد امتحانی، تعداد و شماره سؤالات

ردیف	مواد امتحانی	تعداد سؤال	از شماره	تا شماره
۱	مجموعه دروس تخصصی: ترمودینامیک - برنامه‌ریزی ریاضی پیشرفته - تکنولوژی پینچ و تحلیل انرژی - تحلیل سیستم‌های انرژی	۴۵	۱	۴۵

این آزمون نمره منفی دارد.

استفاده از ماشین حساب مجاز نیست.

حق چاپ، تکثیر و انتشار سؤالات به هر روش (الکترونیکی و...) پس از برگزاری آزمون، برای تمامی اشخاص حقیقی و حقوقی تنها با مجوز این سازمان مجاز می‌باشد و یا متخلفین برابر مقررات رفتار می‌شود.

۱۳۹۹

* داوطلب گرامی، عدم درج مشخصات و امضا در مندرجات جدول ذیل، به منزله عدم حضور شما در جلسه آزمون است.

اینجانب با شماره داوطلبی با آگاهی کامل، یکسان بودن شماره صندلی خود را با شماره داوطلبی مندرج در بالای کارت ورود به جلسه، بالای پاسخنامه و دفترچه سؤالات، نوع و کد کنترل درج شده بر روی دفترچه سؤالات و پائین پاسخنامه‌ام را تأیید می‌نمایم.

امضا:

۱- برای گاز دی‌اکسید کربن در فشارهای پایین داده تجربی زیر موجود است:

$$T = 100^\circ\text{C}, P = 10 \text{ bar}, Z_{\text{CO}_2} = 0.98$$

مقدار Z_{CO_2} در شرایط $T = 100^\circ\text{C}$, $P = 20 \text{ bar}$ کدام است؟

- (۱) ۰/۹۲
(۲) ۰/۹۴
(۳) ۰/۹۶
(۴) ۰/۹۸

۲- یک موتور کارنو بین دو دمای T_1 , T_2 با بازده η_1 و موتور کارنوی دیگری بین دو دمای T_3 , T_2 با بازده η_3 کار می‌کند. بازده موتور کارنوی سوم (η_3) که بین دو دمای T_3 , T_1 کار می‌کند، برحسب η_1 و η_2 کدام است؟

- (۱) $\eta_1 + \eta_2 - \frac{1}{3}\eta_1\eta_2$
(۲) $\eta_1 + \eta_2 - \eta_1\eta_2$
(۳) $\eta_1 + \eta_2 + \frac{1}{3}\eta_1\eta_2$
(۴) $\eta_1 + \eta_2 + \eta_1\eta_2$

۳- گازی از معادله حالت $P(V-b) = RT$ پیروی می‌کند که در آن b یک عدد ثابت است. اگر این گاز در دمای ثابت T از فشار P_1 به فشار P_2 تغییر حالت بدهد، تغییر انتروپی آن (ΔS) برابر کدام عبارت است؟

- (۱) $R \ln \frac{P_1}{P_2}$
(۲) $R \ln \frac{V_1}{V_2}$
(۳) $R \ln \frac{P_2}{P_1}$
(۴) $R \ln \frac{V_2}{V_1}$

۴- ضریب ویربال مرتبه دوم (B) یک گاز از رابطه $B = b - \frac{a}{T^2}$ که در آن a و b ثابت هستند به دست می آید. تغییر

انتالپی مخصوص این گاز در دمای ثابت T وقتی که فشار از یک فشار خیلی کم ($P^* \rightarrow 0$) تا فشار نهائی P تغییر کند کدام است؟

$$\frac{-3aP}{T^2} \quad (1)$$

$$bP - \frac{2aP}{T^2} \quad (2)$$

$$bP - \frac{3aP}{T^2} \quad (3)$$

$$2bP + \frac{3aP}{T^2} \quad (4)$$

۵- اگر گازی از معادله حالت $P(V-b) = RT$ که در آن b یک پارامتر ثابت مثبت تابع جنس می باشد پیروی کند تابع انتالپی باقیمانده $(\Delta H')$ آن گاز کدام است؟

$$\Delta H' = H' - H = H^{ig} - H = -H^R \quad \text{می دانیم که}$$

$$bp \quad (1)$$

$$-bp \quad (2)$$

$$RT - bp \quad (3)$$

$$\text{صفر است.} \quad (4)$$

۶- رابطه زیر برای انرژی درونی (داخلی) یک ماده داده شده است:

$$u = aSV + bS^2 + cV^2$$

که در آن a, b و c پارامترهای ثابتی هستند. C_V این ماده کدام است؟ (بر حسب S و V محاسبه کنید)

$$\frac{a}{2b}V + S \quad (1)$$

$$aV + S \quad (2)$$

$$\frac{a}{b}V + S \quad (3)$$

$$\frac{2a}{b}V + S \quad (4)$$

۷- معادله حالت یک مخلوط دو جزئی گازی از رابطه زیر بدست می آید:

$$PV = RT + P^2 [A(y_1 - y_2) + B]$$

که در آن y_1 و y_2 اجزای مولی (1) و (2) و A و B مقادیری ثابت می باشند. ضریب فوگاسیته جزء (1) خالص از معادله حالت فوق برابر کدام گزینه است؟

$$\phi_{1,pure} = \exp \left\{ \left(\frac{A+B}{RT} \right) P \right\} \quad (2)$$

$$\phi_{1,pure} = \exp \left\{ \left(\frac{A+B}{2RT} \right) P \right\} \quad (1)$$

$$\phi_{1,pure} = \exp \left\{ \left(\frac{A+B}{RT} \right) P^2 \right\} \quad (4)$$

$$\phi_{1,pure} = \exp \left\{ \left(\frac{A+B}{2RT} \right) P^2 \right\} \quad (3)$$

۸- اگر گازی از معادله وان در والس $P = \frac{RT}{V-b} - \frac{a}{V^2}$ پیروی کند تغییر انتروپی آن گاز برای یک تحول کوچک (ds) از کدام یک از عبارات زیر پیروی می‌کند؟

$$\begin{aligned} (1) \quad & \frac{c_v}{T} dT + \frac{R}{V} dV \\ (2) \quad & \frac{c_p}{T} dT - \frac{R}{V-b} dp \\ (3) \quad & \frac{c_v}{T} dT - \frac{R}{V-b} dV \\ (4) \quad & \frac{c_v}{T} dT + \left(\frac{R}{V-b}\right) dV \end{aligned}$$

۹- کمپرسوری یک گاز واقعی را از حالت اولیه 400K و فشار یک اتمسفر تا فشار 5 atm متراکم می‌کند و راندمان آن نسبت به تحول ایزوترمال رورسیبل برابر 80% می‌باشد. در شرایط ورودی کمپرسور گاز را می‌توان گاز کامل فرض کرد و در شرایط خروجی ضریب تراکم‌پذیری Z برابر 0.9 است. مقدار کار مصرفی کمپرسور به ازای هر کیلوگرم از گاز چند کیلوژول است؟

$$\ln 5 = 1.6, \ln 3 = 1.1, \ln 2 = 0.7, R = 0.5 \frac{\text{kJ}}{\text{kgK}}$$

$$\text{Exp}(x) = 1 + x + \frac{x^2}{2!} + \dots$$

- (۱) ۹۵۰ (۲) ۸۴۰ (۳) ۷۶۰ (۴) ۶۷۰

۱۰- در یک واکنش شیمیایی در یک مخلوط گازی در دمای 127°C تعداد مول‌های گاز با فرض شرایط ایدئال به اندازه 0.5 کاهش می‌یابد. اگر تغییر انرژی درونی مخلوط گازی طی این واکنش برابر $-23/8\text{ kJ}$ باشد، مقدار تغییر آنتالپی مخلوط گازی چند کیلوژول (kJ) است؟

- (۱) ۲۳/۵۷ (۲) ۲۴/۳۰ (۳) ۲۵/۴۶ (۴) ۲۶/۷۰

۱۱- در مدل برنامه‌ریزی ریاضی خطی ارتباط تابع هدف مدل‌های اولیه (Primary) و دوگان (Dual) کدام است؟

- (۱) مقدار تابع هدف دو مدل، همواره برابر است.
 (۲) در نقطه بهینه مقدار تابع هدف دو مدل برابر است.
 (۳) مقدار تابع هدف مدل دوگان منفی مقدار تابع هدف اولیه است.
 (۴) مقدار تابع هدف مدل دوگان، می‌تواند در نقطه بهینه برابر مقدار تابع هدف اولیه باشد.

۱۲- مسئله برنامه‌ریزی خطی روبه‌رو را در نظر بگیرید. با استفاده از نظریه تانویه (Duality Theory) جواب مسئله چگونه خواهد بود؟

$$\text{Min } z = x_1 - x_2 + x_3$$

$$\begin{aligned} \text{s.t.} \quad & x_1 - x_3 \geq 4 \\ & x_1 - x_2 + 2x_3 \geq 3 \\ & x_1, x_2, x_3 \geq 0 \end{aligned}$$

- (۱) دارای حل موجه است ولی بهینه نیست. (۲) دارای حل موجه و یک نقطه بهینه است.
 (۳) دارای حل موجه و چند حل بهینه است. (۴) دارای حل موجه و حل بهینه نامحدود است.

۱۳- در مورد مسئله برنامه ریزی خطی روبه‌رو، کدام گزینه صحیح است؟

$$P(\theta) = \text{Max } cX$$

$$\text{s.t. } AX = b_1 + \theta b_2$$

$$X \geq 0$$

- (۱) در حالت بهینه $P(\theta)$ یک تابع خطی منکسر و مقعر است.
- (۲) در حالت بهینه $P(\theta)$ یک تابع خطی مستقیم و مقعر است.
- (۳) در حالت بهینه $P(\theta)$ یک تابع خطی منکسر و محدب است.
- (۴) در حالت بهینه $P(\theta)$ یک تابع خطی مستقیم و محدب است.

۱۴- با استفاده از قضایای دوگان (Duality) جواب بهینه مسئله روبه‌رو کدام است؟

$$\text{Max } Z = x_1 - x_2 + x_3 - x_4$$

$$\text{s.t. } x_1 + x_2 + x_3 + x_4 = 8$$

$$0 \leq x_1 \leq 8$$

$$-4 \leq x_2 \leq 4$$

$$-2 \leq x_3 \leq 4$$

$$0 \leq x_4 \leq 10$$

$$(1) \quad x_1 = 8, x_2 = -3, x_3 = 4, x_4 = -1$$

$$(2) \quad x_1 = 6, x_2 = -4, x_3 = 4, x_4 = 1$$

$$(3) \quad x_1 = 8, x_2 = -2, x_3 = 4, x_4 = -2$$

$$(4) \quad x_1 = 8, x_2 = -4, x_3 = 4, x_4 = 0$$

۱۵- با استفاده از قضایای دوگانگی، حداکثر مقدار تابع هدف در چه بازه‌ای خواهد بود؟

$$\text{Max } Z = x_1 + 2x_2 + x_3$$

$$\text{s.t. } x_1 + x_2 - x_3 \leq 2$$

$$x_1 - x_2 + x_3 = 1$$

$$2x_1 + x_2 + x_3 \geq 2$$

$$\text{بدون قید در علامت } x_1 \geq 0, x_2 \leq 0, x_3$$

(۲) می‌تواند هر مقداری را داشته باشد.

(۴) نمی‌تواند بیشتر از صفر باشد.

(۱) همواره در بازه صفر و یک خواهد بود.

(۳) نمی‌تواند بیشتر از یک باشد.

۱۶- تابع تقاضای انرژی در بخش خانگی براساس مدل برنامه ریزی نتیجه گرفته می‌شود. محدودیت این مدل درآمد و

هزینه خانوار است. گروهی از خانوارها بخشی از درآمد خود را پس‌انداز می‌کنند. اگر درآمد خانوار ۱۰ واحد پولی

و کل هزینه خانوار ۸ واحد پولی باشد، مقدار ضریب لاگرانژ خانوار چه مقدار خواهد بود؟

$$(1) \quad -2$$

$$(2) \quad 1/25$$

$$(3) \quad 2$$

$$(4) \quad \text{صفر}$$

۱۷- در مسئله روبه‌رو اگر $A = A^t$ و $c = b^t$ باشد، در صورتی که x_0 وجود داشته باشد به گونه‌ای که در دو مجموعه قید $Ax_0 = b$ و $x_0 \geq 0$ صدق نماید، x_0 چه نقطه‌ای را نشان می‌دهد؟

$$\text{Min } Z = cx$$

$$\text{s.t. } Ax = b$$

$$x \geq 0$$

(۱) نقطه بهینه

(۲) یک نقطه موجه

(۳) یک نقطه غیرموجه

(۴) یک نقطه موجه روی خط مرزی منطقه موجه

۱۸- به ازای چه بازه‌ای از مقدار a مدل زیر فاقد جواب خواهد بود؟

$$\text{Min } Z = x_1$$

$$\text{s.t. } x_1 + x_2 \leq a$$

$$-x_1 + x_2 \leq -1$$

$$x_1, x_2 \geq 0$$

(۱) $a > 1$

(۲) $a \geq 1$

(۳) $a < 1$

(۴) $a \leq 1$

۱۹- برای محاسبه هزینه اکسرژی جریان‌های انرژی در یک سیستم تبدیل انرژی از طریق اعمال قوانین ترمودینامیک یک دستگاه معادله هم‌زمان با ۷ متغیر و ۹ معادله خطی شکل گرفته است. هزینه اکسرژی جریان‌ها را در این حالت چگونه می‌توان محاسبه کرد؟

(۱) دو متغیر مجازی اضافه می‌شود و دستگاه معادله‌های هم‌زمان حل می‌شوند.

(۲) دو معادله را باید حذف کرد و سپس به صورت یک مدل برنامه‌ریزی خطی حل کرد.

(۳) چون تعداد معادله‌ها بیشتر از متغیرها است، هزینه اکسرژی وجود نخواهد داشت.

(۴) تبدیل دستگاه معادله‌ها به یک مدل برنامه‌ریزی خطی و حداقل نمودن جمع کل متغیرهای مجازی

۲۰- در یک مدل انرژی مبتنی بر برنامه‌ریزی ریاضی که تابع هدف آن حداقل نمودن کل ارزش حال هزینه‌های سیستم انرژی است، ارزش اقتصادی منابع نفت خام صفر است و قیمت سایه بنزین برابر ۱۲۰۰۰ ریال برای یک لیتر محاسبه شده است. سیستم انرژی مفروض به‌طور خالص صادرکننده نفت خام است. هنگامی که ارزش اقتصادی منابع خام برابر قیمت جهانی منظور می‌شود، کل هزینه سیستم به ازای افزایش تقاضای بنزین به اندازه یک لیتر برابر ۵۵۰۰۰ ریال محاسبه می‌شود. در صورتی که قیمت بنزین در بازار برابر ۳۰۰۰۰ ریال برای یک لیتر تعیین شود، کدام یک از موارد زیر صحیح است؟

(۱) مبلغ ۱۸۰۰۰ ریال به ازای یک لیتر مالیات اخذ می‌شود.

(۲) مبلغ ۱۸۰۰۰ ریال برای یک لیتر از بابت حق مالکیت منابع نفت خام اخذ می‌شود.

(۳) ۴۳۰۰۰ ریال برای یک لیتر یارانه نسبت به هزینه نهایی عرضه بنزین پرداخت می‌شود.

(۴) ۲۵۰۰۰ ریال برای یک لیتر یارانه نسبت به هزینه نهایی عرضه بنزین پرداخت می‌شود.

۲۱- در یک مدل رفتار تولیدکننده، تابع هدف کمینه‌سازی کل هزینه‌ها و محدودیت اساسی تأمین تقاضای تولید است. قیمت هر یک از عوامل تولید برابر با P_i ، ضریب لاگرانژ برابر با λ و تابع تولید $f(X)$ است. رابطه بین ضریب لاگرانژ، قیمت و تابع تولید در نقطه بهینه، کدام است؟

$$\lambda = -P_i (\partial f(X) / \partial x_i) \quad (۱)$$

$$\lambda = \frac{-P_i}{(\partial f(X) / \partial x_i)} \quad (۲)$$

$$\lambda = \frac{P_i}{(\partial f(X) / \partial x_i)} \quad (۳)$$

$$\lambda = P_i (\partial f(X) / \partial x_i) \quad (۴)$$

۲۲- در یک مدل برنامه‌ریزی غیرخطی که تابع هدف آن بیشینه‌سازی است، توابع محدودیت‌ها محدب هستند. در چه حالتی نقطه بهینه، یک بهینه عام (کلی) خواهد بود؟

(۱) تابع هدف مقعر باشد.

(۲) تابع هدف محدب باشد.

(۳) تابع هدف حتماً خطی باشد.

(۴) منفی تابع هدف مقعر باشد.

۲۳- در یک اتاق آدیاباتیکی، یک یخچال پر از مواد غذایی با درب بسته به برق وصل است و یخچال کار می‌کند. در این حالت:

(۱) اکسرژی تخریب نمی‌شود.

(۲) تخریب اکسرژی کاهش می‌یابد.

(۳) تخریب اکسرژی افزایش می‌یابد.

(۴) افزایش آنترپپی صفر خواهد بود.

۲۴- در یک روستا از طریق نیروگاه آبی کوچک برق تولید می‌شود و بخشی از برق برای پمپ حرارتی جهت گرم کردن اتاق‌های خانوارها استفاده می‌شود. پمپ حرارتی گرمای آب جاری یک جوی پر حجم را برای گرم کردن اتاق‌ها انتقال می‌دهد. تخریب اکسرژی در این حالت چگونه خواهد بود؟

(۱) تخریب، برابر تخریب طبیعی خواهد بود.

(۲) تخریب، مازاد بر تخریب طبیعی اکسرژی خواهد بود.

(۳) تخریب در کل روستا به سبب استفاده از پمپ حرارتی افزایش خواهد یافت.

(۴) انتقال حرارت آب سبب می‌شود تخریب، اضافه بر تخریب طبیعی اکسرژی باشد.

۲۵- در یک نیروگاه بخار با سوخت زغال سنگ از فشار بحرانی در تولید بخار استفاده می‌شود. تغییرات در این حالت نسبت به نیروگاه بدون استفاده از سیستم فشار بحرانی چگونه است؟

(۱) افزایش آنترپپی کاهش و بازده نیروگاه افزایش می‌یابد.

(۲) به دلیل نیاز به کار بیشتر برای افزایش فشار، تخریب اکسرژی افزایش می‌یابد.

(۳) تخریب اکسرژی در پمپ‌ها به دلیل افزایش فشار بیش‌تر می‌شود و بازده نیروگاه کاهش می‌یابد.

(۴) تخریب اکسرژی تغییر پیدا نمی‌کند زیرا تخریب بر اثر افزایش بخار با افزایش اکسرژی خنثی می‌شود.

۲۶- نیروگاه بخاری در ایران در طول ۹ ماه اول سال با سوخت گاز طبیعی و سه ماه آخر سال با سوخت نفت کوره کار می‌کند.

ارزش حرارتی یک متر مکعب گاز طبیعی برابر ارزش حرارتی یک لیتر نفت کوره است. نسبت بازده اکسرژی نیروگاه با

سوخت نفت کوره به مقدار ۱۰۰۰ لیتر در ساعت، نسبت به سوخت گاز طبیعی ۱۰۰۰ متر مکعب در ساعت، کدام است؟

(۱) برابر یک

(۲) کم‌تر از یک

(۳) بیش‌تر از یک

(۴) برابر نسبت بازده انرژی

۲۷- بازده اکسرژی یک نیروگاه هسته‌ای (با بازده انرژی ۳۵٪) نسبت به بازده اکسرژی نیروگاه توربین گازی با سوخت

گاز طبیعی (با بازده انرژی ۳۵٪) کدام است؟

(۱) ۱:۱

(۲) > 1

(۳) $\ll 1$

(۴) $\gg 1$

۲۸- فاکتور اکسرژی $\frac{\text{Exergy}}{Q}$ به ترتیب برای دماهای ۲۷۳ و $136/5$ - درجه سانتی گراد کدام است؟ (دمای محیط را

برابر 0 درجه سانتی گراد و $m^2 = 0/69$ فرض کنید.)

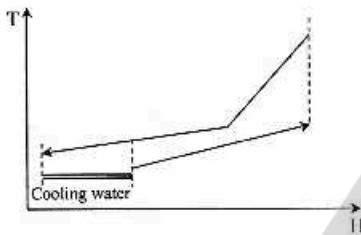
(۱) 1 و ∞

(۲) $0/31$ و 1

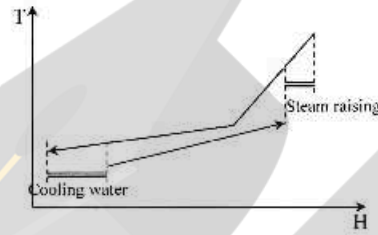
(۳) $0/31$ و $-0/31$

(۴) $0/31$ و $0/38$

۲۹- شکل های زیر، منحنی های مرکب مربوط به جریان های یک شبکه مبدل حرارتی را نشان می دهد. کدام گزینه صحیح است؟



(ب)



(الف)

(۱) هزینه کل (انرژی و سطح) شبکه در حالت الف از ب کمتر است.

(۲) سطح شبکه مبدل حرارتی در حالت ب بیشتر از الف است.


(۳) هر دو شکل الف و ب مصرف انرژی و سطح شبکه یکسانی دارند.

(۴) طراحی شبکه در حالت الف می تواند از نظر مصرف انرژی مفید باشد.

۳۰- منحنی انرژی بر حسب حداقل اختلاف درجه حرارت برای یک شبکه مبدل حرارتی به صورت زیر است. اگر در

$\Delta T_{\min} = 15^\circ C$ ، مصرف سرویس جانبی گرم و سرد به ترتیب $221/4$ و 10 کیلووات و در $\Delta T_{\min} = 25^\circ C$ ،

مصرف سرویس جانبی گرم و سرد به ترتیب $241/4$ و 30 کیلووات باشد، کدام گزینه صحیح است؟



(۱) در $\Delta T_{\min} = 20^\circ C$ مصرف سرویس جانبی سرد 30 کیلووات است.

(۲) در $\Delta T_{\min} = 30^\circ C$ مصرف سرویس جانبی سرد 30 کیلووات است.

(۳) در $\Delta T_{\min} = 5^\circ C$ ترشولد بوده و مصرف جانبی گرم آن $211/4$ کیلووات است.

(۴) در $\Delta T_{\min} = 10^\circ C$ ترشولد بوده و مصرف جانبی گرم آن $211/4$ کیلووات است.

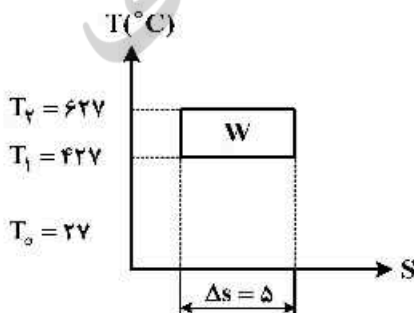
۳۱- میزان کار خروجی در سیکل ایدنال زیر چقدر است؟

(۱) 1000

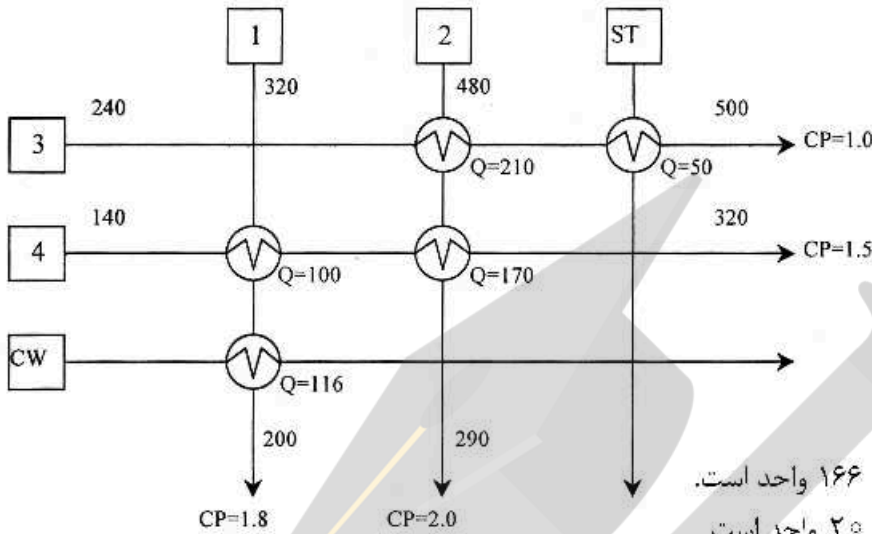
(۲) 2000

(۳) 3000

(۴) 4000



۳۲- شبکه مبدل حرارتی زیر، برای $\Delta T_{min} = 2^\circ C$ طراحی شده است. میزان حداکثر صرفه جویی ممکن در مصرف انرژی واحد کدام است؟ (دمای سرد نقطه پینچ $46^\circ C$ است.)



- ۱) میزان کل صرفه جویی انرژی ۱۶۶ واحد است.
 - ۲) میزان کل صرفه جویی انرژی $2^\circ C$ واحد است.
 - ۳) میزان کل صرفه جویی در سرویس جانبی گرم $5^\circ C$ واحد است.
 - ۴) میزان کل صرفه جویی در سرویس جانبی گرم $10^\circ C$ واحد است.
- ۳۳- مقدار بهینه مالیات کربن در یک بازار رقابتی، از کدام مورد به دست می آید؟

- ۱) هزینه حاشیه‌ای (marginal cost) تولیدکننده
- ۲) هزینه حاشیه‌ای (marginal cost) مصرف‌کننده
- ۳) تفاضل هزینه‌های حاشیه‌ای (marginal cost) اجتماعی و تولید
- ۴) مجموع هزینه‌های حاشیه‌ای (marginal cost) اجتماعی و تولید

۳۴- یک پمپ حرارتی با $COP = 3/5$ موجود است که برق مورد نیاز آن در یک دستگاه تولید هم‌زمان برق و حرارت با راندمان الکتریکی 40% تولید می‌شود. نسبت برق به حرارت در دستگاه تولید هم‌زمان $9/10$ است. بنابراین اگر 100 واحد حرارت از دستگاه تولید هم‌زمان و پمپ حرارتی تولید کنیم، حداقل انرژی اولیه لازم چقدر است؟

- ۱) $31/3$
- ۲) $54/2$
- ۳) $71/4$
- ۴) 225

۳۵- اگر راندمان سوخت یک خودرو 5% بهبود یابد، تنها 2% مصرف واقعی سوخت کاهش یافته است. اثر بازگشتی چند درصد است؟

- ۱) ۲
- ۲) ۳
- ۳) ۴۰
- ۴) ۶۰

- ۳۶- تابع مطلوبیت انرژی مصرفی یک خانواده با حاصل ضرب میزان مصرف برق در میزان مصرف گاز برابر است. اگر قیمت واحد برق ۳ برابر قیمت واحد گاز و قیمت واحد گاز برابر ۲ باشد، برای به دست آوردن ۱۰۸ واحد مطلوبیت انرژی مصرفی این خانواده، میزان برق و گاز و بودجه اختصاصی خانواده به ترتیب کدام است؟
- (۱) برق = ۲، گاز = ۵۴، بودجه = ۷۲
 (۲) برق = ۳، گاز = ۳۶، بودجه = ۹۰
 (۳) برق = ۶، گاز = ۱۸، بودجه = ۷۲
 (۴) برق = ۹، گاز = ۱۲، بودجه = ۹۰
- ۳۷- اگر منحنی تقاضای بازار برق به صورت $P = 110 - 2Q$ و منحنی هزینه تولید، انتقال و توزیع برق به صورت

$$TC = \frac{1}{2}Q^2 + 20Q$$

باشد، قیمت و مقدار تعادلی کدام است؟

(۱) $Q = 18, P = 74$

(۲) $Q = 36, P = 38$

(۳) $Q = 9, P = 92$

(۴) $Q = 90, P = 10$

- ۳۸- برای ارزیابی و مقایسه اقتصادی دو نیروگاه سیکل ترکیبی و توربین گاز از دو نرخ تنزیل استفاده می شود:
- الف- نرخ تنزیل اول ۲۰٪، ب- نرخ تنزیل دوم ۲٪، برای نوع الف و ب نیروگاه مناسب کدام است؟

(۱) در هر دو حالت الف و ب نیروگاه سیکل ترکیبی

(۲) در هر دو حالت الف و ب نیروگاه توربین گازی

(۳) در حالت الف نیروگاه سیکل ترکیبی و در حالت ب نیروگاه توربین گاز

(۴) در حالت الف نیروگاه توربین گاز و در حالت ب نیروگاه سیکل ترکیبی

- ۳۹- در یک تابع تقاضای بنزین در حمل و نقل کشش جزئی قیمتی بنزین ۰/۰۱- و کشش جزئی تقاضای خدمات حمل و نقل در سیستم حمل و نقل جایگزین بنزین نسبت به قیمت بنزین ۰/۰۵ برآورد شده است. اگر قیمت هر لیتر بنزین از ۱۰۰۰۰ ریال به ۳۰۰۰۰ ریال افزایش یابد، مصرف بنزین چند درصد کاهش می یابد؟
- فرض کنید خدمات حمل و نقل سیستم بنزینی متناسب با مصرف بنزین است.

(۱) ۱۸٪

(۲) ۱۵٪

(۳) ۱۲٪

(۴) ۳٪

- ۴۰- یک خودروی برقی جایگزین یک خودرو با سیستم احتراق داخلی می شود. خودروی برقی در بار یاب (از ساعت ۲۴ تا ساعت ۵ صبح) شارژ می شود. شبکه برق نیز دارای نیروگاه های گازسوز و انرژی خورشیدی است. اگر بازده انرژی خودرو با احتراق داخلی ۲۸٪، بازده خودروی الکتریکی ۷۰٪، بازده سیستم فتوولتائیک متصل به شبکه برق ۲۰٪، بازده انرژی نیروگاه های فسیلی ۴۰٪ باشد و تلفات در شبکه انتقال و توزیع برق برابر ۱۰٪ باشد، انتشار مقدار گاز دی اکسید کربن در حالت استفاده از خودروی الکتریکی نسبت به خودرو با احتراق داخلی چند درصد خواهد بود؟ نرخ انتشار گاز دی اکسید کربن به ازای واحد انرژی در سوخت های هیدروکربری یکسان فرض شود.

(۱) ۹۰

(۲) ۱۱۰

(۳) ۱۰۰

(۴) ۸۰

۴۱- سیاست اتحادیه اروپا در بخش انرژی، توسعه سیستم کربن خنثی تا سال ۲۰۵۰ است. کدام گزینه در این حالت درست خواهد بود؟

- ۱) استفاده از هیدروژن در حمل‌ونقل هوایی و انرژی‌های تجدیدپذیر و گاز طبیعی در نیروگاه‌ها
 - ۲) تولید سوخت جت از گاز طبیعی و حذف کامل زغال سنگ و نفت خام و توسعه انرژی‌های تجدیدپذیر
 - ۳) سوخت مایع زیستی (سوخت جت) برای حمل‌ونقل هوایی و حذف کامل سوخت‌های فسیلی از سیستم انرژی
 - ۴) انرژی‌های تجدیدپذیر به همراه گسترش مگنوتو هایدرو دینامیک با سوخت گاز طبیعی و حمل‌ونقل هوایی الکتریکی
- ۴۲- در یک فضای ساختمانی از عایق‌سازی و ماده پلیمری در دیوارها برای جذب و دفع حرارت استفاده شده است. تغییرات نمودار بار سیستم سرمایشی در ۲۴ ساعت برای خنک کردن فضا چگونه خواهد بود؟

- ۱) به دلیل وجود عایق حرارتی، حداقل مقدار بار و به جهت سیستم دفع و جذب حرارت، کم‌ترین نوسان باری در کارکرد سیستم سرمایشی
- ۲) به دلیل وجود عایق حرارتی، حداقل مقدار بار و به جهت سیستم دفع و جذب حرارت، خاموشی سیستم سرمایشی در طول شب
- ۳) به دلیل وجود عایق حرارتی، حداقل مقدار بار و به جهت سیستم دفع و جذب حرارت، کارکرد یکنواخت سیستم سرمایشی
- ۴) به دلیل وجود عایق حرارتی، حداقل مقدار بار و به جهت سیستم دفع و جذب حرارت، حداقل بار کارکرد سیستم سرمایشی

۴۳- بازده انرژی نیروگاه سیکل ترکیبی مگنوتو هایدرو دینامیک (MHD) نسبت به بازده یک نیروگاه سیکل ترکیبی حرارتی به کدام دلیل بیشتر است؟

- ۱) بازیافت بیشتر حرارت گازهای خروجی از نیروگاه
- ۲) بالاتر بودن حداکثر دمای سیکل حرارتی در نیروگاه MHD
- ۳) سوخت متفاوت در نیروگاه‌های سیکل ترکیبی و MHD
- ۴) تفاوت در فشار بخار آب در سیکل بخاری نیروگاه

۴۴- هزینه تولید یک بشکه نفت خام در منطقه خلیج فارس برابر ۶ دلار برای یک بشکه است، که شامل هزینه سرمایه‌گذاری، تعمیر و نگهداری و عملیات بدون هزینه انرژی است. شدت انرژی مورد استفاده برای تولید یک بشکه نفت خام ۲٪ است. در صورتی که قیمت نفت خام ۵۰ دلار برای یک بشکه باشد، سهم هزینه انرژی در هزینه تولید نفت خام، چند درصد است؟

- ۱) ۱۵
- ۲) ۲۰
- ۳) ۲۵
- ۴) ۳۰

۴۵- بازده اکسرژی در یک نیروگاه بخاری براساس سوخت زغال سنگ همواره:

- ۱) تابعی از تلفات انرژی در سیستم خنک‌کننده نیروگاه است.
- ۲) به مقدار زیاد کمتر از بازده انرژی نیروگاه بخاری است.
- ۳) بیشتر از بازده انرژی نیروگاه بخاری است.
- ۴) تقریباً برابر بازده انرژی نیروگاه بخاری است.

