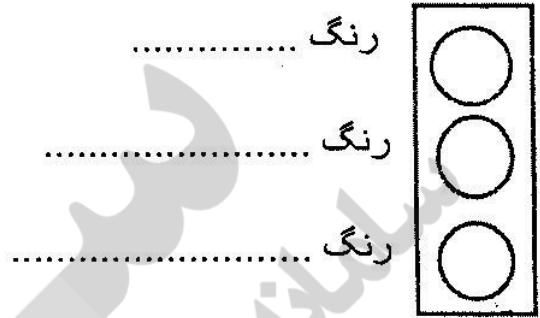
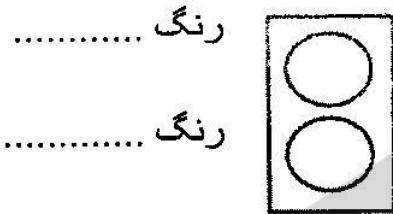


بِسْمِ تَعَالَى

دبستان غیر دولتی پسرانه معرفت ولیعصر

نام و نام خانوادگی : درس : اجتماعی پایه : سوم تاریخ : ۹۴/۲/۱

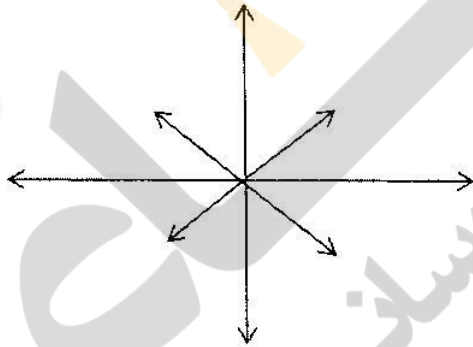
۱- هر چراغ مخصوص چه چیزی است و هر رنگ نشانه ی چیست؟ (رنگ بزنید)




چراغ مخصوص : .....

چراغ مخصوص : .....


۲- تمام جهت های اصلی و فرعی را در فلش ها بنویسید



۳- معنی تابلو های زیر را بنویسید



۴- در پاکت زیر محل هایی که مشخص شده است را بنویسید



۵- هر خانه به غیر از نشانی یک ..... دارد که ..... رقمی است .

۶- به نامه یا ارسال الکترونیکی ..... می گویند .

۶- پلاک های خانه ها را چه کسانی نصب می کنند ؟ .....

۷- نشانی خانه شامل چه چیزهایی است ؟ .....

۸- هر روز خورشید از جهت ..... طلوع و در پایان روز در جهت ..... غروب می کند.

۹- برای تماس با پلیس شماره ی ..... را می گیریم

برای عبور پیاده

۱۰- در خیابان های بزرگ که اتومبیل ها با سرعت زیاد حرکت می کنند باید از ..... استفاده

کنیم .

۱۱- هنگام شب باید برای عبور از کوچه و خیابان لباس ..... بپوشیم .

۱۲- در هنگام پیاده شدن از ماشین باید از در کدام سمت پیاده شویم ؟

۱۳- چگونه از خیابان عبور کنیم ؟ .....

.....

.....

۱۴- کار اداره ی پست چیست ؟ .....

				جهت های اصلی و فرعی رای شناسد
				جریان راه های وسیل نقلیه و عبور پیاده رای شناسد
				تأسیسات از مقررات و تابلوی های راهنمای راستی را بداند.
				کار، اداره ی پست را بداند
				به مقررات عبور از خیابان را عمل می کند