

اداره کل آموزش و پرورش استان یزد
ناحیه یک آموزش و پرورش

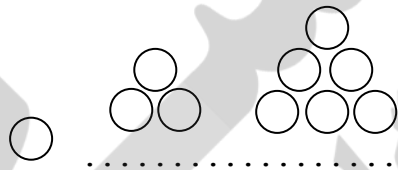
تاریخ :

آمادگی و دبستان دفترانه غیر دولتی

سرگرایش نو

۶- در جاهای خالی عدد مناسب بنویسید .
 $500 + 3000 + 40 = \dots\dots\dots$
 $2000 + 20 + 1 = \dots\dots\dots$
 $5421 = \dots\dots\dots + \dots\dots\dots$
 $9048 = \dots\dots\dots + \dots\dots\dots$

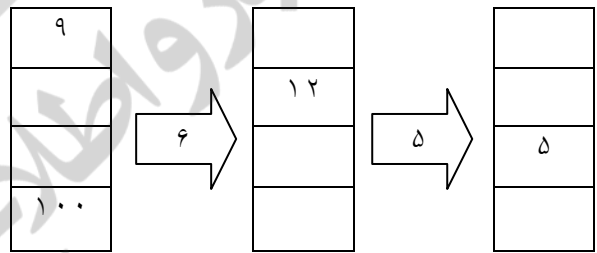
۱- الگوهای زیر را ادامه دهید
 و 5000 و 3000 و 1000 و 500
 و 2067 و 3067 و 4067



۷- مدرسه ۶ پایه دارد که در هر پایه ۲ کلاس درس وجود دارد و هر کلاس ۲۰ دانش آموز دارد . ابتدا جدول را کامل کنید و سپس به سوالات پاسخ دهید .

۲- با توجه به کاری که هر ماشین انجام می دهد ، در جاهای خالی عدد مناسب بنویسید .

پایه						
کلاس						
دانش آموز						



الف) ای

ب) این مدرسه چند دانش آموز دارد ؟

۳- علی ساعت ۸ صبح به مدرسه می رود . اگر زمان حضور او در مدرسه ۶ ساعت باشد ، علی چه ساعتی به خانه برمی گردد ؟ (به صورت بیان کنید .)

۸ پدر مهسا و مبینا به آنها مقدار مساوی کلات داد ۷ و مهسا ۳ و مبینا ۸ شکلات هایشان را خوردند . برای کدامیک مقدار بیشتری شکلات باقی مانده است ؟

۴- تمام عددهای ۳ رقمی را بنویسید که صدگان آن ۸ یا ۶ ، دهگان آن ۴ یا ۳ و یکان آن ۵ باشد . (از طریق جدول نظامدار)

۹- در جاهای خالی علامت مناسب $= >$

$\frac{2}{6} \bigcirc \frac{6}{6}$ $\frac{4}{8} \bigcirc \frac{4}{1}$ $\frac{3}{3} \bigcirc \frac{3}{6}$

$\frac{2}{3}$ واحد \bigcirc $\frac{1}{3}$ واحد 3 واحد و 3 واحد

۵- ۶۰ تون ایران به اندازه ۵۰۰ پوند کشور شکرستان می ارزد . ۴ تومانی ایران چند پوند کشور شکرستان است ؟

۱۴- در جاهای خالی عدد مناسب بنویسید .

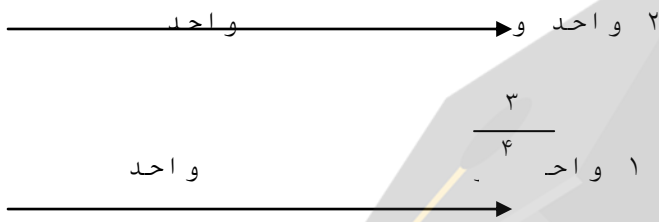
$$+ (\dots \times \dots)$$

$$5 \times (3 + 6) = (5 \times \dots)$$

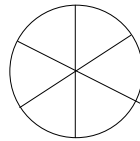
$$\dots = 3 \times (\dots + 8)$$

$$(3 \times 9) + (3 \times$$

۱۵- د ۱ . قسمت عدد خواسته شده را محور $\frac{\quad}{2}$ دهید .



۱۰- برای شکل روبرو ۲ کسر مساوی بنویسید .

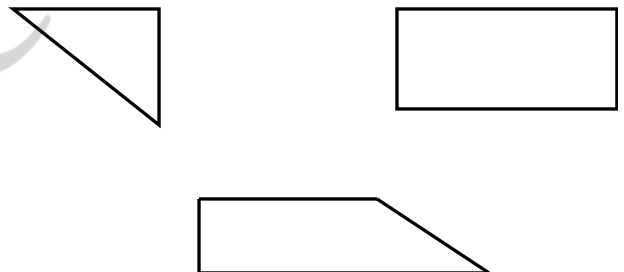


..... =

۱۱- جاهای خالی را به طور مناسب پر کنید .

۶۰ تومان ول است .
 تومان ۷۰۰۰ ول است .
 ۷ کیلوگرم و ۵۵۰ گرم یعنی گرم
 ۳۸۲۰ گرم یعنی کیلوگرم
 و گرم
 ۱۴۳ سانتی متر یعنی متر و سانتی متر
 کیلومتر یعنی ۳۰۰۰ متر

۱۲- با استفاده از گونیا ، زاویه های راست را در شکل های زیر مشخص کنید .



ن	ق	خ	خ	انتظارات
				۱- مفهوم شمارش چندتاچندتا را درک کرده است .
				۲- مفهوم ساعت قبل از ظهر و بعدازظهر را درک کرده است .
				۳- مفهوم واحدهای اندازه گیری طول و جرم و تبدیل آنها به یکدیگر را درک کرده است .
				۴- مفهوم اعداد چهار رقمی را درک نموده است .
				۵- مفهوم کسر را به خوبی درک نموده است .
				۶- مفهوم توزیع پذیری ضرب را به خوبی درک نموده است .

۱۳- ۳ بنا ۵ بسته ۵ تایی و ۴ بسته ۵ تایی شکلات دارند . آنها روی هم رفته چند عدد شکلات دارند ؟