



کلاس: سوم

تاریخ: ۹۶ / ۲ / ۱۷

آزمون: ریاضی



نام و نام خانوادگی: .....

شماره دانش آموز: .....

ردیف

۱ رضا هر بادکنک را ۳۰۰ می خرد و ۳۵۰ می فروشد . با توجه به جدول جواب سوال های زیر را بنویسید.

تعداد بادکنک	
سود	

فروش یک بادکنک چند تومان برایش سود دارد؟

چند بادکنک بفروشد تا ۲۵۰ تومان سود ببرد؟

۲ در یک رستوران ۶ ردیف صندلی ۸ تایی آبی و ۵ ردیف صندلی ۹ تایی قرمز چیده اند. در این رستوران چند صندلی وجود دارد؟

۳ تساوی زیر را کامل کنید.

$$9 \times 8 = (\dots \times 8) + (5 \times \dots) = \dots + \dots = \dots$$

$$6 \times 7 = (2 \times \dots) + (\dots \times 7) = \dots + \dots = \dots$$

۴ ضرب و تقسیم زیر را روی محور نشان بده.

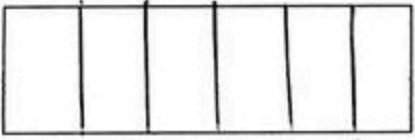





$$\longrightarrow 6 \times 2 =$$

$$\longrightarrow 14 \div 7 =$$

۵ عدد ۷۴۰۱ را در جدول ارزش مکانی قرار بده.

ارزش مکانی کدام رقم بیشتر است؟

عدد را به حروف بنویس.

<p>۱ متر و ۵ سانتی متر <input type="radio"/> ۱۲۰ سانتی متر</p> <p>۲۰ بسته ی ۱۰ تایی <input type="radio"/> ۳ بسته ی صدتایی</p> <p><math>\frac{1}{5} \bigcirc \frac{1}{3}</math>      <math>\frac{1}{3} \bigcirc \frac{3}{3}</math></p>	<p>۶ در جای خالی علامت &lt; = &gt; بگذارید.</p> <p>۱۰۰۰ سانتی متر <input type="radio"/> یک کیلومتر</p> <p>۴ واحد و <math>\frac{2}{3}</math> واحد <input type="radio"/> ۴ واحد و <math>\frac{1}{3}</math> واحد</p> <p><math>\frac{4}{5} \bigcirc \frac{3}{5}</math>      <math>\frac{3}{4} \bigcirc \frac{13}{5}</math></p>
	<p>۷ با کامل کردن شکل نشان دهید <math>\frac{2}{6} = \frac{6}{12}</math> است.</p>
<p><input type="radio"/></p> <p><input type="radio"/> ۳۰</p> <p><input type="radio"/> ۱۲۷</p>	<p>۸ جاهای خالی را کامل کن.</p> <p><math>+ ۱۵</math>      <math>- ۲۰</math></p> <p><input type="radio"/>      <input type="radio"/></p> <p><input type="radio"/>      <input type="radio"/></p> <p><input type="radio"/> ۱۴۲      <input type="radio"/></p>
	<p>۹ ۳ واحد و <math>\frac{2}{4}</math> واحد بعد از عدد ۱ را روی محور نشان دهید.</p>
<p><math>9 \times 8 =</math></p> <p><math>7 \times 6 =</math></p>	<p>۱۰ حاصل ضرب و تقسیم زیر بنویسید.</p> <p><math>64 \div 8 =</math>      <math>8 \times 4 =</math></p> <p><math>27 \div 3 =</math>      <math>6 \times 5 =</math></p>
<p>نظریه معلم:</p>	
<p><input type="radio"/>  نیاز به تلاش بیشتر      <input type="radio"/>  قابل قبول      <input type="radio"/>  خوب      <input type="radio"/>  خیلی خوب</p>	