

به نام مهربان ترین

نام و نام خانوادگی: ارزشیابی ریاضی کلاس اول دبستان غیردولتی صا دی ۹۵

۱- موشی را که به راست می رود در خط بسته قرار بده.

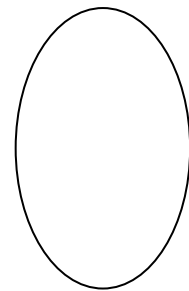
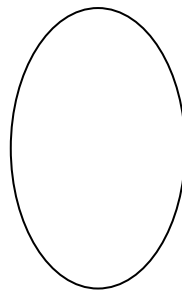


۲- دور دسته ی کمتر خط بکش و دوطرف علامت عدد مناسب بنویس



..... <

۳- با توجه به عدد شکل و برای شکل ها عدد مناسب بنویس.

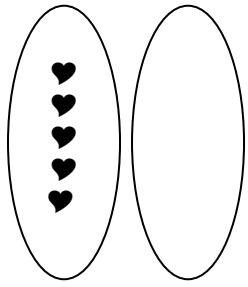


۴- عددها را به ترتیب از کمتر به بیش تر مرتب کن.

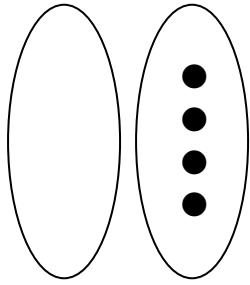
۷ - ۲ - ۴ - ۰ - ۱ - ۳ - ۵ - ۶ - ۹ - ۸ -

.....

۵ - کامل کن عدد و علامت مناسب بنویس.



۵ ۶



..... >

۶- برای شکل جمع بنویس.



..... + =



..... + =

۷- در جای خالی عدد مناسب بنویس.

$$1 + \dots = 5$$

$$\dots + 3 = \dots$$

$$1 + 2 = \dots$$

$$2 + 3 = \dots$$

$$1 + \dots = 2$$

$$\dots + 2 = 4$$

۸- در جای خالی عدد و علامت مناسب (<=>) بنویس.

$$4 \square 6$$

$$7 \square 5$$

$$2 \square 2$$

$$4 = \square$$

$$\square > 5$$

$$\square < 7$$

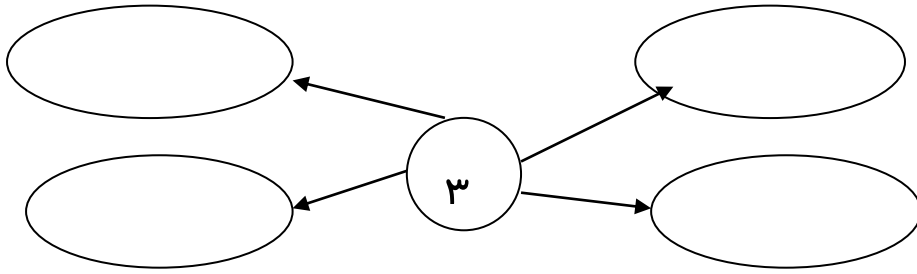
۹- برای جمع شکل بکش.

$$3 + 3 = \dots$$




$$4 + 2 = \dots$$

۱۰- جمع عد ۳ را کامل بنویس.



۱۱- برای شکل تفریق بنویس.



..... - =

۱۲- شکل ها را همان طور که هست ادامه بده.



۱۳- برای تفریق شکل بکش.


$4 - 3 = \dots$

۱۴- اعداد قبل و بعد را بنویس.

..... - - - - ۱ - ۰

..... - - - ۵ - - -

۱۵- برای شکل جمع بنویس.



..... + + =