




|  |  |   |
|--|--|---|
|  <p style="text-align: center;"><b>ستاد</b><br/><b>امتحانات</b><br/>دبیرستان پیام‌ساز</p> | <p>مدیریت آموزش و پرورش منطقه ۱۴<br/>دبیرستان غیر دولتی پسرانه پیام‌ساز<br/>پایانی اول ۹۸-۹۷<br/>تاریخ امتحان: ۹۷/۱۰/۳<br/>نام درس: جغرافیا<br/>مدت امتحان: ۶۰ دقیقه</p> | <p>نام و نام خانوادگی:<br/>کلاس:<br/>نام دبیر: آقای فراهانی<br/>رشته تحصیلی: ریاضی فیزیک<br/>شماره:</p> |
| <p>ساعت شروع امتحان: ۸:۳۰ صبح<br/>تعداد برگ سؤال: ۲ صفحه</p>   | <p>نام درس: جغرافیا<br/>مدت امتحان: ۶۰ دقیقه</p>   | <div style="border: 1px solid black; width: 80px; height: 30px; margin: 0 auto;"></div>                 |

| بارم   |   | ردیف |   |                 |              |  |            |                       |         |                         |                  |   |
|--|---|------|---|-----------------|--------------|--|------------|-----------------------|---------|-------------------------|------------------|---|
| ۲  | <p>جاهای خالی را با کلمات مناسب پر کنید .</p> <p>۱- فرضیه ها در هر پژوهش نقش ..... را دارد .</p> <p>۲- مهم ترین آبراهه راهبردی و یکی از گذرگاه های مهم جهان ..... است .</p> <p>۳- به خلیج های کوچک سواحل خلیج فارس ..... می گویند .</p> <p>۴- تنها موجودی که در دریاچه ی ارومیه زندگی می کرد ..... نام دارد .</p>   | الف  |   |                 |              |  |            |                       |         |                         |                  |   |
| ۲  | <p>درستی یا نادرستی جملات زیر را مشخص کنید .</p> <p>۱- انسان برای رفع نیاز های خود به تغییر محیط دست می زند . درست <input type="checkbox"/> نادرست <input type="checkbox"/></p> <p>۲- ایران با ۱۷ کشور مرز خشکی و آبی دارد . درست <input type="checkbox"/> نادرست <input type="checkbox"/></p> <p>۳- بندر کنارک تنها بندر اقیانوسی ایران در شمال دریای عمان قرار دارد . درست <input type="checkbox"/> نادرست <input type="checkbox"/></p> <p>۴- آنچه امروز دریای عمان نامیده می شود در گذشته دریای مکران نام داشت . درست <input type="checkbox"/> نادرست <input type="checkbox"/></p>   | ب    |   |                 |              |  |            |                       |         |                         |                  |   |
| ۲  | <p>از ستون های الف و ب جملات مرتبط را به هم وصل کنید .</p> <table border="1" style="width: 100%; border-collapse: collapse; margin-top: 10px;"> <thead> <tr> <th style="width: 50%; text-align: center;">الف</th> <th style="width: 50%; text-align: center;">ب</th> </tr> </thead> <tbody> <tr> <td style="text-align: center;">۱- ژئومورفولوژی</td> <td style="text-align: center;">کوههای منفرد</td> </tr> <tr> <td style="text-align: center;">۲- وقتی هوای سرد در مجاورت زمین و هوای گرم بالای آن باشد</td> <td style="text-align: center;">زمین شناسی</td> </tr> <tr> <td style="text-align: center;">۳- ناهمواری های مریخی</td> <td style="text-align: center;">وارونگی</td> </tr> <tr> <td style="text-align: center;">۴- توده های نفوذی آذرین</td> <td style="text-align: center;">کوه های مینانوری</td> </tr> </tbody> </table> | الف  | ب | ۱- ژئومورفولوژی | کوههای منفرد | ۲- وقتی هوای سرد در مجاورت زمین و هوای گرم بالای آن باشد | زمین شناسی | ۳- ناهمواری های مریخی | وارونگی | ۴- توده های نفوذی آذرین | کوه های مینانوری | ج |
| الف  | ب   |      |   |                 |              |  |            |                       |         |                         |                  |   |
| ۱- ژئومورفولوژی  | کوههای منفرد  |      |   |                 |              |  |            |                       |         |                         |                  |   |
| ۲- وقتی هوای سرد در مجاورت زمین و هوای گرم بالای آن باشد | زمین شناسی  |      |   |                 |              |  |            |                       |         |                         |                  |   |
| ۳- ناهمواری های مریخی                                    | وارونگی   |      |   |                 |              |  |            |                       |         |                         |                  |   |
| ۴- توده های نفوذی آذرین                                  | کوه های مینانوری  |      |   |                 |              |  |            |                       |         |                         |                  |   |
| ۲  | <p>اصطلاحات زیر را تعریف کنید ؟</p> <p>۱- جلگه</p> <p>۲- کویر</p> <p>۳- حوضه ی آبریز</p> <p>۴- آب و هوا</p>   | د    |   |                 |              |  |            |                       |         |                         |                  |   |

|   |  |   |
|---|--|---|
|  <p>سازمان آموزش و پرورش<br/>امتحانات</p>  |  <p>انتشارات<br/>سازمان آموزش و پرورش</p> | <p>نام و نام خانوادگی: دبیر محمد علی شجاعی</p> <p>کلاس: دهم</p> <p>نام دبیر: آقای قراهنی</p> <p>رشته تحصیلی: ریاضی فیزیک</p> <p>شماره: <span style="border: 1px solid black; display: inline-block; width: 40px; height: 20px; vertical-align: middle;"></span></p> |
| <p>مدیریت آموزش و پرورش منطقه ۱۴</p> <p>دبیرستان غیر دولتی پسرانه پیام غدیر</p> <p>پایانی اول ۹۸-۹۷</p> <p>تاریخ امتحان: ۱۳/۱۰/۹۷</p> <p>نام درس: جغرافیا</p> <p>مدت امتحان: ۶۰ دقیقه</p> |  |   |
| <p>ساعت شروع امتحان: ۸:۳۰ صبح</p> <p>تعداد برگ سوال: ۲ صفحه</p>   |  |   |

| ردیف   | بارم                | سوال   |     |   |                 |                |  |              |                       |           |                         |                     |
|--|---------------------|--|-----|---|-----------------|----------------|--|--------------|-----------------------|-----------|-------------------------|---------------------|
| الف  | ۲                   | <p>جاهای خالی را با کلمات مناسب پر کنید.</p> <p>۱- فرضیه هادر هر پژوهش نقش ..... را دارد.</p> <p>۲- مهم ترین آبراهه راهبردی و یکی از گذرگاه های مهم جهان ..... است.</p> <p>۳- به خلیج های کوچک سواحل خلیج فارس ..... می گویند.</p> <p>۴- تنها موجودی که در دریاچه ی ارومیه زندگی می کرد ..... نام دارد.</p>  |     |   |                 |                |  |              |                       |           |                         |                     |
| ب  | ۲                   | <p>درستی یا نادرستی جملات زیر را مشخص کنید.</p> <p>۱- انسان برای رفع نیاز های خود به تغییر محیط دست می زند . <input checked="" type="checkbox"/> درست <input type="checkbox"/> نادرست</p> <p>۲- ایران با ۱۷ کشور مرز خشکی و آبی دارد . <input checked="" type="checkbox"/> درست <input type="checkbox"/> نادرست</p> <p>۳- بندر کنارک تنها بندر اقیانوسی ایران در شمال دریای عمان قرار دارد . <input type="checkbox"/> درست <input checked="" type="checkbox"/> نادرست</p> <p>۴- آنچه امروز دریای عمان نامیده می شود در گذشته دریای مکران نام داشت . <input checked="" type="checkbox"/> درست <input type="checkbox"/> نادرست</p> |     |   |                 |                |  |              |                       |           |                         |                     |
| ج  | ۲                   | <p>از ستون های الف و ب جملات مرتبط را به هم وصل کنید.</p> <table border="1" style="width: 100%; border-collapse: collapse;"> <thead> <tr> <th style="width: 50%; text-align: center;">الف</th> <th style="width: 50%; text-align: center;">ب</th> </tr> </thead> <tbody> <tr> <td>۱- ژئومورفولوژی</td> <td>کوههای منفرد ۴</td> </tr> <tr> <td>۲- وقتی هوای سرد در مجاورت زمین و هوای گرم بالای آن باشد</td> <td>زمین شناسی ۱</td> </tr> <tr> <td>۳- ناهمواری های مریخی</td> <td>وارونگی ۲</td> </tr> <tr> <td>۴- توده های نفوذی آذرین</td> <td>کوه های مینانوری نم</td> </tr> </tbody> </table>                                  | الف | ب | ۱- ژئومورفولوژی | کوههای منفرد ۴ | ۲- وقتی هوای سرد در مجاورت زمین و هوای گرم بالای آن باشد | زمین شناسی ۱ | ۳- ناهمواری های مریخی | وارونگی ۲ | ۴- توده های نفوذی آذرین | کوه های مینانوری نم |
| الف  | ب                   |  |     |   |                 |                |  |              |                       |           |                         |                     |
| ۱- ژئومورفولوژی  | کوههای منفرد ۴      |  |     |   |                 |                |  |              |                       |           |                         |                     |
| ۲- وقتی هوای سرد در مجاورت زمین و هوای گرم بالای آن باشد | زمین شناسی ۱        |  |     |   |                 |                |  |              |                       |           |                         |                     |
| ۳- ناهمواری های مریخی                                    | وارونگی ۲           |  |     |   |                 |                |  |              |                       |           |                         |                     |
| ۴- توده های نفوذی آذرین                                  | کوه های مینانوری نم |  |     |   |                 |                |  |              |                       |           |                         |                     |
| د  | ۲                   | <p>اصطلاحات زیر را تعریف کنید؟</p> <p>۱- جلگه جلگه سبز زمین های همواری هستند که از یک طرف به کوه ها و از طرف دیگر به دریا و رودها اتصال دارند و به همین زیادگی را در فرود پای داده اند به خاطر حاصل فیزی</p> <p>۲- کویر کویر قسمتی از بیابان است و به نخلزارهای پف کرده ای گفته می شود که تغییر زیادگی مهم ترین عامل تشکیل آنها است.</p> <p>۳- حوضه ی آبریز مقدوهی از زمین که با توجه به شکل زمین و شیب ناهمواری ها آن های جاری را پائین ترین نقطه آن هدایت می کند را حوضه آبریزی گویند. دو نوع ۱- حوضه آبریز داخلی ۲- خارجی</p> <p>۴- آب و هوا ۳ در هوا مجموع عناصر جوی غالب بر یک منطقه در درازمدت است.</p>                    |     |   |                 |                |  |              |                       |           |                         |                     |

| ردیف | پاره | سوال  |
|------|------|---|
| هـ   | ۴    | <p>به سؤالات زیر پاسخ کوتاه بدهید .</p> <p>۱- رشته کوههای شمال خراسان را نام ببرید . ( ۲ مورد ) ۱-۳۳۰ تاخ - هزارمسجد</p> <p>۲- ارزش های اقتصادی نواحی کوهستانی چیست ؟ ( ۲ مورد ) ۱- ذخایر آب - دامداری</p> <p>۳- عوامل تغییر دهنده زاگرس در حال حاضر را نام ببرید . ( ۲ مورد ) ۱- عوامل انسانی ۲- عوامل طبیعی</p> <p>۴- انواع کانون های آبگیر را نام ببرید ؟ ( ۲ مورد ) ۱- کانون های آبگیر دائمی ۲- فصلی</p>  |
| و    | ۱    | <p>به سؤالات زیر پاسخ کامل دهید .</p> <p>۱- خلیج فارس چگونه بوجود آمده است ؟ گسترش آن اقیانوس هند از طریق دریای عمان و تنگه هرمز به دره ای تراشیده و خلیج هلالی تشکیل می شود آورده است که سال ها است بی آن خلیج فارس می گویند.</p>  |
|      | ۱/۱۵ | <p>۲- راه های مقابله با ریزگرد ها را بنویسید . ( ۳ مورد ) ۱- اجزای طلائین کا ۲- اجزای طرح مهار بیابان کا ۳- کنترل منبع بر مصرف آن در همه نقش کا</p>   |
|      | ۲    | <p>۳- توده های هوا که وارد کشور ما می شوند را نام ببرید و اثر دو مورد از آنها را توضیح دهید .</p> <p>۱- توده هوای سرد و خشک سیبری : این توده از شمال کشور وارد می شود و باعث سردی و خشکی هوا در زمستان می شود ، و باعث بارندگی در مناطق قشری شود . ۲- توده های هوای مرطوب غربی</p> <p>۳- توده های هوای سردانی : این توده رطوبت دریای سرخ را گاهی در فصل سرد وارد کشور می کند و باعث بارندگی می شود . ۴- توده های گرم و خشک هند - توده های مرطوب موسمی</p> |
|      | ۱    | <p>۴- رودهای طبقاتی چگونه وسعت و مکان جلگه ها را تغییر می دهند ؟ رودهای طبقاتی که به دریا ها می ریزند نیز نشسته ها و آبرفت های فراوانی را بر جلگه ها تعیل و در نتیجه مکان و وسعت جلگه ها را تغییر می دهند</p>   |
|      | ۱    | <p>۵- نوفان ها و باد های شدید چگونه دشت ها را تغییر می دهند ؟ نوفان ها و باد ها با فرسایش و باران می تواند در دشت ها مشغول اند و تپه های ماسه ای و دیگر بیدیه های طبیعی مثل تپه های رابا ، بستر رود ها و دشت های رنگی را از نظر مکان و وسعت تغییر می دهند</p>   |
|      | ۱/۱۵ | <p>۶- پژوهشگر در روش میدانی چه اقداماتی را انجام می دهد ؟ پژوهشگر در این روش برای جمع آوری اطلاعات نیاز است که خود به محل مورد تحقیق برود و با مراجعه به افراد یا محیط و برقراری تماس مستقیم با محل مورد نظر تحقیقان خود را ادا کند . ابزار پژوهشگر در روش میدانی بر سنجش نام ، مشاهده و مشاهده می باشد</p>   |
|      |      | موفق باشید  |