

دستان غیردولتی میثمکمان فردا

به نام خدا

نام و نام خانوادگی:

نام آموزگار: زکس اکبرنژاد

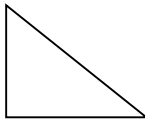
تاریخ: ۱۳۹۱ / ۱۰ / ۵

آزمون مدادکاغذی ریاضی

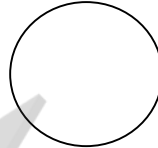
۱- نام شکل های زیر را بنویس.



.....



.....



.....



.....

۲- عزیزم به دو شکل زیر با دقت نگاه کن و شباهت ها و تفاوت های هر کدام را بنویس.



شباهت ها: .....

.....

تفاوت ها: .....


۳- با استفاده از شابلون یک شکل بکش که ۶ گوشه داشته باشد.

۴- در هر شکل زیر خط «م، د» چه نام دارد. و گوشه های شکل زیر را با مداد قرمز مشخص کن.

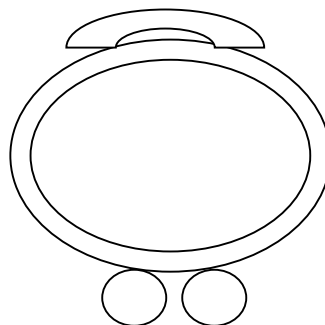


نام خط: .....


۵- عقربه های هر ساعت را بکش.



یک ربع مانده به ساعت ۱۰

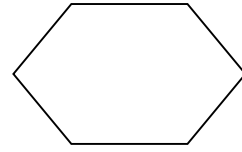
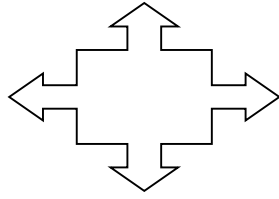


ساعت ۵ و نیم



ساعت ۷ و ۴۲ دقیقه

۶- با کشیدن ۲ خط هر شکل را به ۴ قسمت مثل هم تقسیم کن.

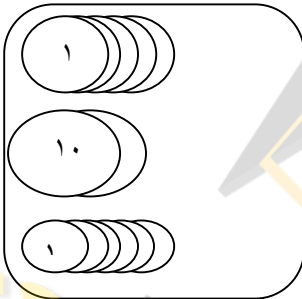


۷- با استفاده از ساعت آموزشی به سوالات زیر پاسخ بده.

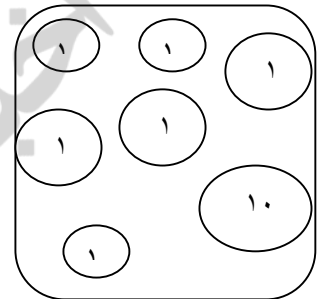
یک ربع بعد از ساعت ۱۰ و ۲۰ دقیقه

یک ساعت و نیم قبل از ساعت ۲

۸- در هر کادر چند ریال سکه وجود دارد؟



.....ریال



.....ریال

۹- جاهای خالی را پر کن.

۷ سکه ۱ ریالی چند ریال می شود؟ .....

۵ سکه ۱۰ ریالی چند سکه ۱ ریالی می شود؟ .....

۱۰- جمع و تفریق های زیر را کامل کن.

$$۱۰۰ - ۵۰ =$$

$$۱۰۰ - ۲۰ =$$

$$۵۰ + ۵۰ =$$

$$۳۰ + ۷۰ =$$

۱۱- رضا برای خرید گل ۷ سکه ۱۰ ریالی و ۵ سکه ۱ ریالی به گل فروش داد. او چه قدر پول داد؟

« پیروز و موفق باشید »

آموزگار مربوطه : نرگس اکبرنژاد ساروی