



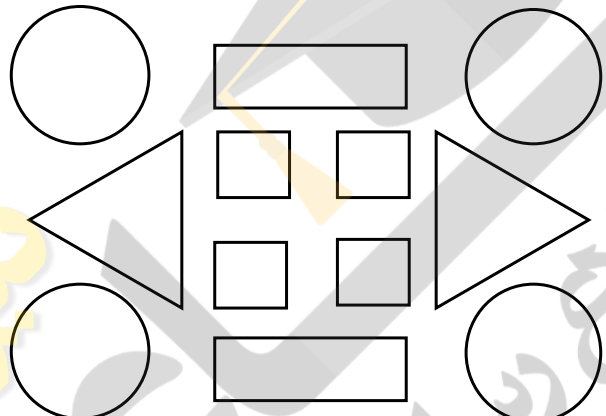
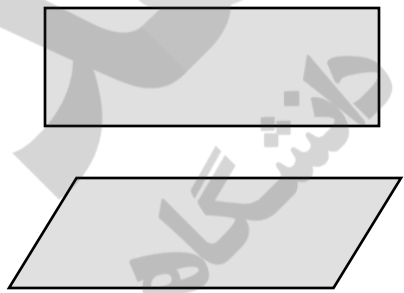


ریاضی

|   |  |   |   |   |   |   |  |       |       |      |  |  |  |       |       |      |  |  |  |   |
|---|--|---|---|---|---|---|--|-------|-------|------|--|--|--|-------|-------|------|--|--|--|---|
|   | <p>۱ عددهای دو رقمی بنویسید که یکان آن ها ۴۰۲ و دهگان آن ها ۸۰۵ باشد.</p> <p style="text-align: center;"> <input type="text"/>    <input type="text"/>    <input type="text"/>    <input type="text"/> </p>  | ۱   |   |   |   |   |  |       |       |      |  |  |  |       |       |      |  |  |  |   |
|   | <p>۲ جاهای خالی را با توجه به الگوی آن ها پر کنید.</p> <p>۱۷ - ۱۸ - ۱۹ - <input type="text"/> - <input type="text"/> - <input type="text"/> - <input type="text"/> - <input type="text"/></p> <p><input type="text"/> - <input type="text"/> - <input type="text"/> - <input type="text"/> سی و شش - سی و هفت - سی و هشت - سی و نُه</p> <p>۵۵ - ۵۸ - ۶۰ - <input type="text"/> - <input type="text"/> - <input type="text"/> - <input type="text"/></p>  | ۲   |   |   |   |   |  |       |       |      |  |  |  |       |       |      |  |  |  |   |
|   | <p>۳ الگوی زیر با کشیدن عقربه نشان بدهید.</p>   | ۳   |   |   |   |   |  |       |       |      |  |  |  |       |       |      |  |  |  |   |
|   | <p>۴ جمع و تفریق های زیر با استفاده از روش گسترده نویسی حساب کنید.</p> <table style="width: 100%; text-align: center;"> <tr> <td><math display="block">\begin{array}{r} 46 \\ - 16 \\ \hline \end{array}</math></td> <td><math display="block">\begin{array}{r} 24 \\ + 24 \\ \hline \end{array}</math></td> <td><math display="block">\begin{array}{r} 67 \\ - 30 \\ \hline \end{array}</math></td> <td><math display="block">\begin{array}{r} 20 \\ + 29 \\ \hline \end{array}</math></td> </tr> </table>  | $\begin{array}{r} 46 \\ - 16 \\ \hline \end{array}$ | $\begin{array}{r} 24 \\ + 24 \\ \hline \end{array}$ | $\begin{array}{r} 67 \\ - 30 \\ \hline \end{array}$ | $\begin{array}{r} 20 \\ + 29 \\ \hline \end{array}$ | ۴ |  |       |       |      |  |  |  |       |       |      |  |  |  |   |
| $\begin{array}{r} 46 \\ - 16 \\ \hline \end{array}$ | $\begin{array}{r} 24 \\ + 24 \\ \hline \end{array}$  | $\begin{array}{r} 67 \\ - 30 \\ \hline \end{array}$ | $\begin{array}{r} 20 \\ + 29 \\ \hline \end{array}$ |   |   |   |  |       |       |      |  |  |  |       |       |      |  |  |  |   |
|   | <p>۵ عدد مربوط به هر شکل را به عدد و حروف بنویسید</p> <div style="display: flex; justify-content: space-between;"> <div style="width: 30%;">  </div> <div style="width: 30%;"> <table border="1" style="width: 100%; text-align: center;"> <tr> <td>صدگان</td> <td>دهگان</td> <td>یکان</td> </tr> <tr> <td> </td> <td> </td> <td> </td> </tr> </table> </div> <div style="width: 30%; text-align: right;"> <input type="text"/> </div> </div> <div style="display: flex; justify-content: space-between; margin-top: 20px;"> <div style="width: 30%;">  </div> <div style="width: 30%;"> <table border="1" style="width: 100%; text-align: center;"> <tr> <td>صدگان</td> <td>دهگان</td> <td>یکان</td> </tr> <tr> <td> </td> <td> </td> <td> </td> </tr> </table> </div> <div style="width: 30%; text-align: right;"> <input type="text"/> </div> </div> <div style="display: flex; justify-content: space-between; margin-top: 20px;"> <div style="width: 30%;">  </div> <div style="width: 30%;"> <table border="1" style="width: 100%; text-align: center;"> <tr> <td>صدگان</td> <td>دهگان</td> <td>یکان</td> </tr> <tr> <td> </td> <td> </td> <td> </td> </tr> </table> </div> <div style="width: 30%; text-align: right;"> <input type="text"/> </div> </div> | صدگان   | دهگان   | یکان  |   |   |  | صدگان | دهگان | یکان |  |  |  | صدگان | دهگان | یکان |  |  |  | ۵ |
| صدگان   | دهگان  | یکان  |   |   |   |   |  |       |       |      |  |  |  |       |       |      |  |  |  |   |
|   |  |   |   |   |   |   |  |       |       |      |  |  |  |       |       |      |  |  |  |   |
| صدگان   | دهگان  | یکان  |   |   |   |   |  |       |       |      |  |  |  |       |       |      |  |  |  |   |
|   |  |   |   |   |   |   |  |       |       |      |  |  |  |       |       |      |  |  |  |   |
| صدگان   | دهگان  | یکان  |   |   |   |   |  |       |       |      |  |  |  |       |       |      |  |  |  |   |
|   |  |   |   |   |   |   |  |       |       |      |  |  |  |       |       |      |  |  |  |   |

|  |  |
|--|--|
|  | <p>۶ به عدد یا حروف بنویسید</p> <p>دویست و دوازده      ۵۴۶</p> <p>۱۰۵      چهارصد بیست و دو</p>  |
|  | <p>۷ هر کدام از اعداد داده شده به کدامیک نزدیک تر است؟ داخل آن را رنگ بزنید</p> <p>۲۰ ← ۲۴ → ۳۰</p> <p>۲۵۰ ← ۲۵۷ → ۲۶۰</p> <p>۱۰۰ ← ۱۲۸ → ۲۰۰</p>  |
|  | <p>۸ شکل های زیر را طبق راهنما رنگ بزنید.</p> <p>مربع → قرمز</p> <p>مستطیل → آبی</p> <p>مثلث → زرد</p> <p>دایره → سبز</p>  |
|  | <p>۹ تفاوت و شباهت های شکل های زیر را بنویسید.</p> <p>تفاوت: .....</p> <p>شباهت: .....</p>                                |

ارزشیابی آموزگار

خیلی خوب  
 خوب  
 قابل قبول  
 نیاز به تلاش بیشتر