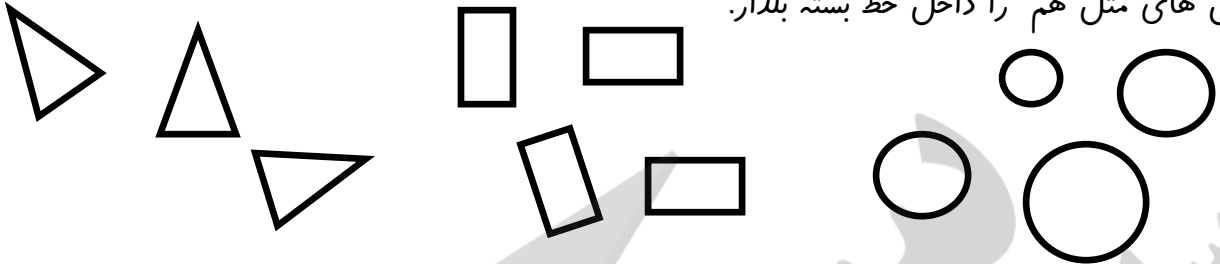


به نام خدا

ارزشیابی ریاضی کلاس اول

نام و نام خانوادگی :

۱- شکل های مثل هم را داخل خط بسته بگذار.




۲- گل های سبست راست خانه را رنگ کن.





۳- دختری را که به سبست چپ می رود رنگ کن.




۴- عدد هر دسته را بنویس.











۵- همان اندازه که گل می بینی از سیب ها رنگ کن.



۶- برای هر عدد شکل مناسب بکش.




۲



۸



۶




۳


۷- جدول شگفت انگیز را کامل کن.

	۱	۳	۵	۴
۳	۲		۴	۱
۴		۲	۱	۵
۵	۴	۱		۳
۱	۵	۴	۳	


۸- دور عدد مناسب خط بکش.



۷ - ۶ - ۵



۲ - ۴ - ۳




۶ - ۷ - ۸

۹- در جای خالی عدد مناسب بنویس.

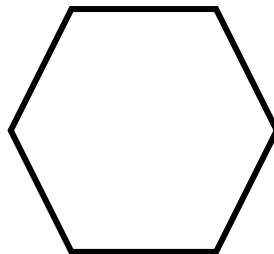
		۲		۴		۶		۸
--	--	---	--	---	--	---	--	---


۱			۳				۷	
---	--	--	---	--	--	--	---	--

۱۰- هر شکل چند گوشه دارد؟ عدد آن را بنویس.

















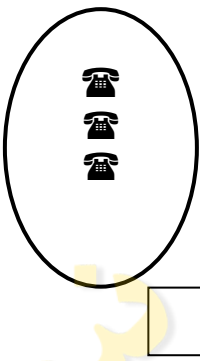
۱۱- الگو را ادامه بده.



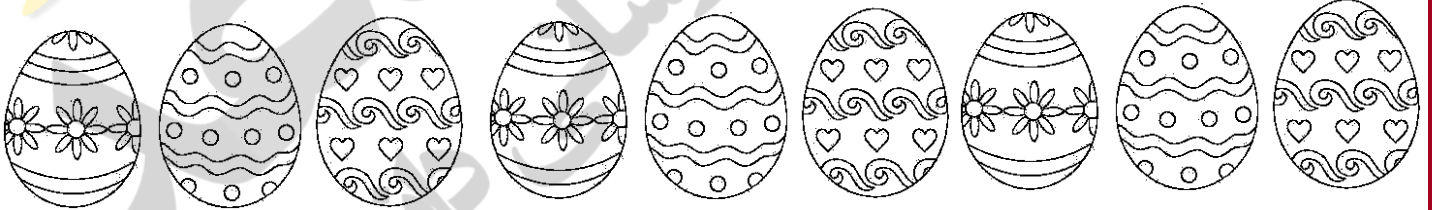
۱۲- عدد هر دسته را بنویس و شکل های دسته ی بیشتر را رنگ کن.




۱۳- شکل های هر دو دسته روی هم چندتا می شوند؟ با عدد نشان بده.



۱۴- ششین شکل از ست راست را رنگ کن.



بازخورد آموزگار :



خوب

خیلی خوب

نیاز به تلاش

قابل قبول

