

به نام خدای دوست داشتنی

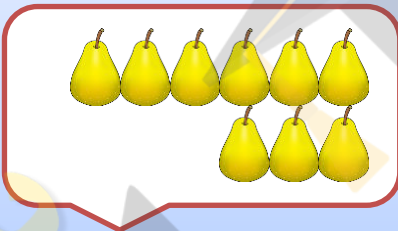
ارزشیابی ریاضی نوبت اول

نام دانشمند کوچکم :


نازنینم سمت چپ ستاره یک تکه ابر بکش.




ریاضیدان من عدد هر دسته را با عدد و پوچ فط نشان بره.



Two empty ovals for writing the number of pears.



Two empty ovals for writing the number of tomatoes.



Two empty ovals for writing the number of pomegranates.

کودک فوبم بین این اعداد علامت مناسب < = > بگذار.


۲ □ ۷

۸ □ ۸

۵ □ ۳


۶ □ ۹

دلبندم برای این شکل جمع مناسب بنویس.

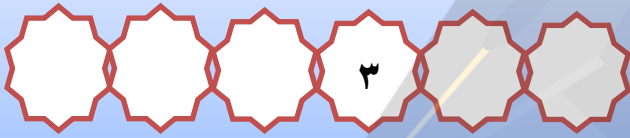


_____ + _____ = _____

گل من نیمه ی پایین را مثل نیمه ی بالا رنگ بزن.



عزیزم قبل و بعد این اعداد را بنویس.



نازنین برای هر عدد از یک رنگ استفاده کن و جواب جمع را پیدا کن.




$$3 + 4 + 2 =$$

مهربانم جدول شگفت انگیز را با اعداد مناسب کامل کن.




۴	۱	۵	۲	۶	۷	۹	۸	۳
۲	۹	۶	۵	۸	۳	۷	۴	۱
۷	۳			۹	۴		۵	۶
۱	۲			۴	۶	۵	۳	۷
۵	۸	۳	۷	۲	۹	۱	۶	۴
۶	۷	۴	۳	۱			۹	۲
۸	۵	۷	۴	۳			۲	۹
۳	۶	۱	۹	۵	۲	۴	۷	۸
۹	۴	۲	۶	۷	۸	۳	۱	۵

فرزندم بلندی پتر اندازه ی پند مراد است.



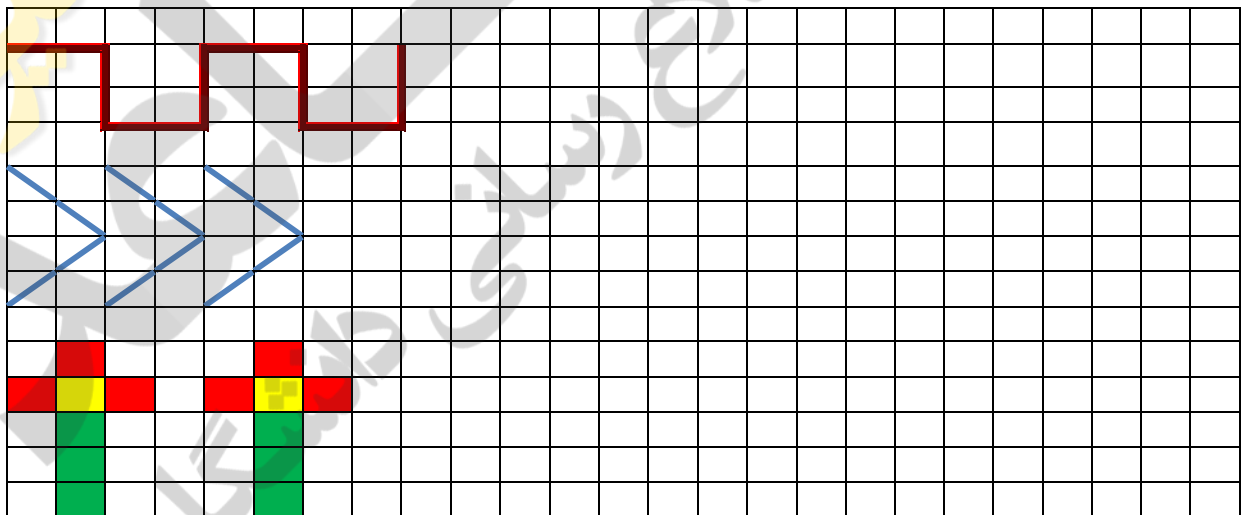
پاسخ هر قسمت را با قسمت دیگر مقایسه کن و علامت مناسب را انتخاب کن.



..... + =

..... - =

فرشته ی زمینی الگو را ادامه بده.



نظر من درباره ی این آزمون شما :



نیاز به تلاش



قابل قبول



فوب



فیلی فوب