



نام خانوادگی:

تاریخ: ۹۷/۲/۳

آزمون مداد کاغذی ریاضی فصل ۷  
آموزگار: نرگس اکبرنژاد ساروی

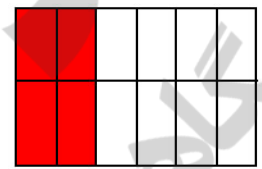
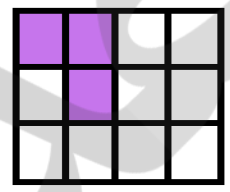
به نام خدای پروانه ها

الف) گل نازم پاسخ مناسب را مشخص کن.

- ۱- ۴۷ میلی متر یعنی ۷ سانتی متر و ۴ قسمت از ۱۰ قسمت مساوی  صحیح  غلط
- ۲- ۳ ده ریالی و ۲ قسمت از ده قسمت مساوی می شود ۲۳  صحیح  غلط
- ۳- یک ربع ساعت یعنی ۱ قسمت از ۴ قسمت مساوی  صحیح  غلط

\*\*\*\*\*

۴- به شکل ها نگاه کن و جاهای خالی را کامل کن .  
..... قسمت از ..... قسمت مساوی رنگ شده است.  
..... قسمت از ..... قسمت مساوی رنگ نشده است.

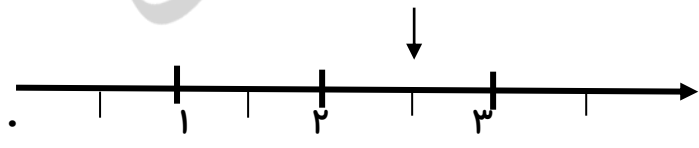


..... قسمت از ..... قسمت مساوی رنگ شده است.  
..... قسمت از ..... قسمت مساوی رنگ نشده است.

..... قسمت از ..... قسمت مساوی رنگ شده است.  
..... قسمت از ..... قسمت مساوی رنگ نشده است.

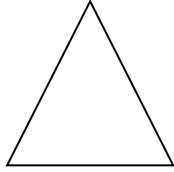
\*\*\*\*\*

۵- با توجه به نقطه ی مشخص شده محور را کامل کن.

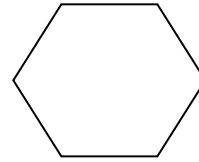


نقطه ی مشخص شده ..... واحد و ..... قسمت از ..... قسمت مساوی است.

۶- با توجه به جمله های نوشته شده هر شکل را کامل کن.

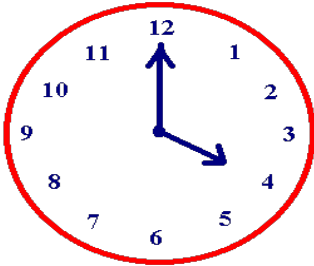


۲ قسمت از ۴ قسمت مساوی



۳ قسمت از ۶ قسمت مساوی

\*\*\*\*\*



۷- ساعت چند است؟

الف: ۲۰ دقیقه ی بعد ساعت چند است ؟ مقدار حرکت عقربه ی بزرگ را رنگ کن.

ب: مقدار رنگ شده ..... قسمت از ..... قسمت مساوی است.

\*\*\*\*\*

۸- در داخل یک کیسه ۵ مهره ی قرمز ، ۳ مهره ی زرد و ۲ مهره ی سبز است . جمله های زیر را کامل کن.

الف:.....مهره از .....مهره قرمز است.

ب: .....مهره از .....مهره سبز است.

ج: .....مهره از .....مهره زرد است.

اگر یک مهره از کیسه برداریم ، شانس کدام رنگ بیشتر است ؟ چرا ؟

\*\*\*\*\*



.....دسته ی ..... تایی می شود .....

۹- با توجه به شکل جمله ها را کامل کن.



.....دسته ی ..... تایی می شود .....

\*\*\*\*\*

۱۰- کتابخانه ی دبستان پیشگامان فردا ۱۵۷ کتاب علمی ، ۱۳۵ کتاب داستان و ۱۴۳ کتاب مذهبی دارد . در این

کتابخانه روی هم چند کتاب وجود دارد ؟