


۱- خط های زیر را با خط کش اندازه بگیر و بنویس .



۲- اندازه ی ضلع های شکل های هندسی را با خط کش بگیر و بنویس .



۳- خط های نوشته شده را با خط کش بکش

۵سانتی متر و ۸میلی متر

۱۲سانتی متر

۶سانتی متر و ۳میلی متر

۸سانتی متر

۴- جاهای خالی را کامل کن

۳سانتی متر یعنی میلی متر

۸سانتی متر یعنی میلی متر

۹سانتی متر یعنی میلی متر

۶سانتی متر یعنی میلی متر



۵- جاهای خالی را کامل کن

۱۰۰ میلی متر یعنی سانتی متر

۱۴۰ میلی متر یعنی سانتی متر

۱۲۰ میلی متر یعنی سانتی متر

۴۰ میلی متر یعنی سانتی متر

۶۰ میلی متر یعنی سانتی متر

۱۰ میلی متر یعنی سانتی متر



۶- علامت مناسب بگذار (>=<)

۵سانتی متر ۳میلی متر ۵۳میلی متر

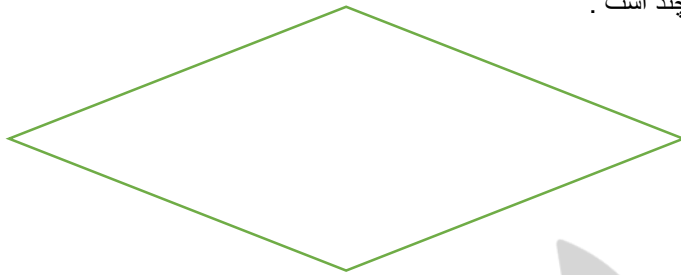

۸سانتی متر ۷میلی متر ۹۳میلی متر

۶سانتی متر ۵۳میلی متر

۱۳سانتی متر ۱۴۰میلی متر

مبينا خطی به طول ۵۶ میلی متر رسم می کند و زهرا خطی به طول ۶ سانتی متر و ۹ میلی متر اندازه کدام خط بیشتر است؟ چرا؟

حدس بزن طول خط ها چند است .



الف) ساعت ۳:۲۵ دقیقه را نشان ده .

یک ربع بعد ساعت چند می شود؟.....

نیم ساعت بعد ساعت چند می شود؟.....



ب) ساعت ۸:۱۰ دقیقه را نشان بده .

۲۰ دقیقه بعد ساعت چند است ؟

یک ربع بعد ساعت چند است ؟

با دقت رنگ کن

ساعت هایی که ربع را نشان می دهد را رنگ آبی بزن

ساعت هایی که یک ربع مانده را نشان می دهد قرمز کن

ساعت هایی که نیم را نشان می دهد زرد کن



| نیاز به تلاش بیشتر | قابل قبول | خوب | خیلی خوب | |
|--------------------|-----------|-----|----------|------------------------|
| | | | | اندازه گیری با خط کش |
| | | | | مفهوم سانتی متر |
| | | | | مفهوم میلی متر |
| | | | | ساعت ربع و نیم |
| | | | | حدس زدن |
| | | | | علامت بزرگتر و کوچک تر |