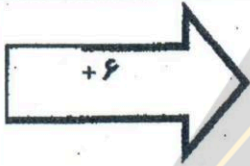










آزمون مداد کاغذی ریاضی پایه سوم **دی ماه ۱۳۹۲** **نام و نام خانوادگی:**

۱-	یک دلار کشور شکرستان ۱۰۰۰ تومان شده است. ۴ دلار این کشور چند تومان می شود؟ (راهبرد الگویابی - جدول)									
۲-	الگوهای شمارشی زیر را ادامه دهید و رابطه ی آن ها را بنویسید. ۱۰۰-۳۰۰-۵۰۰-.....-..... ۲۰۰۰-۳۰۰۰-۴۰۰۰-.....-.....									
۳-	جاهای خالی را کامل کنید. <table style="margin-left: auto; margin-right: auto; border-collapse: collapse;"> <tr> <td style="border: 1px solid black; padding: 5px;">۷</td> <td rowspan="4" style="text-align: center; vertical-align: middle;">  </td> <td style="border: 1px solid black; width: 40px; height: 20px;"></td> </tr> <tr> <td style="border: 1px solid black; padding: 5px;">۹</td> <td style="border: 1px solid black; width: 40px; height: 20px;"></td> </tr> <tr> <td style="border: 1px solid black; padding: 5px;"></td> <td style="border: 1px solid black; width: 40px; height: 20px; text-align: center;">۱۳</td> </tr> <tr> <td style="border: 1px solid black; padding: 5px;"></td> <td style="border: 1px solid black; width: 40px; height: 20px; text-align: center;">۱۱</td> </tr> </table>	۷			۹			۱۳		۱۱
۷										
۹										
		۱۳								
		۱۱								
۴-	خط های تقارن مستطیل مقابل را رسم کنید. مستطیل چند خط تقارن دارد؟ <div style="text-align: center; border: 2px solid black; width: 150px; height: 60px; margin: 10px auto;"></div>									
۵-	جدول را کامل کنید. زمان بعد از ظهر <table style="margin-left: auto; margin-right: auto; border-collapse: collapse;"> <tr> <td style="border: 1px solid black; padding: 5px;">۱۶</td> <td style="border: 1px solid black; width: 40px; height: 20px;"></td> <td style="border: 1px solid black; padding: 5px;">۱۸:۲۵</td> <td style="border: 1px solid black; width: 40px; height: 20px;"></td> </tr> <tr> <td style="border: 1px solid black; padding: 5px;"></td> <td style="border: 1px solid black; width: 40px; height: 20px; text-align: center;">۸</td> <td style="border: 1px solid black; padding: 5px;"></td> <td style="border: 1px solid black; padding: 5px;">۷:۱۵</td> </tr> </table>	۱۶		۱۸:۲۵			۸		۷:۱۵	
۱۶		۱۸:۲۵								
	۸		۷:۱۵							
۶-	باز شده ی یک مکعب را رسم کنید.									
۷-	با حروف و رقم بنویسید. هشت هزار و پانصد و چهل <table style="margin-left: auto; margin-right: auto; border-collapse: collapse;"> <tr> <td style="border: 1px solid black; padding: 5px;">۷۸۳۹</td> </tr> </table>	۷۸۳۹								
۷۸۳۹										
۸-	بزرگ ترین عدد چهار رقمی بنویسید که رقم های آن تکراری نباشد.									
۹-	عدد دایره به کدام عدد نزدیک تر است آن مستطیل را رنگ کنید. <table style="margin-left: auto; margin-right: auto; border-collapse: collapse;"> <tr> <td style="border: 1px solid black; padding: 10px; text-align: center;">۵۰۰۰</td> <td style="text-align: center; padding: 0 20px;">←</td> <td style="border: 1px solid black; border-radius: 50%; padding: 10px; text-align: center;">۵۸۹۱</td> <td style="text-align: center; padding: 0 20px;">→</td> <td style="border: 1px solid black; padding: 10px; text-align: center;">۶۰۰۰</td> </tr> </table>	۵۰۰۰	←	۵۸۹۱	→	۶۰۰۰				
۵۰۰۰	←	۵۸۹۱	→	۶۰۰۰						

<p>جاهای خالی را کامل کنید. ۴۲۵ سانتی متر برابر متر و سانتی متر است.</p>	<p>۱۰- ۳ کیلو متر و ۴۰۰ متر یعنی متر. ۳۷۰۰ گرم یعنی کیلو گرم و گرم.</p>
<p>یک زمین کشاورزی را نصف کردند. در نیمی از آن هویج کاشتند و نیمی دیگر را لیز به ۳ قسمت مساوی کردند و در یک قسمت آن گوجه فرنگی کاشتند. جای خالی را کامل کنید. (راهبرد رسم شکل)</p>	<p>۱۱- قسمت از قسمت مساوی را گوجه فرنگی کاشتند.</p>
	<p>۱۲- برای هر کدام از شکل های زیر یک کسر مناسب بنویسید.</p> 
	<p>۱۳- عدد داده شده روی محور را نشان دهید. ۲ واحد بعد از عدد ۲</p>
<p>$\frac{1}{2} = \frac{2}{4}$</p> 	<p>۱۴- با کامل کردن شکل نشان دهید.</p>
	<p>۱۵- شکل مقابل چند زاویه دارد؟ زاویه های راست آن را مشخص کنید.</p>
	<p>۱۶- با استفاده از محور ضرب زیر را کامل کنید. $3 \times 3 =$</p>
<p>حسن روزی ۳ صفحه قرآن می خواند او پس از ۶ روز چند صفحه از قرآن را خواهد خواند؟</p>	<p>۱۷-</p>
<p>محاسبات زیر را انجام دهید.</p> <p>$9 \times 7 = (5 \times 7) + (4 \times 7) =$</p>	<p>۱۸- $(2 \times 5) + (2 \times 3) =$</p>
<p>با نوشتن یک ضرب حاصل تقسیم های زیر را به دست آورید.</p> <p>$24 \div 3 =$</p>	<p>۱۹- $32 \div 8 =$</p>
<p>کلاس سوم دبستانی ۱۸ دانش آموز دارد. آن ها می خواهند در گروه های ۶ نفره بازی کنند. این دانش آموزان چند گروه را تشکیل خواهند داد؟</p>	<p>۲۰-</p>

گروه آموزشی پایه ی سوم

ابتدایی شهرستان بشرویه