



نام و نام خانوادگی :

بسمه تعالی

تاریخ : ۹۶/۱۲/۰۲

نام درس : تمامی دروس

اداره آموزش و پرورش شهرستان بابل

شماره :

پایه : پنجم

آمادگی و دبستان غیر دولتی هوشمند دخترانه مهرگان

تعداد سوال : ۴۰

طراح سوال : معلمان پنجم

آزمون هفته

*** قرآن و هدیه ***

۱- کدام لقب امام زمان (عج) به معنی « یاری شده » است؟

الف) مهدی ب) منصور ج) ولی عصر د) قائم

۲- در زمان بنی عباس دو تن از زندان بانان به علت به امام ایمان آوردند که این امر موجب خشم بزرگان بنی عباس شد.

الف) هدیه ای که امام به آنها داد - حسن مجتبی (ع) ب) مهربانی و دعایی که امام برای آنها نمود - حضرت مهدی (عج)

ج) هدیه ای که امام به آنها داد - حسن عسگری (ع) د) مهربانی و دعایی که امام برای آنها نمود - حسن عسگری (ع)

۳- مادر حضرت مهدی (عج) نام داشت و امام زمان (عج) به تشبیه شده اند.

الف) حکیمه - خورشید عالم تاب ب) نرجس - خورشید پشت ابر ج) حکیمه - خورشید پشت ابر د) نرجس - خورشید عالم تاب

۴- خداوند در آیهی « وَ لَا تُسْرِفُوا اِنَّهُ لَا يُحِبُّ الْمُسْرِفِينَ » ما را از چه کاری منع کرد؟

الف) صرفه جویی ب) مصرف نکردن ج) کم فروشی د) اسراف

۵- در عبارت قرآنی داده شده حروف ناخوانا و اتصالات را مشخص کنید.

الَّذِينَ آمَنُوا وَعَمِلُوا الصَّالِحَاتِ لَهُمْ جَنَّاتُ النَّعِيمِ

*** مطالعات اجتماعی ***

۶- دو کشور پرجمعیت جهان کدامند؟

الف) روسیه و هند ب) کانادا و چین ج) هند و چین د) ایران و هند

۷- پوشش گیاهی در کدام منطقه فقیر است؟

الف) جنگل های استوایی ب) نواحی بیابانی ج) خط استوا د) نواحی قطبی

۸- کدامیک از جنگ های پیامبر اکرم (ص) نمی باشد؟

الف) اُحُد ب) بدر ج) نهروان د) خندق

۹- چرا مکه در زمان ظهور اسلام مهم ترین شهر عربستان بود؟

۱۰- الف) مبدأ تاریخ مسلمانان چیست؟

ب) جهاد در راه خدا یعنی چه؟

*** علوم ***

۱۱- در کدامیک از وسایل زیر نیرو بین تکیه گاه و جسم قرار دارد؟

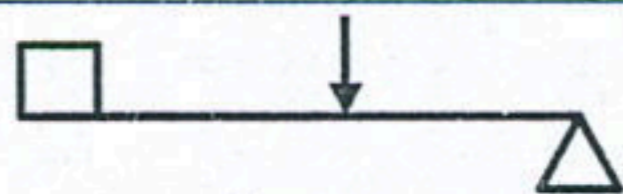
الف) انبردست ب) ترازوی دو کفه ای ج) یخ گیر د) فرغون

۱۲- فندق شکن شبیه کدام اهرم به ما کمک می کند؟

الف) الاکلنگ ب) انبردست ج) منگنه د) فرغون

۱۳- شکل داده شده به کدامیک از وسایل زیر مربوط می شود؟

الف) منگنه ب) فرغون ج) قیچی آهن بری د) کالسکه



۱۴- با رسم شکل بخش های مختلف اهرم را نام ببرید.

۱۵- باتوجه به اهرم بودن قیچی ها، چه فرقی بین قیچی خیاطی و قیچی آهن بری وجود دارد؟ هر کدام از این قیچی ها چه کمکی به ما می کنند؟

***** ادبیات *****

۱۶- باتوجه به عبارت زیر کدام گزینه درست است؟

«سردار لشکری که با تدبیر و مهارت فرمان عقب نشینی می دهد و سپاه خود را از خطر می رهاند شجاع است.»

الف) سردار لشکر: نهاد (ب) خود: مفعول (ج) شجاع: نهاد (د) باتدبیر: مفعول

۱۷- در کدام گزینه تمام واژه ها از نظر ساخت غیرساده هستند؟

الف) نترسیدن - شجاعت - بلکه (ب) برابر - ناملايمات - ایستادگی
ج) حوادث - پایداری - مشکلات (د) خطرها - شعله - صحنه

۱۸- کدام بیت مفعول بیشتری دارد؟

الف) سالیان دراز رهگذران / آن دو را چون دو دوست می دیدند (ب) ریشه هایم ز خاک بیرون است / چند روزی مرا تحمل کن
ج) کاج همسایه گفت با نرمی / دوستی را نمی برم از یاد (د) ابر باران رساند و چندی بعد / ده ما نام یافت کاجستان

۱۹- باتوجه به عبارت زیر کدام گزینه نادرست است؟

«شجاعت اخلاقی آن است که حرف راست و درست بگوییم و در دفاع از آن فداکار و نترس باشیم و اگر به چیزی آگاهی نداریم بگوییم نمی دانیم.»
الف) تمام جمله های به کار رفته خبری هستند. (ب) دو ترکیب وصفی وجود دارد.
ج) ترکیب اضافی وجود ندارد. (د) در عبارت دو مفعول وجود دارد.

۲۰- کدام گزینه از عبارت زیر دریافت نمی شود؟

«آفتاب هنوز فروغ زرین خود را بر کوه و جلگه نتابانده بود که سپاهیان آریوبرزن دریافتند که دشمن از هر سو آنان را محاصره کرده است.»

الف) مفعول (ب) صفت (ج) منادا (د) مضاف الیه

۲۱- باتوجه به بیت زیر معنی کدام واژه به ترتیب نادرست است؟

«خوشا مرز ایران و عنبر نسیم / که خاکش گرامی تر از زر و سیم
هوایش موافق به هر آدمی / زمینش سراسر پُر از خرمی»
الف) چه قدر خوب است. (ب) خوش بو (ج) تقریباً (د) سرسبزی، شادابی

۲۲- در کدام گزینه تمام واژه ها هم خانواده نیستند؟

الف) اعتماد - عمید - معتمد (ب) حاصل - حصول - محصل (ج) مدفن - دفن - مدفون (د) طبیب - مطب - طبیعت

۲۳- در کدام بیت غلط املائی دیده می شود؟

الف) بخندند بر من مهان جهان / از این بچه در آشکار و نهان (ب) بدان جای سیمرغ را لانه بود / که آن خانه از خلق بیگانه بود
ج) همان گه بیابم چو ابر سیاه / بی آزارت آرم بدین جایگاه (د) پدر مهر بُبرید و بفکند خار / جفا کرد بر کودک شیرخوار

۲۴- کدام توضیح درباره ی بیت زیر درست نیست؟

«پرسید از آن چنار که «تو چندساله ای؟» / گفتا: «دویست باشد و اکنون زیادتی است»
الف) بیت از پنج جمله تشکیل شده است. (ب) جمله ی سوم پرسشی است.
ج) جمله ی آخر خبری است. (د) در مصراع دوم مفعول وجود دارد.

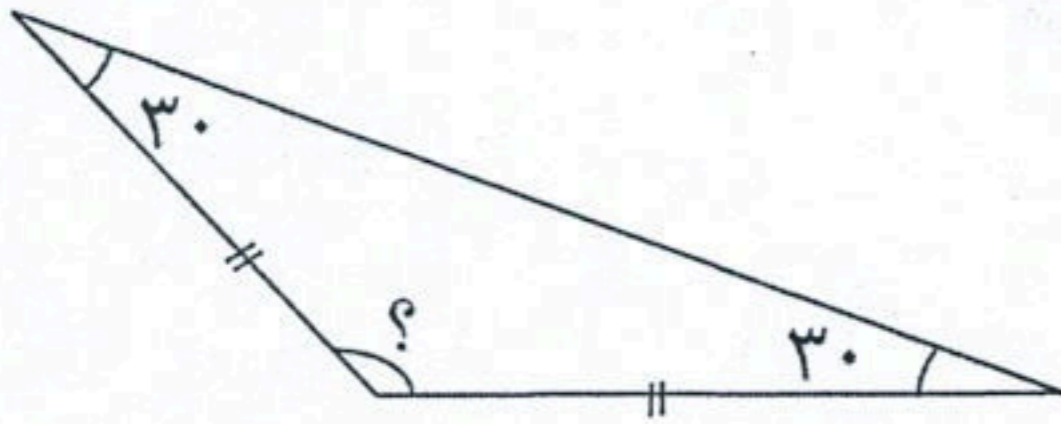
۲۵- عبارت زیر از چند جمله تشکیل شده است؟

«هرکه در این چند خصلت کاهلی بورزد به مقصد نرسد. هرکس از کار و تلاش روی بگرداند نه اسباب آسایش زندگی خود را می تواند فراهم کند و نه می تواند از دیگران مراقبت نماید.»

الف) پنج (ب) شش (ج) چهار (د) هفت

**** ریاضی ****

۲۶- در شکل داده شده اندازه‌ی زاویه‌ی خواسته شده چند درجه است؟



- الف) 80°
- ب) 60°
- ج) 40°
- د) 120°

۲۷- کدامیک از اعداد زیر را می‌توان به جای علامت سوال نوشت؟

- الف) ۸
- ب) $\frac{8}{25}$
- ج) $\frac{1}{5}$
- د) ۹

$7, \frac{7}{25}, \frac{7}{75}, \dots, \frac{9}{5}, \frac{10}{75}$

۲۸- هر چهارضلعی که قطرهایش با هم برابر و بر هم عمود باشند است.

- الف) مربع
- ب) لوزی
- ج) مستطیل
- د) ذوزنقه

۲۹- حاصل عبارت $(\frac{3}{2} - \frac{1}{4}) + (\frac{0}{11} + \frac{0}{3})$ چه عددی می‌شود؟

- الف) $\frac{1}{8}$
- ب) $\frac{1}{94}$
- ج) $\frac{1}{76}$
- د) $\frac{1}{97}$

۳۰- یک زاویه‌ی نیم صفحه را به نسبت ۱، ۲، و ۳ تقسیم کرده‌ایم. کوچکترین زاویه‌ی بدست آمده چند درجه است؟

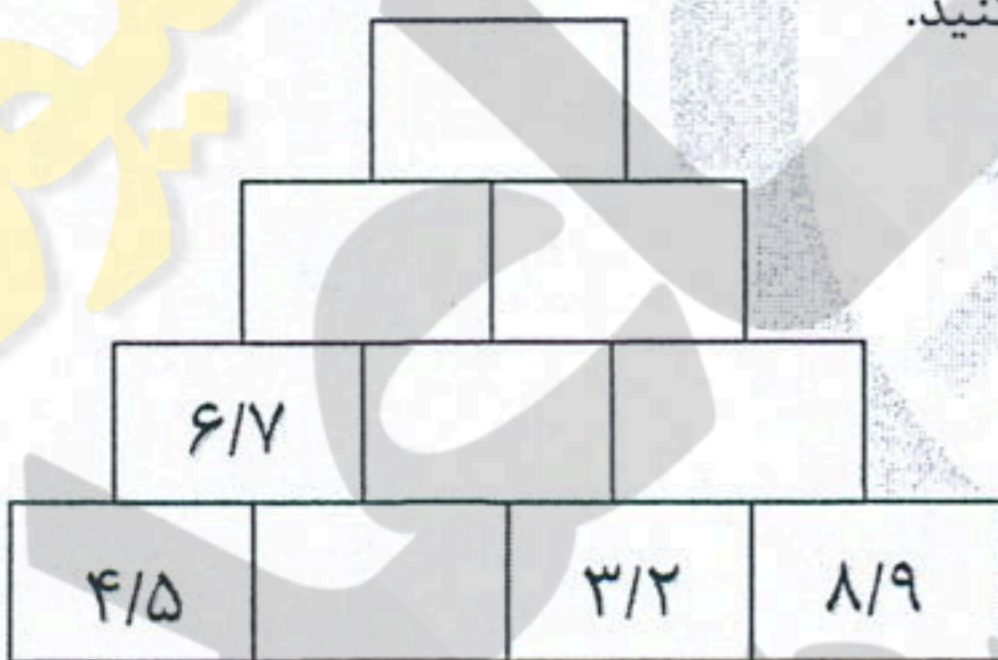
۳۱- حاصل ضرب‌های زیر را بدست آورید.

$500 \times 0.04 =$

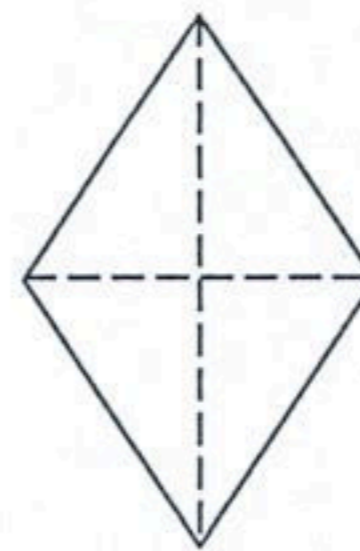
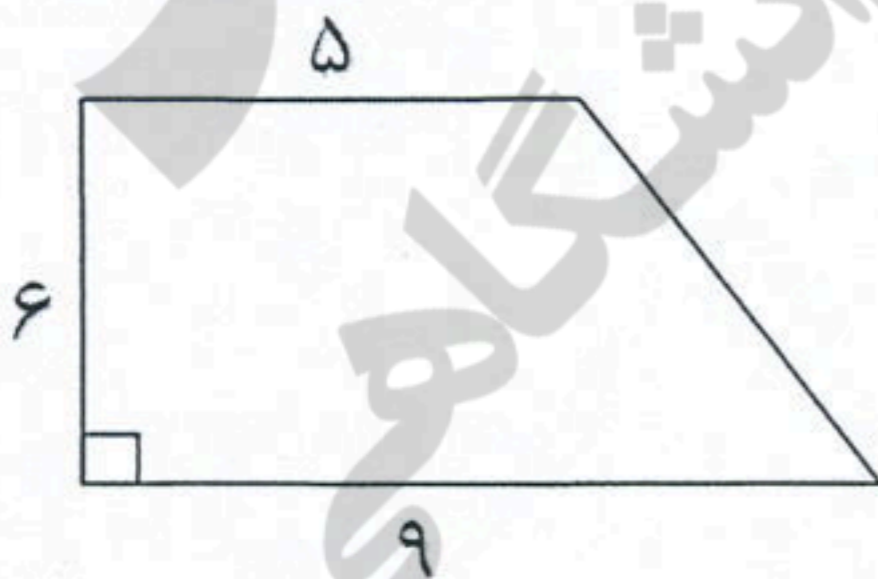
$0.7 \times 300 =$

$\frac{6}{9} \times \frac{0}{78} =$

۳۲- در جدول زیر هر خانه‌ی بالایی، جمع دو خانه‌ی پایینی می‌باشد. جدول را کامل کنید.

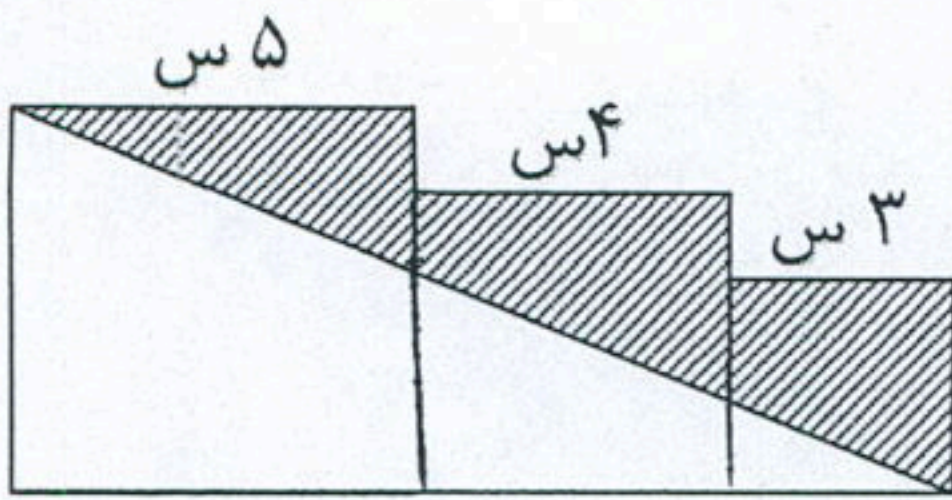


۳۳- مساحت شکل‌های زیر را بدست آورید.



- قطر کوچک = ۸
- قطر بزرگ = ۱۴

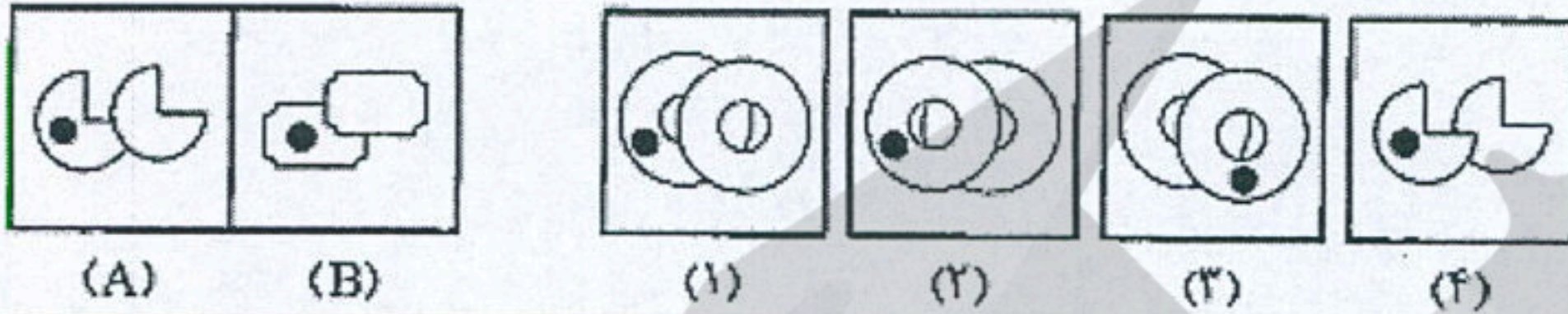
۳۴- مساحت قسمت رنگی شکل زیر را محاسبه کنید.



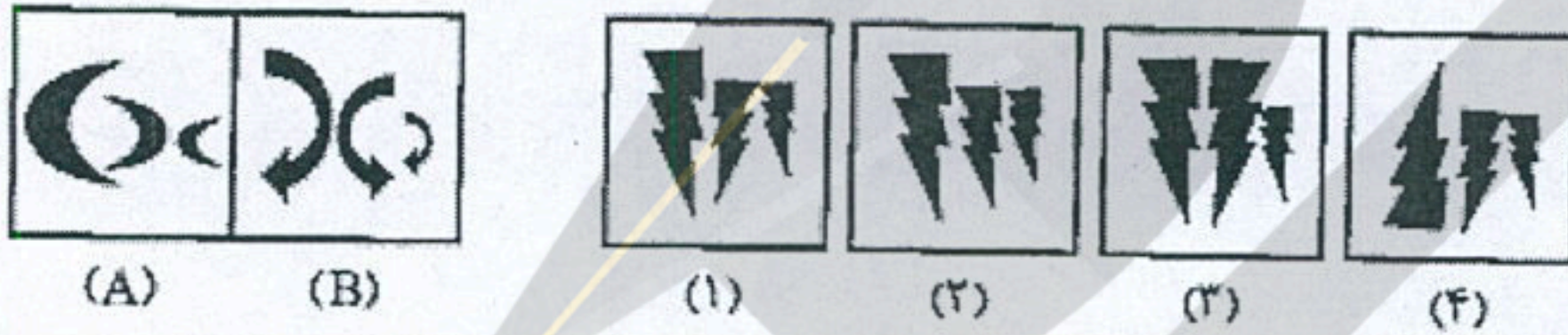
*** استعداد تحلیلی ***

در سوال های ۳۵ و ۳۶ کدام گزینه بیشترین شباهت را به تصویرهای سمت چپ دارد؟

۳۵-

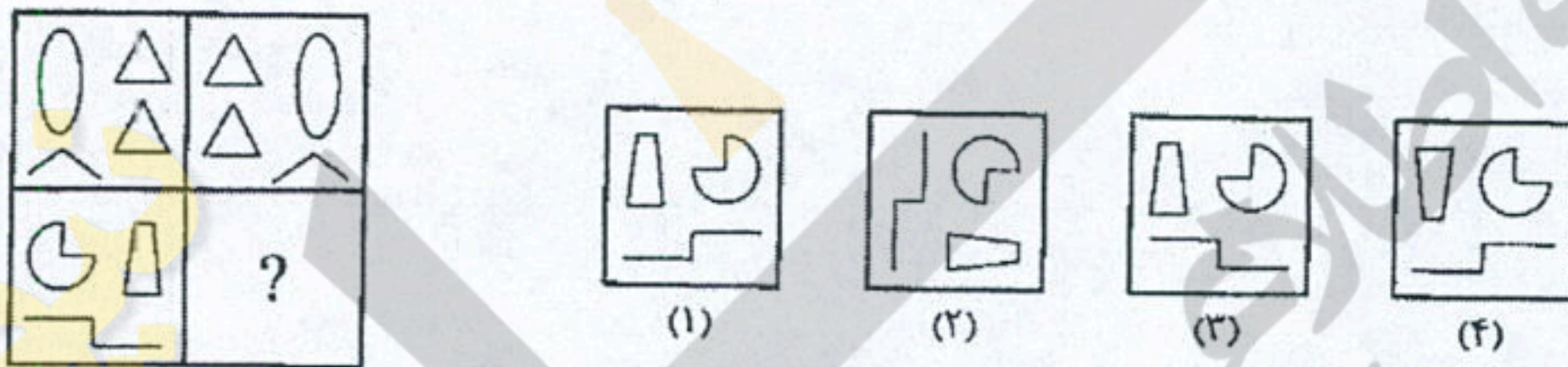


۳۶-

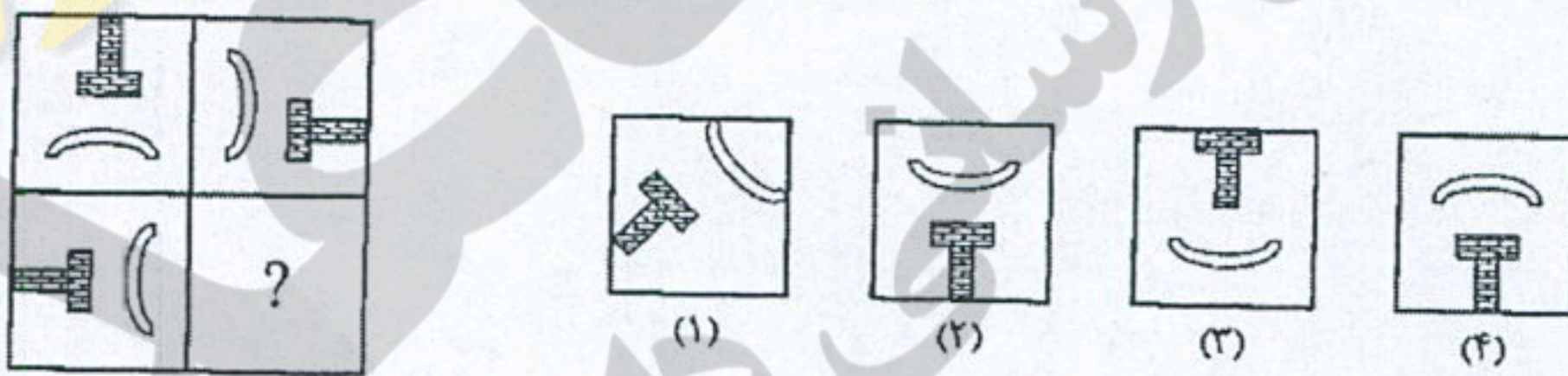


در سوال های ۳۷ تا ۴۰ کدام گزینه جدول را کامل می کند؟

۳۷-



۳۸-



۴۰-

۳۹-

