

نام خانوادگی :


آزمون ریاضی نوبت دی ماه

پایه سوم

۱ عدد  $7523$  را با حروف بنویسید.

پایز شده ی این عدد را بنویسید

۲ برای شکل های زیر خط تقارن رسم کنید؟



۳ عدد های زیر را روی محور نشان بده



$\frac{1}{4}$  واحد بعد از عدد ۳

$\frac{3}{4}$  واحد مانده به عدد ۱

۴ علامت  $< = >$  قرار دهید.  $\frac{3}{5} \circ \frac{1}{5}$

$5320 \circ 1997$   $2 \text{ واحد و } \frac{1}{4} \text{ واحد} \circ 5 \text{ واحد و } \frac{2}{3} \text{ واحد}$

۵ یک مثلث ..... زاویه دارد و یک مستطیل ..... زاویه راست دارد.

۶ جاهای خالی را کامل کن.

الف) عدد ..... یعنی ۳ بیلی، ۴ ده تایی، صفر صد تایی، یک هزار تایی

ب) ۲۷۰۰ گرم یعنی ..... کیلوگرم و ..... گرم


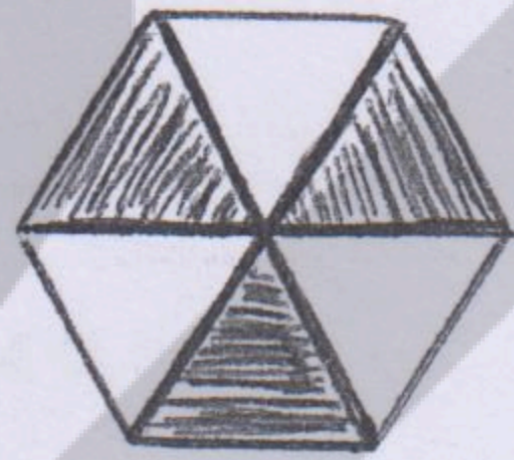
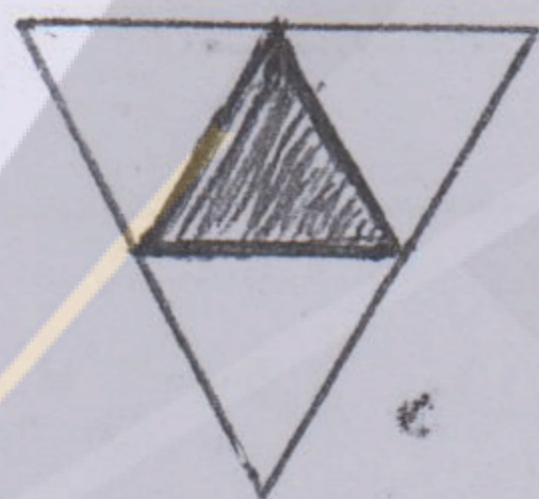
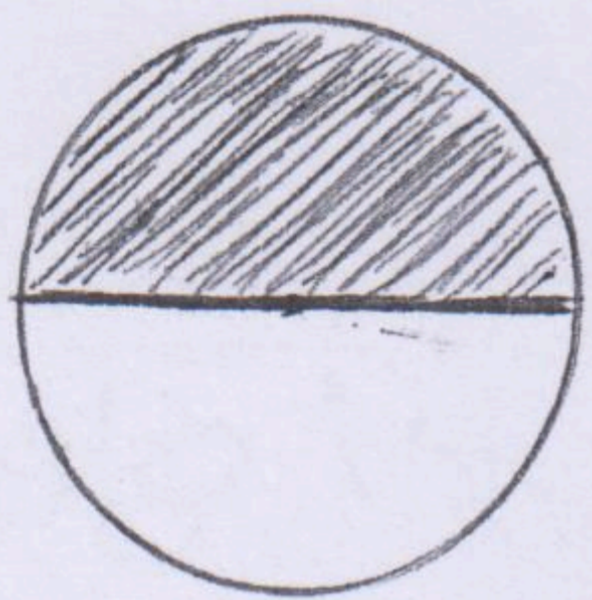
پ) ۳۲۵ سانتی متر یعنی ..... متر و ..... سانتی متر

د) بهترین وسیله برای کشیدن دایره ..... است.

۷ با رشم شکل حاصل جمع و تفریق را به دست آورید.

$$۱۲۳۲ + ۲۱۵۳$$

۸ برای هر شکل یک کسر بنویس.



۹ حاصل ضرب های زیر را بنویس.

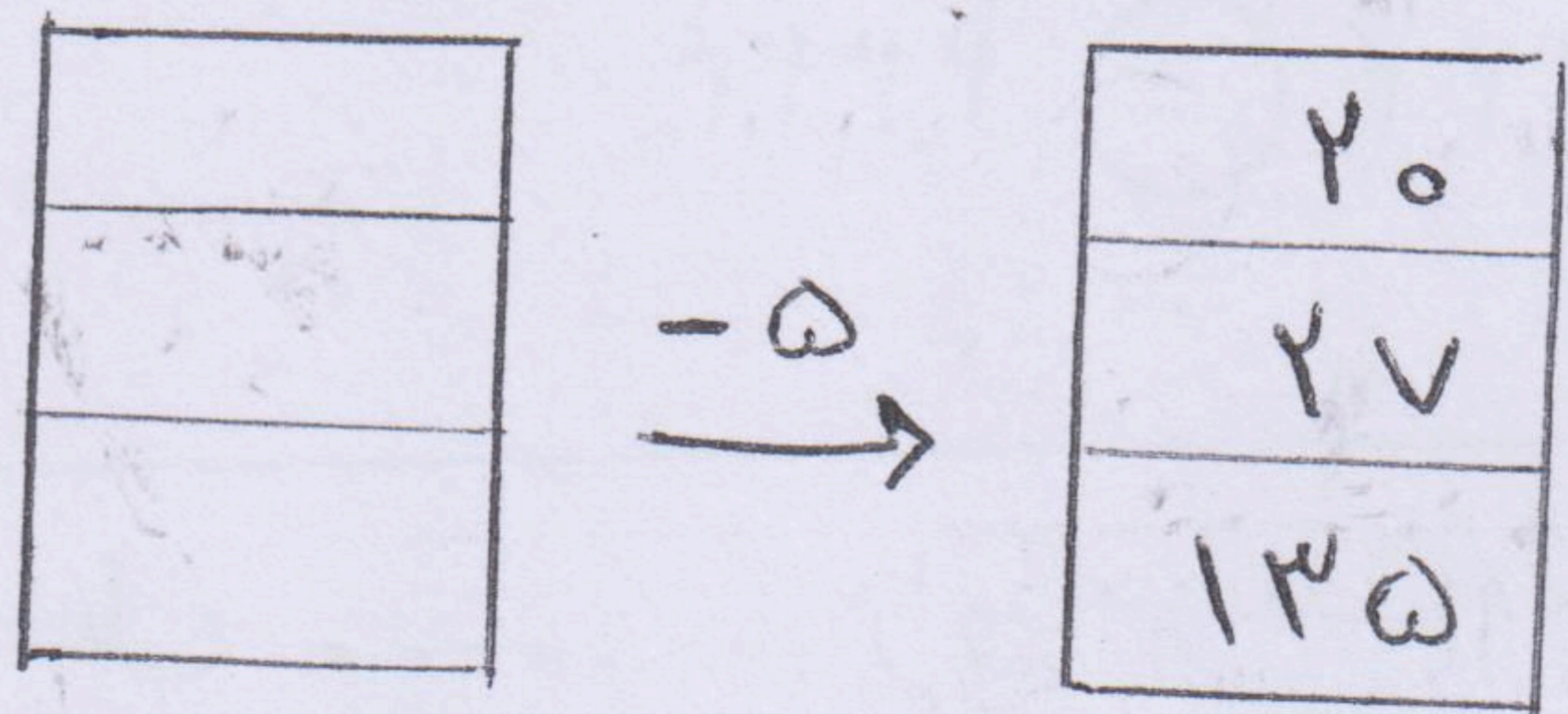
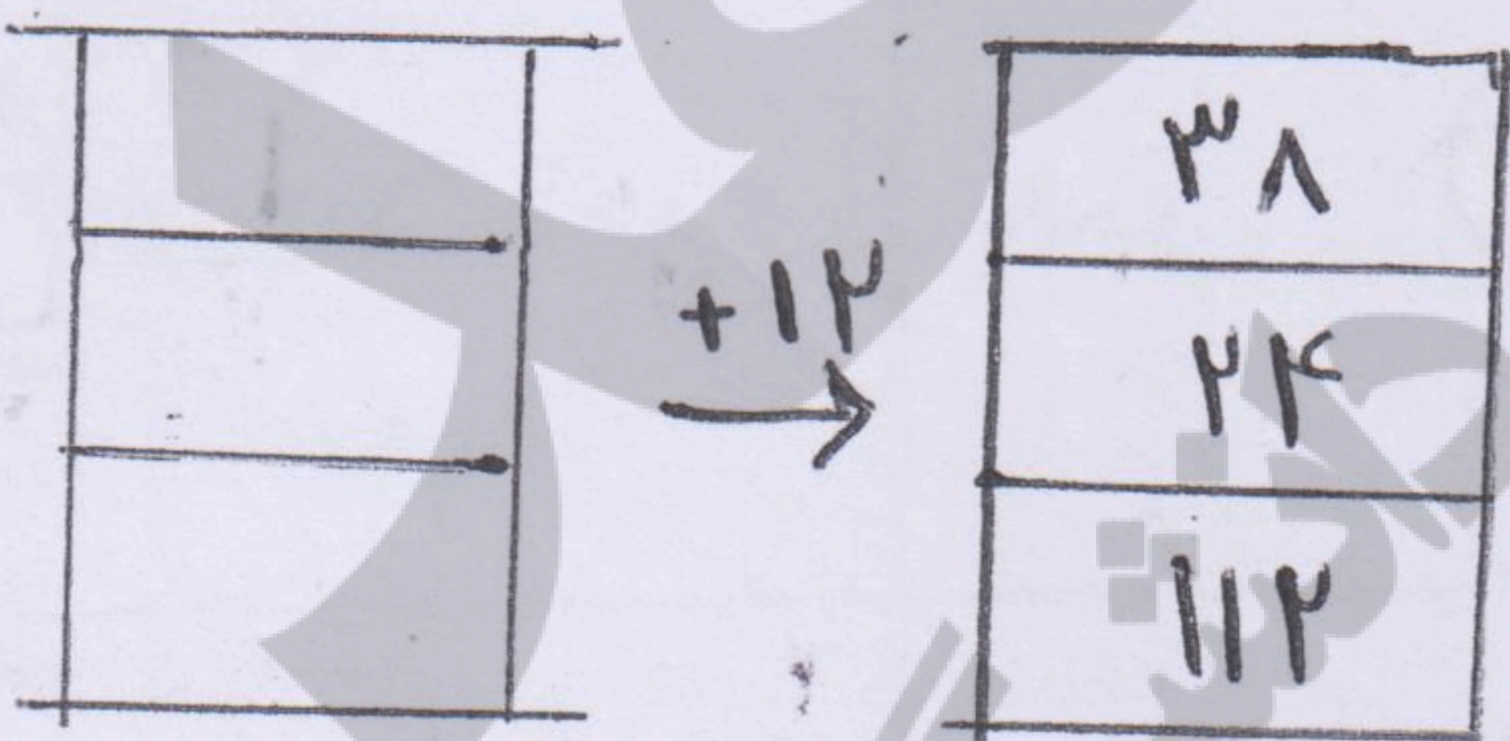
$$۳ \times ۴ =$$

$$۵ \times ۲ =$$

$$۸ \times ۸ =$$

$$۹ \times ۲ =$$

۱۰ با توجه به عددهای خروجی و کاری که ما این انجام می دهیم عددهای ورودی را بنویس.



۱۱ حاصل  $۳ \times ۳ =$  را با روش های مختلف به دست آورید.