




شرح سوالات	ردیف
<p>دور عدد درست خط بکش.</p> 	۱
<p>آلگو را ادامه بده.</p> 	۲
<p>شکل های سمت چپ و راست روی هم چند تا است؟ با یک عدد نشان بده.</p> 	۳

۵ عدد هر دسته را بنویس .

۶ اگر به تعداد شکلها ایستراستاز شکلها ایستچپیر دار یچند تا میماند عدد آنرا بنویس .

۷ جدول شگفت انگیز را کامل کن .

۱	۲		
۴			۱
۲	۱		۳
۳	۴	۱	۲

۲	۱	۴	۳
۳			۲
۱			۴
۴	۳	۲	۱

۸ دور دسته ی بیش تر را خط بکش .

باز خورد آموزگار :

نیاز مند به تلاش بیشتر  
 قابل قبول  
 خوب  
 خیلی خوب