

به نام خدا

اداره ی آموزش و پرورش زواره

وزارت آموزش و پرورش

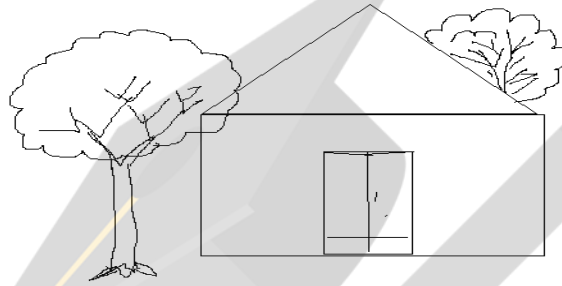
آزمون جامع مدادکاغذی ریاضی

نام و نام خانوادگی :

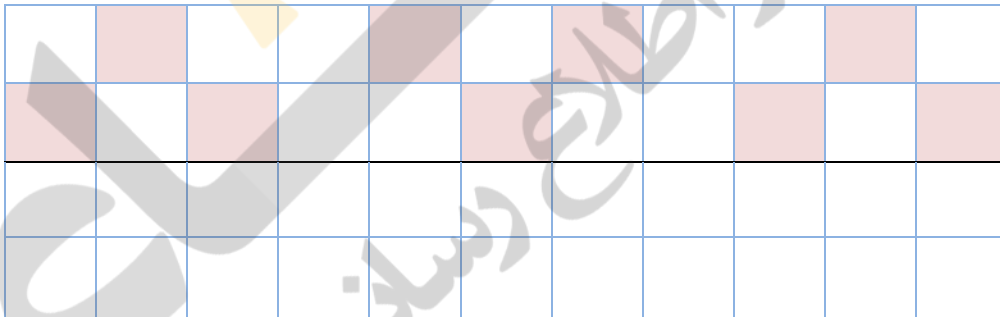
زمان : 45 دقیقه

کلاس : اول دبستان

1--به سوالات با دقت پاسخ دهید: - درست چپ در خانه، یک پنجره بکشید . روی پشت بام یک دود کش بکشید. درخت پشت خانه را رنگ کنید.



2- تقارن شکل ها را کامل کنید .



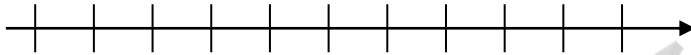
3- الگوها را دامه بدهید.



4- حاصل جمع و تفریق های زیر را با رسم شکل و سپس با کمک محور اعداد به دست آورید .

(محور را شماره گذاری کنید .)

$$4+5=$$



$$9-8=$$



5- بین اعداد زیر یکی از علامت های $<$ $=$ $>$ را قرار دهید .

9 19

47 36

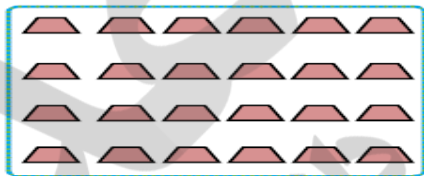
14 17

24 24

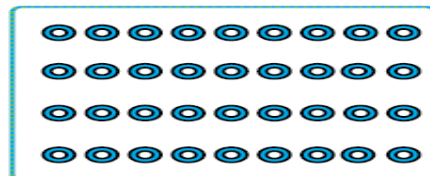
10 9

1 0

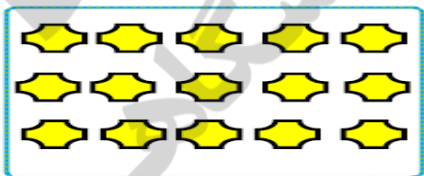
6- دسته های ده تایی درست کنید و سپس قسمت های مربوطه را کامل نمایید .



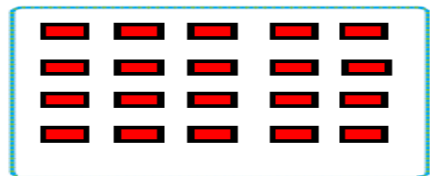
ده تایی	یکی



ده تایی	یکی



ده تایی	یکی



ده تایی	یکی

7- حاصل جمع و تفریق های زیر را به دست آورید .

$$5+5+5+5+5 =$$

$$10+10+10+10+10=$$

$$25+8=$$

$$6+8=$$

$86-24=$

$32+24=$

$12+24+96-85=$

$18+9=$

9- الگو را ادامه دهید . (تا 5 عدد) .


2-4

5-10

4-8

7-14

10- جاهای خالی را کامل کن .



زمان بین ساعت و می باشد.

ساعت از گذشته است.

11- از 47 تا 59 را ادامه دهید .

47-

12- جاهای خالی را با توجه به کلمات داخل پرانتز کامل کن . (سبک تر - سنگین تر - بلند تر - کوتاه تر) .

درخت از گل است .

سیب از هندوانه است .

13- حسین 17 بوته ی گوجه فرنگی داشت 8 تا از آن ها خشک شد چند بوته سالم مانده است ؟ (با رسم شکل)

14- فاطمه 14 شاخه ی گل و دوستش 9 شاخه خریدند . آن ها روی هم چند شاخه گل دارند ؟ (با رسم چوب خط)

تسلط خیلی کم	تسلط کم	تسلط متوسط	تسلط خوب	تسلط کامل	سطوح عملکرد
					ملاک ها و شواهد
					آزمون را با دقت و در زمان مناسب انجام داده است .
					جمع و تفریق ها را درست حل کرده است .
					مساله ها را به درستی انجام داده است .
					جهت یابی و تقارن را به خوبی انجام داده است .
					مفهوم زمان را به خوبی درک کرده است .
					الگویابی هندسی و عددی را درست و کامل انجام داده است .
					عددنویسی و شمارش را کامل انجام داده است .
					مفهوم طول و وزن را به خوبی می داند.
					دسته بندی ده تایی و پر کردن جدول را به درستی انجام داده است .
					مفهوم کمتر، بیش تر و مساوی را در جای مناسب به کار می برد .

خود سنجی : دانش آموز عزیز با توجه به عملکردت در آزمون پاسخ بده.

1 - من یاد گرفتم:

2 - اما یاد نگرفتم:

3- آنچه باید برای یادگیری بهتر انجام دهم:

موفق باشید . داودی