

به نام خدا

نام و نام خانوادگی..... ارزشیابی پیشرفت تحصیلی ریاضی پایه اول ابتدایی تا صفحه ۱۱۹

۱- دسته هایی تعداد شکلهايشان مثل هم است با خط کش به هم وصل کن

۲- به تعداد انگشتها از شکلهای روبرو را رنگ کن.

۳- الگوی صحیح را انتخاب وبه دلخواه رنگ کن:

۴- به تعداد هر شکل خانه های مقابل آن را به دلخواه رنگ کن و در خانه بعدی به تعداد چوب خط

بکش.

○ ○ △ ○ ○ △


۵- الگوها را ادامه بده:

□ ○ □ ○ □ ○








۶- انگشتان دو دست را شمرده و به تعداد آنها چوب خط بکش.

۷- از چینه های سمت چپ به تعداد چوب خط ها خط زن و به تعداد باقیمانده چینه از چینه های سمت راست رنگ


کن.



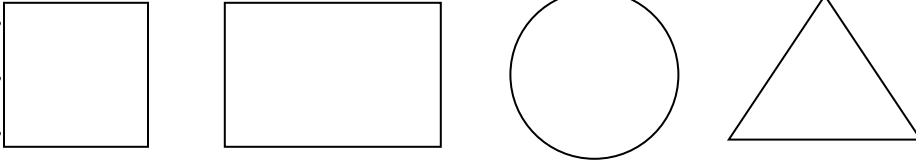
۸- جدول زیر را با اشکال هندسی مناسب کامل کن.


۹- به تعداد اشکال هر دسته در گردی زیر آن چوب خط بکش.



۱۰- با شابلون مشابه هر شکل را زیر آن بکش.



۱۱- شکل‌های سمت چپ و راست با هم چند تا هستند با کشیدن چوب خط نشان بده.



۱۲- انگشتان یک دست را باز کن و به تعداد شکلها از انگشتان خود را ببند و به تعداد انگشتان باقیمانده

چوب خط

بکش.

