



نام:

نام خانوادگی:


نام آموزگار:

۱

۶ کیلوگرم و ۵۲۰ گرم یعنی گرم
جرم ۵ بسته لوبیا ۸۰۰ گرم و چند کیلوگرم است؟

۲

با توجه به شکل ها، برای هر کدام یک کسر بنویسید.



۳

عدد های زیر را با هم مقایسه کنید.

۳ هزار متر ○ یک کیلو متر
۳ واحد و $\frac{۲}{۵}$ واحد ○ ۲ واحد و $\frac{۹}{۱۰}$ واحد

۴

شکل مربع چند زاویه دارد؟ ○ زاویه
زاویه ی راست آن را مشخص کنید.



۵

حاصل ضرب ها را به گت جمع پیدا کنید.

$۴ \times ۳ =$ $۵ \times ۷ =$ $۴ \times ۹ =$

۶

ضرب و تقسیم را روی محور نشان دهید.



$۵ \times ۲ = \bigcirc$

$۱۰ \div ۲ = \square$

۷

ضرب های زیر را انجام دهید.

$۵ \times ۹ = \bigcirc$ $۴ \times ۶ = \bigcirc$ $۶ \times ۷ = \bigcirc$
 $۸ \times ۵ = \square$ $۷ \times ۹ = \square$ $۳ \times ۹ = \square$

۸

یک جعبه ی مداد رنگی ۱۲ تایی و ۴ جعبه ی ۶ تایی روی هم چند مداد می شود؟

۹


امیر قنا روزی ۴ صفحه قرآن می خواند پس از ۷ روز چند صفحه قرآن خوانده است؟

۱۰

مادر علی خیاض می کند او به هر پیراهن ۶ دکمه می دوزد. ۲۴ دکمه را به چند پیراهن می دوزد؟

۱۱

هر شکل را دستم بنویس کنید و برای آن یک ضرب و دو تقسیم بنویسید.



۱۲

حاصل عبارتهای زیر را بدست آورید.

$(4 \times 7) - (3 \times 9) = \dots = \dots$ $(2+7) \times (1-2) = \dots \times \dots = \dots$

۱۳

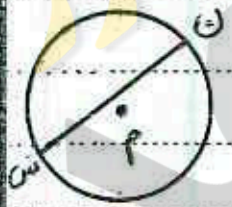
عربیها ۴ بسته می ۶ تایی آب نبات زرد و ۵ بسته می ۷ تایی آب نبات سبز در ظرف گذاشته بود. چند آب نبات در ظرف بود.

۱۴

عددی را به ۷ اضافه می کنیم. از حاصل ۷ تا کم می کنیم چه عددی بدست می آید؟ چرا؟ با مثال.

۱۵

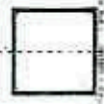
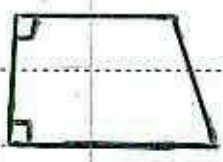
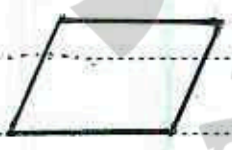
کدام یک از جمله های زیر درست نیست؟



- ۱- شعاع دایره ۵ نصف قطر آن است.
- ۲- شعاع دایره ۲ قطر دایره ۲ برابر شعاع آن است.
- ۳- دایره بی نهایت قطر دارد.
- ۴- پاره خط (ن م) در شکل رو برو قطر دایره است.

۱۶

کدام شکل خط موازی ندارد؟



۱۴

۱۳

۱۷

۱

۱۷

بهترین وسیله برای کشیدن دایره چیست؟

۱۸

پرتکار به اندازه دایره بازمی شود.

۱۹

بین قطر و شعاع دایره چه رابطه ای وجود دارد؟

۲۰

برای تشخیص زاویه راست از چه وسیله ای استفاده می شود؟

۲۱

مربع و مثلث و مستطیل روی هم چند زاویه راست دارند؟

