



وزارت آموزش و پرورش

جمهوری اسلامی ایران

اداره کل آموزش و پرورش استان بوشهر

دفترچه سوالات

آزمون ورودی پایه دهم دبیرستانهای

نمونه دولتی

دوره اول متوسطه

سال تحصیلی ۹۶-۹۵

تاریخ آزمون: ۹۵/۳/۲۸

زمان پاسخگویی: ۱۰۰ دقیقه

تعداد سوالات: ۸۰ سوال

تأ شماره	از شماره	تعداد سوال	ضریب	مواد امتحانی
۱۰	۱	۱۰	۲	قرآن و هدیه های آسمانی
۳۰	۱۱	۲۰	۲	فارسی (مهارت خواندن و نوشتن)
۴۰	۳۱	۱۰	۱	مطالعات اجتماعی
۶۰	۴۱	۲۰	۲	علوم تجربی
۸۰	۶۱	۲۰	۳	ریاضیات

نام خانوادگی: _____ شماره داوطلب: _____ نام: _____

✓ تذکر: برای هر پاسخ غلط، $\frac{۱}{۳}$ نمره منفی منظور می گردد.

قرآن و هدیه های آسمان

۱- کلمه ی « مَهِینَا » هنگام وقف چگونه خوانده می شود؟

(۴) مَهِینَا

(۳) مَهِینَتَا

(۲) مَهِینِن

(۱) مَهِین

۲- آیه ی زیر با کدام یک از تصاویر در ارتباط است؟

« وَفِي أَنْفُسِكُمْ أَفَلَا تُبْصِرُونَ »



(۴)



(۳)



(۲)



(۱)

۳- کدام یک از عبارات های زیر، حروف ناخوانای بیشتری دارد؟

(۲) يَوْمَ تَنْهَى الْمُؤْمِنِينَ وَالْمُؤْمِنَاتِ يَسْعَى

(۱) قُبَايَءِ الْآءِ رَبِّكُمْا تَكْذَبَانِ

(۴) فَاعْتَبِرُوا يَا أُولِيَ الْأَبْصَارِ

(۳) لَيْلًا يَعْلَمُ أَهْلُ الْكِتَابِ أَلَّا يَقْدِرُونَ عَلَى شَيْءٍ

۴- شعار (تا خون در رگ ماست خمینی رهبر ماست) اشاره به کدام یک از وظایف دینی ما مسلمانان دارد؟

(۴) نهی از منکر

(۳) تولی

(۲) تبری

(۱) اتحاد

۵- کدام یک از گزینه های زیر صحیح می باشد؟

(۱) روزه داری که قبل از ظهر مسافرت کند، روزه اش صحیح است .

(۲) اگر مسافری بعد از ظهر به محل سکونتش برسد ، روزه اش درست است .

(۳) مسافری که نماز چهار رکعتی را شکسته می خواند ، نمی تواند روزه بگیرد .

(۴) مسافری که از محل سکونتش بیش از ۲۲ کیلومتر فاصله دارد ، باید نمازش را کامل بخواند .

۶- عبارت شریف « قُلْ لِلْمُؤْمِنِينَ يَغُضُّوا مِنْ أَبْصَارِهِمْ ... » به کدام یک از موارد زیر اشاره می کند؟

(۲) معرفی افراد محرم و نامحرم

(۱) پوشیدن لباس مناسب

(۴) کنترل کردن نگاه

(۳) پوشاندن مو و بدن

۷- عبارت « قَوْلُهُ خِدْمَتِكَ جَوَارِحِي » با کدام یک از ابیات زیر تناسب بیشتری دارد؟

به نیروی تو یک به یک زنده ایم

(۱) خداوند مایی و ما بنده ایم

کردار نکو کن ، که نه سودی ست ز گفتار

(۲) به گفته ی ناکرده و بیپوده چه حاصل

بگرفتن دست ناتوان است

(۳) شکرانه ی بازوی توانا

ز سستی گژی زاید و کاستی

(۴) ز نیرو بود مرد را راستی

۸- کدام یک از گزینه های زیر درست است؟

(۱) زندگی انسان با مرگ پایان می پذیرد .

(۲) حضرت معصومه (س) دختر امام رضا (ع) است .

(۳) برای حفظ سلامتی فقط باید ورزش کرد .

(۴) کسی که به قیامت ایمان دارد به راحتی حاضر نیست دروغ بگوید .

۹- طبق سخن پیامبر اکرم (ص) احترام گذاشتن به چه کسانی برابر با احترام گذاشتن به خداوند است؟

- (۱) سالمندان (۲) پدر و مادر (۳) معلم (۴) همسایه

۱۰- در عبارت قرآنی «وَجُوهٌ يُؤْمِنُذِ نَافِرَةٍ؛ إِلَى رَبِّهَا نَظِيرَةٌ» به کدام اصل دین اشاره دارد؟

- (۱) تبتوت (۲) معاد (۳) توحید (۴) عدل

----- فارسی (مهارت های خواندن و نوشتن) -----
۱۱- کدام یک از گزینه ها در متن زیر وجود ندارد؟

« پیرزن گفت: «زیر درخت را نگاه کن، بچه ها را می بینی؟...»

- (۱) جمله پرسشی (۲) جمله عاطفی (۳) جمله خبری (۴) جمله امری
۱۲- هم خانواده ی کلمات «خطر- عهد» به ترتیب کدام گزینه است؟
(۱) خطیر- متحد (۲) خاطر- عهده (۳) خطیر- تعهد (۴) خاطره- اتحاد
۱۳- در بیت زیر چند جمله وجود دارد؟

«فارسی را پاس می داریم، زیرا گفته اند قدر زر، زرگر شناسد، قدر گوهر گوهری»
(۱) سه (۲) دو (۳) پنج (۴) چهار

۱۴- کدام گزینه با ضرب المثل «هر که بامش بیش، برفش بیشتر» هم مفهوم است؟

- (۱) داشتن مسئولیت زیاد، تلاش زیاد می خواهد. (۲) برای برف زیاد باید بیشتر پارو کنیم.
(۳) کار نیکو کردن از پر کردن است. (۴) کاری بزرگ را به آسانی انجام دادن.

۱۵- در بیت زیر کدام یک از آرایه های ادبی به کار رفته است؟

«خروشید و جوشید و برکند خاک ز ستمش زمین شد چاک چاک»
(۱) مناظره (۲) تشبیه (۳) مبالغه (۴) کنایه

۱۶- در درس «اخلاق پسندیده»، بخش «زیان های زبان» بر گرفته از کدام کتاب است؟

- (۱) لطائف المواقف - ملا ادهم عزلتی خلخالی (۲) اخلاق ناصری - خواجه نصیر توسی
(۳) کیمیای سعادت - امام محمد غزالی (۴) فتوت نامه ی سلطانی - واعظ کاشفی
۱۷- مفهوم کلی بیت «به دست آهن تفته کردن خمیر

(۱) از دسترنج خود استفاده کردن (۲) کارهای سخت انجام دادن

(۳) پیش پادشاه زندگی کردن (۴) با آهن کار کردن

۱۸- با توجه به نوشته ی زیر کدام گزینه صحیح است؟

«هر کلمه یا واژه پاره ای از پیکر زبان است و شامل می شود.»

(۱) تلفظ - معنی - اشاره (۲) تلفظ - اشاره - شکل نوشتن

(۳) اشاره - تلفظ - آوا و صدا (۴) تلفظ - معنی - شکل نوشتن

۲۶- در مصراع « خندید پرو شعله، که از دست که نالی؟ » نهاد کدام است؟

- (۱) که از دست که نالی؟ (۲) شعله (۳) خندید (۴) نالی

۲۷- کدام گزینه با گزینه های دیگر تفاوت دارد؟

- (۱) اسرار (۲) اعمال (۳) اخبار (۴) انبار

۲۸- در کدام گزینه، هیچ آرایه ی ادبی دیده نمی شود؟

- (۱) آن قصه شنیدید که در باغ، یکی روز
(۲) گشته ام در جهان و آخر کار
(۳) بی یادتو نیست، هیچ مرغی
(۴) سر و گوش بگرفت و یالش دلیر

۲۹- املاي کدام گروه به طور کامل درست است؟

- (۱) لحظات، شغل، مفصل، هجره
(۲) شغل، حجره، لحظات، مفصل
(۳) شغل، حجره، لحظات، مفصل
(۴) شغل، حجره، لحظات، مفصل

۳۰- معنی واژه های مشخص شده به ترتیب در کدام گزینه آمده است؟

- دهقان چو تنور خود از هیمه برافروخت
آن شاخ که سر برکشد و میوه نیارد
(۱) هیزم، الان، شایسته
(۲) هیزم، شایسته، پایان
(۳) هیزم، پایان، شایسته
(۴) هیزم، شایسته، پایان، هیزم

مطالعات اجتماعی

۳۱- در مسائل، مشکلات زندگی و تصمیم گیری های مهم خودمان، کدام یک از افراد زیر، برای مشورت مناسب نیستند؟

- (۱) معلم (۲) دوستان نزدیک (۳) پدر و مادر (۴) مشاور

۳۲- یکی از بزرگ ترین کتابخانه های دوره ی اسلامی که ابن سینا سال ها در آن جا مشغول تحقیق و مطالعه بود، در چه دوره ای و در کدام شهر قرار دارد؟

- (۱) ساسانیان - نیشابور (۲) سامانیان - نیشابور (۳) ساسانیان - بخارا (۴) سامانیان - بخارا

۳۳- توضیحی که در زیر می خوانید درباره معرفی کدام شهر است؟

این بندر در محل برخورد رود کارون و اروندرود قرار دارد و نزدیک ترین شهر به آن، شهر آبادان است.

محمد جهان آرا فرمانده سپاه پاسداران در این شهر با یارانش شجاعانه در کنار مردم با نیروهای متجاوز عراقی جنگیدند. در عملیات بیت المقدس این شهر از تصرف ارتش متجاوز صدام آزاد شد.

- (۱) دزفول (۲) خرمشهر (۳) اهواز (۴) سوسنگرد

۳۴- ده کیلوگرم اورانیوم معادل سوختن چند بشکه نفت انرژی تولید می کند؟

- (۱) ۱۲۰۰۰ بشکه (۲) ۱۴۰۰۰ بشکه (۳) ۱۲۰۰۰۰ بشکه (۴) ۱۴۰۰۰۰ بشکه

۳۵- خرما، سیب زمینی، برنج به ترتیب در چه آب و هوایی رشد می کنند؟

- (۱) گرمسیری، سرد سیری، معتدل و مرطوب
 (۲) معتدل و مرطوب، سرد سیری، گرمسیری
 (۳) گرمسیری، گرم و خشک، معتدل
 (۴) معتدل و مرطوب، گرم و خشک، گرمسیری

۳۶- درآمد حکومت و مخارج شاهان و درباریان صفوی از کجا تأمین می شد؟

- (۱) صادرات ابریشم و پارچه های زر بافت و سنگ های قیمتی
 (۲) مالیات هایی که از ولایات می گرفتند.
 (۳) تجارت از طریق خشکی و دریا
 (۴) صادرات نفت و گاز

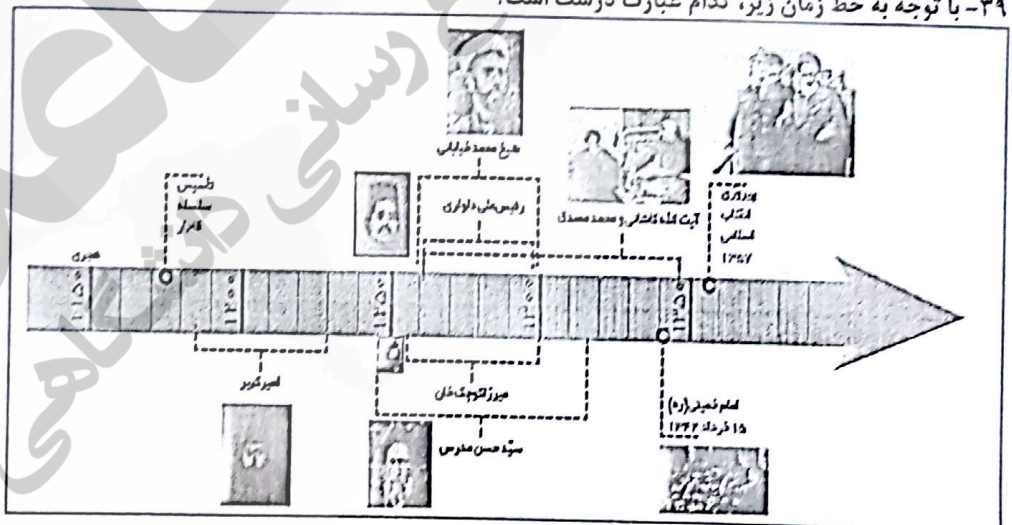
۳۷- در خصوص آغاز استعمارگری اروپاییان کدام گزینه درست است؟

- (۱) مهارت دریانوردی اروپاییان با استفاده از نقشه های جغرافیدانان مسلمان و قطب نما و کشتی سازی آنها
 (۲) پیشگامی پرتغالی ها و فرانسوی ها در کشف سرزمین های جدید
 (۳) رشد شهر، شهرنشینی و تجارت اروپاییان
 (۴) اختراع دستگاه چاپ و تلسکوپ

۳۸- در اطراف کدام یک از بنادر ایران کارخانه های کشتی سازی و لنج سازی قرار گرفته است؟

- (۱) بندرعباس - نکا - نوشهر - چابهار
 (۲) گواتر - نکا - امام خمینی - بوشهر
 (۳) بوشهر - نکا - چابهار - بندعباس - نوشهر
 (۴) بندرعباس - نکا - بوشهر - چابهار

۳۹- با توجه به خط زمان زیر، کدام عبارت درست است؟



- (۱) مجلس شورای ملی در نیمه اول قرن ۱۴ قانون ملی شدن نفت را تصویب کرد.
 (۲) پایان عصر مبارزه ی امیرکبیر با استعمارگران روس و انگلیس در اواخر نیمه ی دوم قرن ۱۲ اتفاق افتاد.
 (۳) پیروزی انقلاب اسلامی در اواخر نیمه اول قرن ۱۴ به ثمر نشست.
 (۴) کوچک خان جنگلی در گیلان قیام کرد اما سرانجام در اوایل نیمه اول قرن ۱۲ به شهادت رسید.

۴۰- کدام گزینه توضیح درست تری از دریا‌های ایران ارائه می دهد؟

- ۱) دریای خزر در طول تاریخ نام های گوناگونی مانند دریای گیلان، مازندران، قزوین، گرگان و سرخ داشته است.
- ۲) عمق دریای خزر در نواحی جنوبی نزدیک به ایران به بیش از ۱۰۰۰ متر می رسد، اما در نواحی شمالی آن به کمتر از ۱۰۰ متر می رسد.
- ۳) خلیج فارس پیشروی آب دریای عمان و اقیانوس هند در خشکی های ایران و عربستان است. ساحل خلیج فارس از دهانه ی اروندرود تا بندرعباس امتداد یافته است.
- ۴) ساحل دریای عمان به سمت اقیانوس بیش تر می شود. ساحل دریای عمان از بندرعباس تا بندر چابهار امتداد دارد.

----- علوم تجربی -----

۴۱- با توجه به تعریف مشاهده در روش علمی ، کدام جمله مشاهده نیست؟

- ۱) هوا سرد است، احساس سرما می کنم.
 - ۲) امروز هوا صاف و آفتابی است.
 - ۳) این گل چه عطر دل انگیزی دارد.
 - ۴) هوای ابری مرا آزرده خاطر می کند.
- ۴۲- مهم ترین ماده ای که کاغذ را برای ساخت لیوان و شیرهای پاکتی مناسب ساخته ، کدام است ؟
- ۱) گچ
 - ۲) نشاسته
 - ۳) پلاستیک
 - ۴) رنگ

۴۳- در کدام مورد ، نوع تغییر به وجود آمده با بقیه متفاوت است؟

- ۱) تولید کاغذ های رنگی از خمیر کاغذ
- ۲) اضافه کردن کلر به خمیر چوب
- ۳) نرم کردن و خمیر کردن چوب
- ۴) ترکیب پر منگنات پتاسیم و آب اکسیژنه

۴۴- کاغذهای پی اچ را به مقداری از مواد مختلف آغشته کرده ایم . ماده ی اول کاغذ پی اچ را نارنجی ، ماده ی دوم کاغذ پی اچ را قرمز و ماده ی سوم کاغذ پی اچ را نارنجی کم رنگ کرد . این سه ماده احتمالاً به ترتیب کدامند ؟

- ۱) پرتقال ، سرکه ، لیمو ترش
- ۲) کیوی ، سرکه ، لیمو ترش
- ۳) انگور ، پرتقال ، کیوی
- ۴) سرکه ، لیمو ترش ، کیوی

۴۵- سرعت امواج لرزه ای هنگام خروج از کدام لایه ، سریع تر است؟

- ۱) خمیر کره
- ۲) هسته داخلی
- ۳) گوشته ی زیرین
- ۴) قسمت زیرین سنگ کره

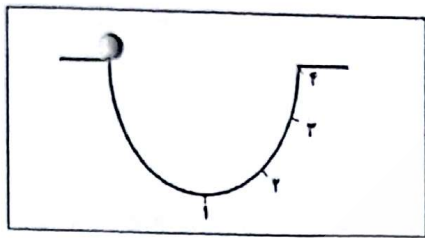
۴۶- سیمان گیر بودن، از ویژگی های کدام ماده ی آتش فشانی است؟

- ۱) پوکه معدنی
- ۲) سنگ پا
- ۳) توف
- ۴) خاکستر

۴۷- در کدام گزینه نیرو به صورت کشیدن و هل دادن اعمال می شود ؟

- ۱) هم زدن چای
- ۲) روشن کردن کلید برق
- ۳) پوشیدن جوراب
- ۴) بازکردن کشوی میز

۴۸- در شکل مقابل اگر از نیروی اصطکاک صرفه نظر شود و جسم را رها کنیم، کدام اتفاق برای جسم رخ خواهد داد؟



(۱) نیرویی مانع حرکت جسم نخواهد بود.

(۲) جسم تا جایی بین شماره‌های ۳ و ۴ بالا خواهد آمد.

(۳) بدون نیروی اصطکاک جسم حرکت نخواهد کرد.

(۴) جسم به بالای سطح (نقطه ۴) صعود خواهد کرد.

۴۹- در کدام مورد، نیرو به صورت تماسی ظاهر می‌شود؟

(۱) نزدیک کردن دو آهن ربا به هم

(۲) برگ ریزان در پاییز

(۳) بالا رفتن هواپیما

(۴) استفاده از قطب نما

۵۰- امین به یک اتومبیل نیرو وارد می‌کند ولی اتومبیل حرکت نمی‌کند، نیرویی که اتومبیل بر امین وارد می‌کند چقدر است؟

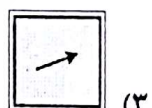
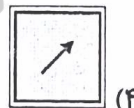
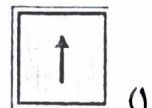
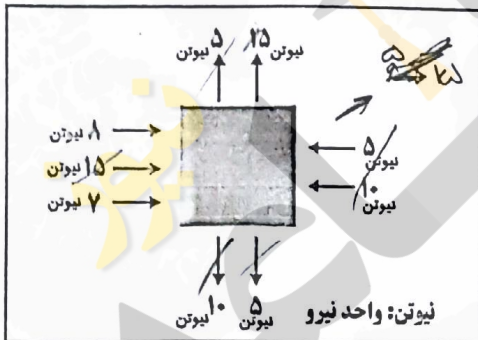
(۱) کم‌تر از نیروی امین

(۲) به اندازه‌ی نیروی امین

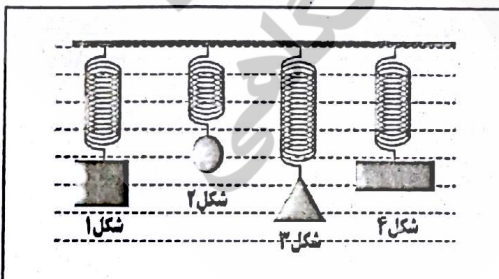
(۳) بیشتر از نیروی امین

(۴) نیرویی وارد نمی‌کند (صفر)

۵۱- با توجه به شکل، کدام گزینه جهت حرکت جسم را بهتر نشان می‌دهد؟



۵۲- مطابق شکل داده شده، چند جسم با جرم‌های یکسان را به وسیله‌ی فنر آویخته‌ایم. کدام جمله صحیح می‌باشد؟



(۱) شکل اجسام در مقدار کشیدگی فنر مؤثر است.

(۲) فنر شماره ۲ از بقیه‌ی فنرها قوی‌تر است.

(۳) نیروی جاذبه، اثر بیشتری بر جسم شماره ۳ گذاشته است.

(۴) شکل نشان می‌دهد که نیروی گرانش زمین بر این اجسام یکسان است.

۵۳- از کدام قطعه، نمی‌توان برای انتقال نیرو به قسمت متحرک وسایل گوناگون استفاده کرد؟

(۴) زنجیر

(۳) پروانه


(۲) تسمه

(۱) چرخ‌کننده

۵۴- در کدام گزینه تبدیل های انرژی بطور همزمان اتفاق می افتند؟

- (۱) استفاده از تیر و کمان (۲) استفاده از تلفن همراه (۳) افتادن سیب از درخت (۴) پرتاب وزنه

۵۵- شکل داده شده مربوط به کدام سلول است ؟



- (۱) سلول درونی دهان (۲) مخمر نانوايي (۳) جلبک رشته ای (۴) چوب پنبه

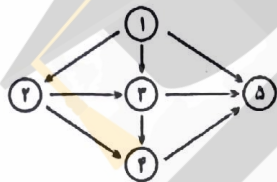
۵۶- کدام جمله ی زیر مفهوم عبارت "پیشگیری بهتر از درمان است" را می رساند؟

- (۱) پر کردن دندان (۲) استفاده از بتادین (۳) استفاده از قطره ی فلج اطفال (۴) استفاده از شامپوی ضد شوره

۵۷- میوه ، دانه و ساقه ی نشاسته دار به ترتیب کدامند ؟

- (۱) خربزه ، گنجد ، نیشکر (۲) کدو ، بادام زمینی ، کرفس (۳) گلابی ، ذرت ، بادام زمینی (۴) سیب درختی ، جو ، سیب زمینی

۵۸- با توجه به شبکه ی غذایی مقابل جایگاه عنکبوت کدام است ؟



- (۱) ۵ (۲) ۲ (۳) ۳ (۴) ۴

۵۹- گیاهان دارای برگ شکارچی در کجای زنجیره ی غذایی قرار می گیرند ؟

- (۱) مصرف کننده دوم (۲) تولید کننده (۳) مصرف کننده ی اول (۴) تولید کننده و مصرف کننده

۶۰- کدام گزینه از ضررهای وسایل ارتباط شخصی امروزی می باشد ؟

- (۱) برقراری ارتباط سریع بین مردم دنیا (۲) بدست آوردن اطلاعات مورد نیاز در پژوهش (۳) استفاده فراوان از شبکه های اجتماعی و مجازی (۴) استفاده از خدمات بانکی و خرید و فروش های الکترونیکی

----- ریاضیات -----

۶۱- در یک مثلث متساوی الساقین ، اندازه ی یکی از زاویه ها ۲۰ درجه است . بزرگ ترین مقدار ممکن برای یک زاویه ی دیگر این مثلث چند درجه است ؟

- (۱) ۸۰ (۲) ۹۰ (۳) ۱۰۰ (۴) ۱۴۰

۶۲- بین $+4$ و -7 چند عدد صحیح وجود دارد ؟

- (۱) ۱۱ عدد (۲) ۱۲ عدد (۳) ۱۰ عدد (۴) ۹ عدد

۷۳- نسبت تعداد لیوان های پر به خالی بر روی میز ۸ به ۵ می باشد. پس از خالی شدن ۱۸ لیوان پر، تعداد لیوان های خالی و پر مساوی می شود، چند لیوان روی میز است؟

$$\frac{x}{5} = \frac{8}{5}$$

$$156 \quad (4) \quad \frac{14}{1}$$

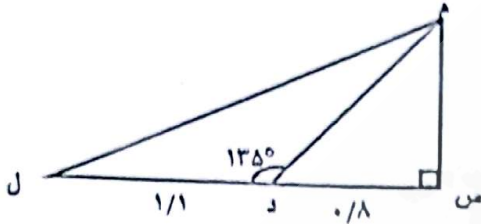
$$96 \quad (3) \quad \frac{14}{1}$$

$$72 \quad (2)$$

$$60 \quad (1)$$

۷۴- در شکل داده شده زاویه ی (م د ل) برابر ۱۳۵ درجه است. مساحت مثلث (م د ل) چند سانتی متر مربع است؟

(عدد ها بر حسب متر است)



$$8800 \quad (2)$$

$$2400 \quad (1)$$

$$88000 \quad (4)$$

$$24000 \quad (3)$$

۷۵- مریم و سمانه روی هم ۲۵۰۰۰ تومان پول داشتند. این پول متعلق به سمانه است. نسبت پول سمانه به مریم مثل به است.



$$10000 \text{ به } 15000 \quad (4)$$

$$5 \text{ به } 3 \quad (3)$$

$$15000 \text{ به } 10000 \quad (2)$$

$$5 \text{ به } 2 \quad (1)$$

۷۶- اگر مثلثی دارای دو زاویه ی ۴۵ درجه باشد و اندازه ی یکی از دو ضلع آن ۱۴ سانتی متر باشد، مساحت آن چه قدر است؟

$$\frac{14}{9^8}$$

$$49 \quad (4) \quad \frac{14}{14}$$

$$98 \quad (3)$$

$$69 \quad (2)$$

$$315 \quad (1)$$

۷۷- علی ۴۶ شکلات و حسین ۲۹ شکلات دارد. آن ها مقداری از شکلات های خود را به ناصر می دهند تا هر سه نفر شکلات مساوی داشته باشند. علی و حسین هر کدام چند شکلات به ناصر داده اند؟

$$2 \text{ و } 23 \quad (4)$$

$$3 \text{ و } 22 \quad (3)$$

$$5 \text{ و } 20 \quad (2)$$

$$4 \text{ و } 21 \quad (1)$$

۷۸- یازده کیلو برنج و دو رزله ی ۳۰۰ گرمی و یک ترازوی دو کفه ای داریم. حداقل با چند بار وزن کردن

می توان ۳ کیلو گرم برنج جدا کرد؟

$$\frac{2514}{100} = 25.14$$

$$5 \quad (4)$$

$$4 \quad (3)$$

$$3 \quad (2)$$

$$2 \quad (1)$$

۷۹- محیط مربعی ۹ و محیط مثلث متساوی الاضلاعی ۱۳ سانتی متر است. اختلاف ضلع دو شکل به کدام گزینه نزدیک تر است؟

$$\frac{13}{3} - \frac{9}{4} = \frac{52}{12} - \frac{27}{12} = \frac{25}{12} \quad (4) \quad 2/5$$

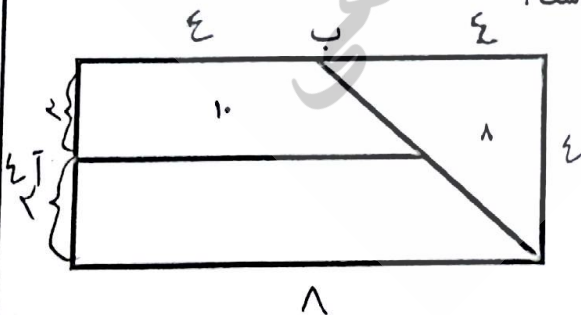
$$2/25 \quad (3)$$

$$2/0.8 \quad (2)$$

$$2/2 \quad (1)$$

۸۰- در شکل داده شده مساحت مثلث متساوی الساقین و دوزنقه ی کوچک، درون شکل نوشته شده اند. اگر نقاط (آ) و (ب)

وسط طول و عرض مستطیل باشند، مساحت کل شکل چند سانتی متر مربع است؟



$$32 \quad (2)$$

$$24 \quad (1)$$

$$64 \quad (4)$$

$$48 \quad (3)$$