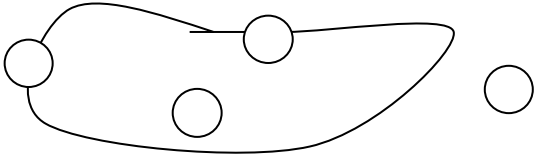


نام و نام خانوادگی : .....

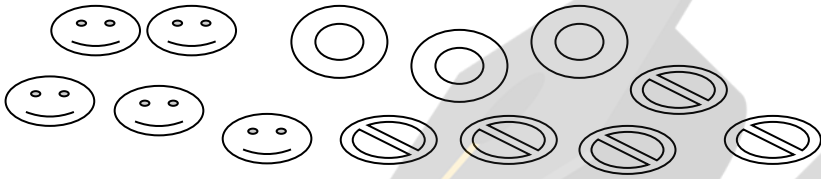
۱- خرگوش سمت راست را رنگ بزن .



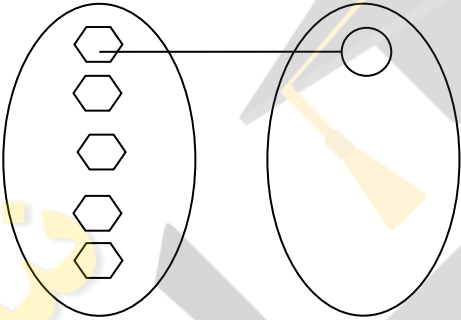
۲- گردی های روی خط بسته را رنگ بزن



۳- شکل های مثل هم را داخل خط بسته بگذار



۴- شکل زیر را کامل کن



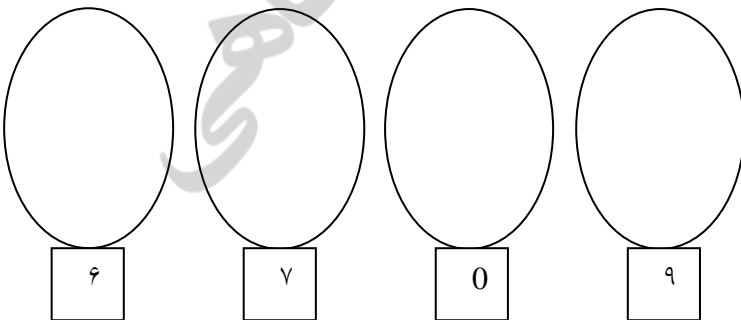
۵- خط های راست را رنگ بزن.



۶- روی شکلی که مثل بقیه نیست خط بزن



۷- به اندازه عدد داده شده شکل بکش



۸- در جای خالی علامت < = > بگذار.

۴  ۶

۹  ۸

۸  ۷

۷  ۷

۹- عدد های قبل وبعد عدد نوشته شده را بنویس.

		۷		
--	--	---	--	--

$۳ + ۴ = \dots\dots$

۷

۵

۱۰- جمع کنید.

$۲ + ۶ = \dots\dots$

$$\begin{array}{r} ۷ \\ + ۲ \\ \hline \end{array}$$

$$\begin{array}{r} ۵ \\ + ۴ \\ \hline \end{array}$$

۱۱- جاهای خالی را با حروف یا رقم بنویس.

	چهارده		سیزده
۱۹		۱۷	

$۸ - ۵ = \dots\dots$

۹

۷


۱۲- تفریق کنید.

$۸ - ۷ = \dots\dots$

$$\begin{array}{r} ۹ \\ - ۶ \\ \hline \end{array}$$

$$\begin{array}{r} ۷ \\ - ۴ \\ \hline \end{array}$$

۱۳- با توجه به شکل جدول را کامل کن و در جای خالی عدد مناسب بنویس.



	یکی
ده تایی	

..... ده تایی و ..... تا یکی

۱۴- کامل کن.

۱۸ می شود ..... ده تایی و ..... یکی

۱۲ می شود ..... ده تایی و ..... یکی

۱ ده تایی و ۴ یکی می شود .....

۱ ده تایی و ۳ یکی می شود .....

ارزیابی معلم: