


دوایه نیا ۲۰۰۰



«به نام خداش شاپرک ها»

اسم من ..... است . من از یاد گرفتن ریاضی لذت می برم .

۱) دختر نازم ، قسمت های مساوی را از هر طرف حذف کن و سپس علامت مناسب بگذار .



$$200 + 50 + 50 + 200 + 100 + 20 + 30 + 7 \quad \bigcirc \quad 100 + 8 + 100 + 10 + 200 + 20 + 100$$

۲) علامت (=) بگذار (در جمع و تفریق ها ابتدا حاصل را به دست بیاور بعد جواب ها را باهم مقایسه کن .)

$$..... = 670 - 200 \quad \bigcirc \quad 500 + 60 = ..... \quad 867 \quad \bigcirc \quad 887 \quad 123 \quad \bigcirc \quad 93 \quad ..... = 400 - 300 \quad \bigcirc \quad 80 + 20 = .....$$

۳) عزیزم ، ساعت مقابل را خوب نگاه کن و به سوالات پاسخ بده .



- الف) ساعت چند است ؟ .....
- ب) عقربه ی بزرگ چند دقیقه حرکت کند تا ساعت ۲ بشود ؟ .....
- ج) اگر عقربه ی بزرگ یک ربع حرکت کند ساعت چند خواهد شد ؟ .....
- (مقدار حرکت عقربه ی بزرگ را رنگ بزن)

۵) یک مستطیل بکش که درازای آن ۲۷ میلی متر و پهنای آن ۱ سانتی متر و ۵ میلی متر باشد .

۴) مینا با خط کش طول مداد رنگی هایش را اندازه گرفت .

مداد آبی ۱۴۷ میلی متر بود یعنی همان ..... سانتی متر و ..... میلی متر  
مداد زرد ۹ سانتی متر و ۴ میلی متر بود یعنی همان ..... میلی متر

۶) جمع و تفریق زیر را با رسم شکل انجام بده .

$$\begin{array}{r} 530 \\ - 287 \\ \hline \end{array}$$

.....

$$\begin{array}{r} 367 \\ + 157 \\ \hline \end{array}$$

.....

۷) سارا ۷۴۰ ریال داشت. یک مداد ۸۵ ریالی و یک دفترچه ی ۲۶۵ ریالی خرید چند ریال برایش باقی مانده است ؟

(الف)

(ب)

۸) الگوها را ادامه بده .  
..... - ..... - ..... - ..... - ..... - ..... - ..... - ..... - ..... - .....  
۵۷۵ - ۵۸۰ - ۵۸۵ -

..... - ..... - ..... - ..... - ..... - .....  
۶۰ - ۱۶۰ - ۲۶۰ -

..... - ..... - .....  
۲۰ - ۲۱ - ۲۴ -

۹) قد محسن ۱۵۳ سانتی متر است . قد خواهرش مینا ۲۶ سانتی متر از او کوتاه تر است . قد خواهرش چند سانتی متر است ؟

۱۰) عددی سه رقمی هستیم که رقم یکانم ۲ ، صدگانم ۵ و دهگانم حاصل جمع یکان و صدگان است .

مرا به رقم و حروف بنویس . بارقم ..... باحروف ..... ( از جدول استفاده کن )

\* حالا با رقم های من بیشترین عدد سه رقمی را که می توان نوشت ، بنویس .

۱۱) حاصل این جمع و تفریق را به روش گسترده نویسی به دست بیاور .

$$\begin{array}{r} - ۸۵۷ \\ ۵۱۴ \\ \hline \end{array}$$

$$\begin{array}{r} + ۳۵۶ \\ ۴۲۳ \\ \hline \end{array}$$

نظر معلم :

موفق باشی



نام زیباییت : .....  
 آزمون ریاضی پایه دوم / فروردین ماه /



فرزند با هوشم با توجه به شکل کامل کن .

دسته ..... تایی

دسته ..... تایی



به اندازه ای که در هر جمله خواسته شده از شکل ها رنگ کن .

ربع دایره را رنگ کن

۳ قسمت از ۴ قسمت مساوی

۲ قسمت از ۶ قسمت مساوی

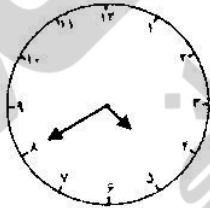


در یک سبد ۵ تا توپ صورتی و ۳ تا توپ آبی است .

..... توپ از ..... توپ ؛ صورتی است .

..... توپ از ..... توپ ؛ آبی است .

اگر بخواهیم یک توپ به طور شانس از سبد برداریم احتمال توپ چه رنگی بیشتر است؟ چرا؟



ساعت ..... و ..... دقیقه است .

یعنی ..... دقیقه مانده به ..... است .

ده دقیقه قبل ساعت ..... و ..... بود .

با سه رقم ۵ ، ۳ و ۸ بزرگ ترین عدد سه رقمی را بنویس که دهگان آن کمتر از یکانش باشد .

هر واحد این محور به ..... قسمت مساوی تقسیم شده است .

یعنی نقطه ی مشخص شده ..... واحد و ..... قسمت از ..... قسمت مساوی است .



$262$	$692$	$318$	$407$	$614$	جمع و تفریق های زیر را انجام بده .
$+ 59$	$- 7$	$+ 298$	$- 314$	$- 185$	
<hr/>	<hr/>	<hr/>	<hr/>	<hr/>	به علامت ها توجه کن !

زینب ۱۲۸ ریال عیدی گرفته بود . حدیث ۴۵ ریال پیش تر عیدی دارد . عیدی های زینب و حدیث چند ریال است ؟

حدیث ..... ریال عیدی دارد .

عیدی های زینب و حدیث ..... ریال است .



در جای خالی عدد مناسب بنویس .

۳۹ میلی متر یعنی ..... سانتی متر و ..... میلی متر




۱۸ میلی متر یعنی ..... سانتی متر و ..... میلی متر

۷ سانتی متر یعنی ..... میلی متر

۶ سانتی متر و ۸ میلی متر یعنی ..... میلی متر

درسا ۳ سکه ۱۰ ریالی و ۲ سکه ۵ ریالی و ۶ سکه ۱ ریالی دارد . او یک مداد به قیمت ۱۸ ریال خرید . چند ریال برای درسا باقی مانده است ؟



احساس دانش آموز از آزمون :   

نظر آموزگار.....

مواردی که احتیاج به تمرین بیشتر داری.....