

نام: به نام خدا
 نام خانوادگی:
 ریاضی دوم دبستان کلاس:

صفحات: تا آخر صفحه‌ی ۷۱

الف) جمله‌های درست یا نادرست را با علامت ✓ مشخص کن.

درست	نادرست
<input type="checkbox"/>	<input type="checkbox"/>
<input type="checkbox"/>	<input type="checkbox"/>
<input type="checkbox"/>	<input type="checkbox"/>
<input type="checkbox"/>	<input type="checkbox"/>

۱- عدد ۳۵۱ به ۴۰۰ نزدیک‌تر است تا ۳۰۰

۲- یک ربع، همان ۱۵ دقیقه است.

۳- باز شده‌ی عدد ۴۷۲ به صورت $(۲۰۰ + ۷۰ + ۴)$ است.

۴- در شمارش صد تا صد تا، بعد از عدد ۴۰۰، عدد ۵۰۰ است.

ب) هر عدد با حروف را به رقمی که مساوی آن است وصل کن.

هفت صد و شش

هشت صد و شصت و شش

شش صد و شصت

۸۶۶

۶۶۰

۷۰۶



ج) پاسخ درست را با علامت ✓ مشخص کن.

۱- برای جمع کردن $(۵۰۰ + ۳۰۰)$ ، کدام عملیات انجام می‌شود؟

الف) ۵ ده تایی با ۳ صد تایی جمع می‌شود

ب) ۵ صد تایی با ۳ صد تایی جمع می‌شود

ج) ۵ ده تایی با ۳ ده تایی جمع می‌شود

۲- حاصل کدام عبارت، از بقیه بیش‌تر است؟

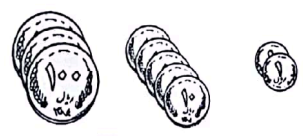
الف) $(۷۰۰ - ۲۰۰)$ ب) $(۴۰ + ۱۰)$

ج) $(۴۰۰ - ۱۰۰)$ د) $(۲۰۰ + ۱۰۰)$

۳- مقدار پول در کدام گزینه، درست است؟

الف) ۲۵۳ ب) ۵۲۳

ج) ۵۳۲ د) ۳۵۲



۴- در شمارش ده تا ده تا، قبل از ۴۸۰ چه عددی است؟

الف) ۴۷۰ ب) ۴۹۰

ج) ۴۶۰ د) ۴۵۰





د) در جای خالی عدد یا کلمه‌ی مناسب بنویس.

- ۱- چهار ضلعی که همه‌ی ضلع‌های آن باهم برابر باشد، نام دارد.
- ۲- بیش‌ترین عدد سه رقمی با رقم‌های ۵، ۰ و ۱ عدد است.
- ۳- نیم ساعت بعد از ساعت ۸:۳۰ ساعت است.
- ۴- عدد ۶۲۳ با حذف رقم یکان و دهگان، عدد خواهد بود.



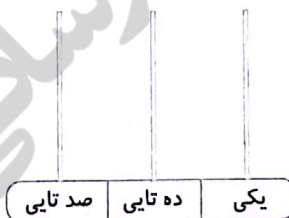
ه) به پرسش‌های زیر، پاسخ کوتاه بده.

- ۱ بیش‌ترین عدد سه رقمی را بنویس.
- ۲ کم‌ترین عدد سه رقمی را بنویس.
- ۳ برای یک مربع، چند خط تقارن می‌توان رسم کرد؟
- ۴ در ساعت چهار و نیم، عقربه‌ی بزرگ روی چه عددی است؟



و) به پرسش‌های زیر، پاسخ کامل بده.

- ۱ عدد ۲۱۶ را روی چرتکه‌ی زیر نشان بده.




- ۲ با دو کارت ۶ و ۱ بیش‌ترین و کم‌ترین عدد دو رقمی را بنویس و اختلاف آن‌ها را پیدا کن.

۲



۳ نام هر شکل را زیر آن بنویس سپس یک شباهت و یک تفاوت آن‌ها را بنویس.



.....

.....

شباهت:

تفاوت:

۴ زهرا ۴۹ شکلات دارد. او ۲۶ شکلات دیگر از مغازه خرید تا در جشن یادگیری عدد صد از دوستانش پذیرایی کند. زهرا چند شکلات دارد؟



۵ عدد ۶۵۸ را در جدول ارزش مکانی قرار بده و سپس آن را با حروف بنویس.

صدگان	دهگان	یکان

با حروف:

۶ عددهای روی محور را با توجه به الگو ادامه بده. سپس محل تقریبی عددهای ۷۱۰ و ۳۵۰ را روی محور مشخص کن.

